



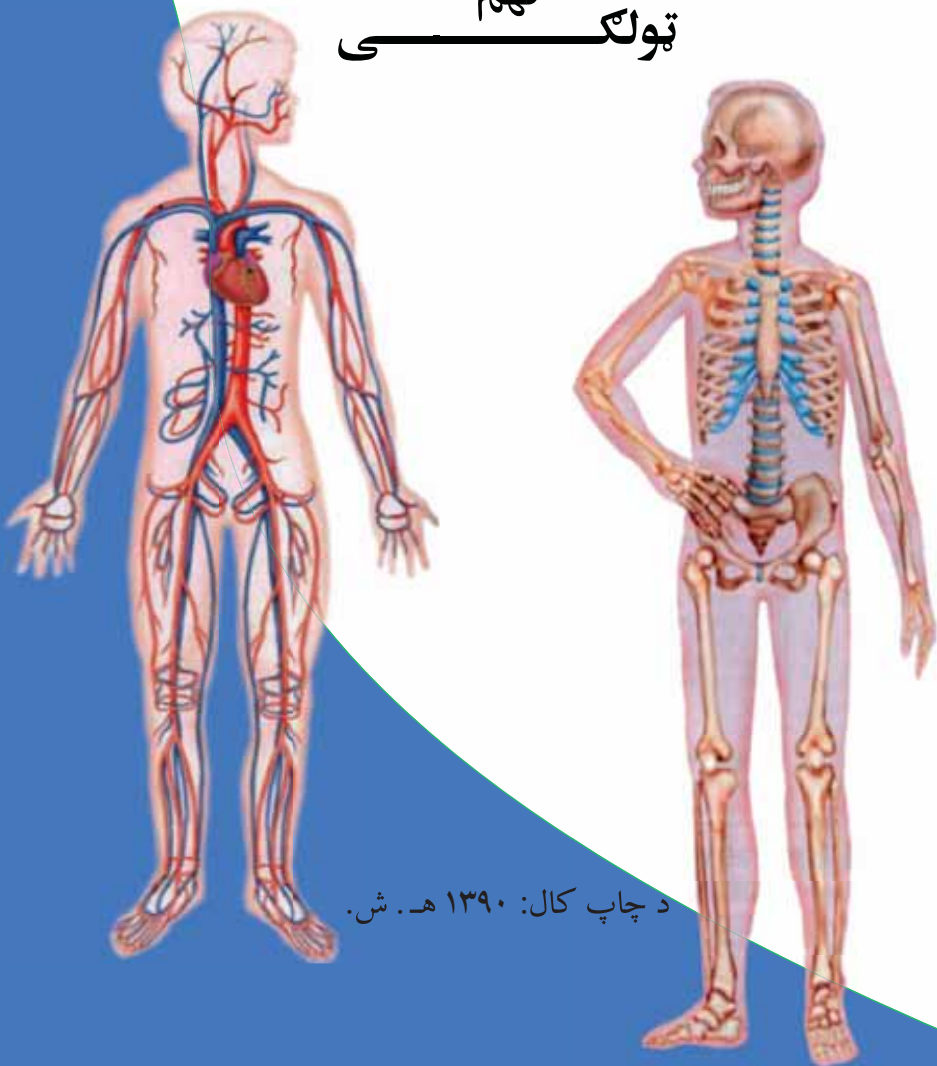
د پوهنې وزارت

د تعلیمي نصاب، د ښوونکو د روزنې او د ساینس د مرکز معینیت
د تعلیمي نصاب د پراختیا او درسي کتابونو د تالیف عمومي ریاست

بیولوژی

B I O L O G Y

ټولګه نهم



د چاپ کال: ۱۳۹۰ هـ. ش.

د پوهنې وزارت

د درسي کتابونه د پوهنې په وزارت پورې اړه لري،
په بائراس کې يې اخیستنه او خرڅونه په کلکه منع ده.
له سر غرونکو سره قانوني چلند کيږي.





د پوهنې وزارت

د تعلیمي نصاب د پراختیا، د ښوونکو د روزنې او د ساینس د مرکز معینیت
د تعلیمي نصاب د پراختیا او درسي
کتابونو د تالیف لوی ریاست

بیولوژي

B i o l o g y

پښه والگی

د چاپ کال: ۱۳۹۰ هـ. ش

الف

ليکوالان:

پوهاند داکتر عبدالودود گلستاني دکابل پوهنتون استاد.

حیات الله ناصر د پوهني وزارت د علمي شورا او د درسي کتابونو د تالیف د پروژې غړی.

سید مورچو د شلمه سیمې د تعلیمي نصاب د پراختیا د پروژې د تم غړی

د سر مؤلف مرستیال علي الله جیل د تعلیمي نصاب د پراختیا او درسي کتابونو د تالیف د ریاست علمي غړی

د مؤلف مرستیال غلام حسین سلیمانزي د تعلیمي نصاب د پراختیا او درسي کتابونو د تالیف د ریاست علمي غړی

علمي اديتور:

داکتر محمد صابر د درسي کتابونو د تالیف د پروژې غړی.

د ژبې اديتور:

محمد قاسم جمله من د پوهني وزارت د تعلیمي نصاب د پروژې د ملي غړی

د خپرنې او تدقیق کمیټه:

پوهنوال دکتور عبدالهادی ستانکزی د تعلیم او تربیې د پوهنتون استاد

پوهندوی عبدالقدوس نایمی د تعلیم او تربیې د پوهنتون استاد

اسدالله فروغ د تعلیم او تربیې د پوهنتون استاد

دیني، سیاسي او فرهنگي کمیټه:

- مولوي عبدالصبور عربي

- دکتور محمد يوسف نیازی

- حبیب الله راحل د پوهني وزارت سلاکار د تعلیمي نصاب د پراختیا په ریاست کې.

د څارني کمیټه:

– دکتور اسدالله محقق د تعلیمي نصاب د پراختیا، د بنوونکو د روزنې او د ساینس مرکز معین.

– دکتور شیرعلي طرفي د تعلیمي نصاب د پراختیا د پروژې مسؤول.

– د سر مؤلف مرستیال عبدالظاهر گلستاني د تعلیمي نصاب د پراختیا او درسي کتابونو د

تالیف لوی رئیس.

طرح او دیزاین:

رحمت الله غفاری او حمیدالله غفاري





ملي سرود

دا وطن افغانستان دی دا عزت د هر افغان دی
کور د سولې کور د توري هر بچی پي قهرمان دی
دا وطن د ټولو کور دی د بلوڅو د ازبکو
د پښتون او هزاره وو د ترگمنو د تاجکو
ورسره عرب، گوجر دي پامیریان، نورستانیان
براهوي دي، قزلباش دي هم ایماق، هم پشه یان
دا هیواد به تل ځلېږي لکه لمر پر شنه اسمان
په سینه کې د اسپا به لکه زړه وي جاویدان
نوم د حق مو دی رهبر وایو الله اکبر وایو الله اکبر

بسم الله الرحمن الرحيم

د پوهنې د وزير پيغام گرانو ښوونکو او زده کوونکو،

ښوونه او روزنه د هر هېواد د پراختيا او پرمختگ بنسټ جوړوي. تعليمي نصاب د ښوونې او روزنې مهم توکي دی چې د معاصر علمي پرمختگ او ټولني د اړتياوو له مخې رامنځته کېږي. څرگنده ده چې علمي پرمختگ او ټولنيزې اړتياوې تل د بدلون په حال کې وي. له دې امله لازمه ده چې تعليمي نصاب هم علمي او رغنده انکشاف ومومي. البته نه ښايي چې تعليمي نصاب د سياسي بدلونونو او د اشخاصو د نظريو او هيلو تابع شي.

دا کتاب چې نن ستاسو په لاس کې دی، پر همدې ارزښتونو چمتو او ترتيب شوی دی. علمي گټورې موضوعگانې پکې زياتې شوې دي. د زده کړې په بهير کې د زده کوونکو فعاله ساتل د تدرسي پلان برخه گرځېدلې ده.

هيله من يم دا کتاب له لارښوونو او تعليمي پلان سره سم د فعالې زده کړې د ميتودونو د کارولو له لارې تدریس شي او د زده کوونکو مينډې او پلرونه هم د خپلو لورنو او زامنو په باکفېته ښوونه او روزنه کې پرله پسې گډه مرسته وکړي چې د پوهنې د نظام هيلې ترسره شي او زده کوونکو او هېواد ته ښې برلاوې ور په برخه کړي.

پر دې ټکي پوره باور لرم چې زموږ گران ښوونکي د تعليمي نصاب په رغنده پلي کولو کې خپل مسؤوليت په رښتوني توگه سرته رسوي.

د پوهنې وزارت تل زيار کاږي چې د پوهنې تعليمي نصاب د اسلام د سپېڅلي دين له بنسټونو، د وطن دوستۍ، د پاکې حس په ساتلو او علمي معيارونو سره سم د ټولني د څرگندو اړتياوو له مخې پراختيا ومومي. په دې وگړ کې د هېواد له ټولو علمي شخصيتونو، د ښوونې او روزنې له پوهانو او د زده کوونکو له ميندو او پلرونو څخه هيله لرم چې د خپلو نظريو او رغنده وړانديزونو له لارې زموږ له مؤلفانو سره د درسي کتابونو په لا ښه تاليف کې مرسته وکړي.

له ټولو هغو پوهانو څخه چې د دې کتاب په چمتو کولو او ترتيب کې يې مرسته کړې، له ملي او نړيوالو درنو مؤسسو او نورو دوستو هېوادونو څخه چې د نوي تعليمي نصاب په چمتو کولو او تدوين او د درسي کتابونو په چاپ او وپېش کې يې مرسته کړې ده، مننه او درناوی کوم.

ومن الله التوفيق

فاروق وردگ

د افغانستان د اسلامي جمهوريت د پوهنې وزير

لومړی څپرکی



۱	لومړي څپرکي د هاضمې سيستم
۲	د هضمي سيستم جوړښت او دنلې بې
۵-۳	هضم په خوله کې
۷-۶	مری، معده، هضم په معده کې
۸	هضم او جذب په وړو کولمو کې
۹	غټي کرلې، د هضمي سيستم ناروغي
۱۰	د اپنډکس ميکروبي کيډل
۱۰	د هضمي سيستم د روغتيا ساتنه(حفظ الصحه)
۱۲-۱۱	د لومړي څپرکي لنډيز، د لومړي څپرکي پوښتي
۱۳	د لومړي څپرکي تنفسي سيستم
۱۷-۱۴	د تنفسي سيستم جوړښت او دنلې
۱۸	د تنفسي سيستم ځينې ناروغي
۲۰-۱۹	د دويم څپرکي لنډيز، د دويم څپرکي پوښتي
۲۱	د درېم څپرکي د وينې د دوران سيستم
۲۵-۲۲	وينه، د وينې اجزاي
۲۸-۲۶	زره، د زره جوړونه
۲۹	لمف
۳۰	د وينې دوران ستونزي
۳۲-۳۱	د درېم څپرکي لنډيز، د درېم څپرکي پوښتي
۳۳	څلورم څپرکي د اطراحيې سيستم
۳۶-۳۴	د بدن د حجرو ضايعات، د بولي سيستم غړي
۳۷-۳۶	د پښتورگو جوړښت
۳۸	د تشو بولو جوړېدل او د پښتورگو ستونزي
۴۰-۳۹	د پښتورگو د درملنې نوي لارې
۴۲-۴۱	د څلورم څپرکي لنډيز، د څلورم څپرکي پوښتي
۴۳	پنځم څپرکي د هډوکو او عضلاتو سيستمونه
۴۴	سکليټ
۴۵	د هډوکو دنلې، د هډوکو جوړښت
۴۹-۴۷	د هډوکو ډولونه، عضروف، مفصلونه
۵۰	سکليټي ناروغي او زيانونه
۵۲-۵۱	عضلات(غړي)
۵۵-۵۴	د عضلاتي فعاليتونو ډولونه
۵۶	د عضلاتو زيانونه
۶۸-۶۷	د پنځم څپرکي لنډيز، د پنځم څپرکي پوښتي
۵۹	شپږم څپرکي عصبي سيستم او حسي غړي
۶۷-۶۰	عصبي سيستم
۷۶-۶۸	حسي غړي

۱	۱
۲	۲
۳	۳
۴	۴
۵	۵
۶	۶
۷	۷
۸	۸
۹	۹
۱۰	۱۰
۱۱	۱۱
۱۲	۱۲
۱۳	۱۳
۱۴	۱۴
۱۵	۱۵
۱۶	۱۶
۱۷	۱۷
۱۸	۱۸
۱۹	۱۹
۲۰	۲۰
۲۱	۲۱
۲۲	۲۲
۲۳	۲۳
۲۴	۲۴
۲۵	۲۵
۲۶	۲۶
۲۷	۲۷
۲۸	۲۸
۲۹	۲۹
۳۰	۳۰
۳۱	۳۱
۳۲	۳۲
۳۳	۳۳
۳۴	۳۴
۳۵	۳۵
۳۶	۳۶
۳۷	۳۷

۷۸-۷۷	د شپږم څپرکي، لنډيز، د شپږم څپرکي پوښتنې	۲۸
۷۹	اووم څپرکي د اندوکراين سيستم	۳۹
۸۶-۸۰	د اندوکراين سيستم انسولين، د گلکوزگان هورمون	۴۰
۸۸-۸۷	د اووم څپرکي لنډيز، د اووم څپرکي پوښتنې	۴۱
۹۰-۸۹	اتم څپرکي تکثري سيستم	۴۲
۹۱	نړيه تکثري سيستم	۴۳
۹۴-۹۲	پنځينه تکثري سيستم	۴۴
۹۵	د حيض دوران، القاح، اميدواري	۴۵
۹۹-۹۶	د جنسي يو ځلي کېدلو د لارې د ناروغو ليرېدل	۴۶
۱۰۲-۱۰۰	د اتم څپرکي لنډيز، د اتم څپرکي پوښتنې	۴۷
۱۰۴-۱۰۳	نهم څپرکي د چاپيريال ستونزې او حل يې	۴۸
۱۰۵	د چاپيريال ککړتياوې	۴۹
۱۱۰-۱۰۶	د چاپيريال د ستونزو هواري	۵۰
۱۱۲-۱۱۱	د نهم څپرکي لنډيز، د نهم څپرکي پوښتنې	۵۱
۱۱۴-۱۱۳		۵۲

سرچيزه

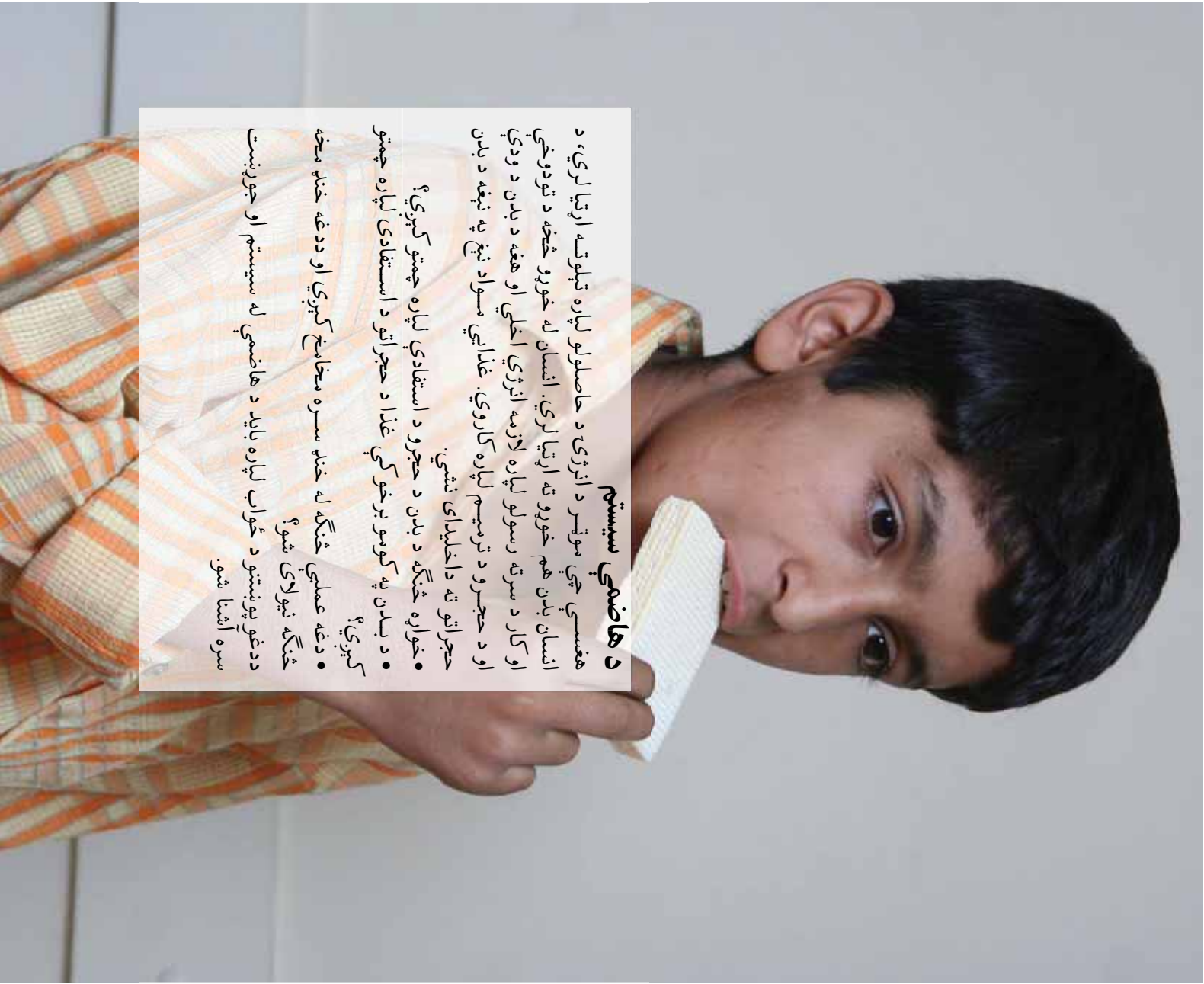
کړانو زده کوونکو، ناسي هره ورځ د راډيو، ټلويزيون، ورځپاڼو او مجلو له لارې د مختلفو ناروغيو، لکه: انفلاونزا، ايډز يا د بياروونو هوار د ککړتيا، د چاپيريال د ککړتياو د مختلفو ډولونو، د ننه يي توکو زيانونو، د انسانانو د روغتيا لپاره د ميوو او سبزو او گڼو او نورو په هکله خبرونه اورېدلي يا لوستي دي، بنايي له ځينو پوښتنو سره مخامخ شي، لکه: آيا پوهيږئ ولې ناروغ کېږي او ډاکټر ته ځي؟ هغه نياکي چې مو کړلي دي څو مياشتي وروسته پکې توپيرونه ليدلای شئ؟ ولې اولاد مور او پلار ته ورته والی لري؟ پورتنیو او دې ته ورته نورو پوښتنو ته د بيولوژي علم ځواب وايي.

هغه علم چې ژوندي موجودات او له چاپيريال سره د هغوی متقابلې عمليې څېړي د بيولوژي د نامه يادېږي. بيولوژي د طبيعي علومو يوه څانگه ده. ددې علم مطالعه موز سره د ژونديو موجوداتو په جوړښت، ځانگړتياوو او پېژندنه کې مرسته کوي. د چاپيريال او شخصي حفظ الصحې رعايت او مناسب خوراک چې زموږ د صحت او سلامتيا د ساتلو لامل کېږي، لارښوونه کوي ځان او خپل چاپيريال ښه وپېژنو د بيولوژي کتاب داسې ليکل شوی دی، چې کړانو زده کوونکو لپاره په زړه پورې موضوعگانو او مضمونونو د وضاحت اوښي څرگندتيا او درک وړ وي او تاسو سره به د حقايقو او مفهمومونو په پوهېدلو کې مرسته وکړي. په دې کتاب کې د لانيې څرگندتيا په موخه انځورونه، جدولونه، فعاليتونه او اضافي معلومات راوړل شوي دي. د يادولو وړ ده چې د بيولوژي علم د پلټنې، مشاهدې او تجربو پر بنسټ ولاړ دی. نشو کولای مطالب، مشاهدې او تجربې او د لازمو مهارتونو د سرته رسولو څخه پرته يوازې حافظې ته وسپارو؛ له دې کبله ددې کتاب په هر څپرکي کې فعاليتونه په پام کې نيول شوي دي.

د نهم ټولگي د بيولوژي کتاب نهه څپرکي لري چې عمده مفاهيم يې عبارت دي:

د هاضمې سيستم، تنفسي سيستم، د ونډې د دوران سيستم، اطراح سيستم، عصبي سيستم او غړي، اندوکراين سيستم، تکثري سيستم او ايکولوژي.

هيله من يو د پورته هر يو مفهوم په باره کې د هغوی په جزياتو باندې زياته پوهه ترلاسه کړي.



د هاضمې سیستم

هغسې چې موټر د انرژۍ د حاصلولو لپاره تېلونه اړتیا لري، د انسان بدن هم خورونو ته اړتیا لري. انسان له خورونو څخه د تودوخې او کار د سرته رسولو لپاره لازمه انرژي اخلي او هغه د بدن د ودې او د حجرو د ترمیم لپاره کاروي. غذایی مواد نیغ په نیغه د بدن حجراتو ته داخلیدای نشي.

- خوږه څنگه د بدن د حجرو د استفادې لپاره چمتو کېږي؟
- د بدن په کومو برخو کې غذا د حجراتو د استفادې لپاره چمتو کېږي؟
- دغه عملي څنگه له څنډه سره مخامخ کېږي او ددغه څنډه مخه څنگه نیولای شو؟
- دغو پوښتنو د ځواب لپاره باید د هاضمې له سیستم او جوړښت سره آشنا شو.

د هضمي سیستم جوړښت او دندې

د انسان بدن خواړه له جذب څخه د هغه په کوچنیو ذرو باندې توپتي کوي، چې بیا د بدن د استفادې وړ گرځي. دغې عملې ته هضم ویل کېږي. هضم د هضمي سیستم له لارې

سر ته رسېږي. لکه چې د هغه مو زده کړې دي،

دغه سیستم دوي برخې لري. لوېږې برخه یې یو هضمي تیوب دی چې د خولې تشه، کومې

مړۍ، معده او کولمې په کې شاملې دي.

دویمه برخه یې هضمي غدې دي، لکه د خولې د لارو غدې، د معدي غدې، پنه او د پانکراس

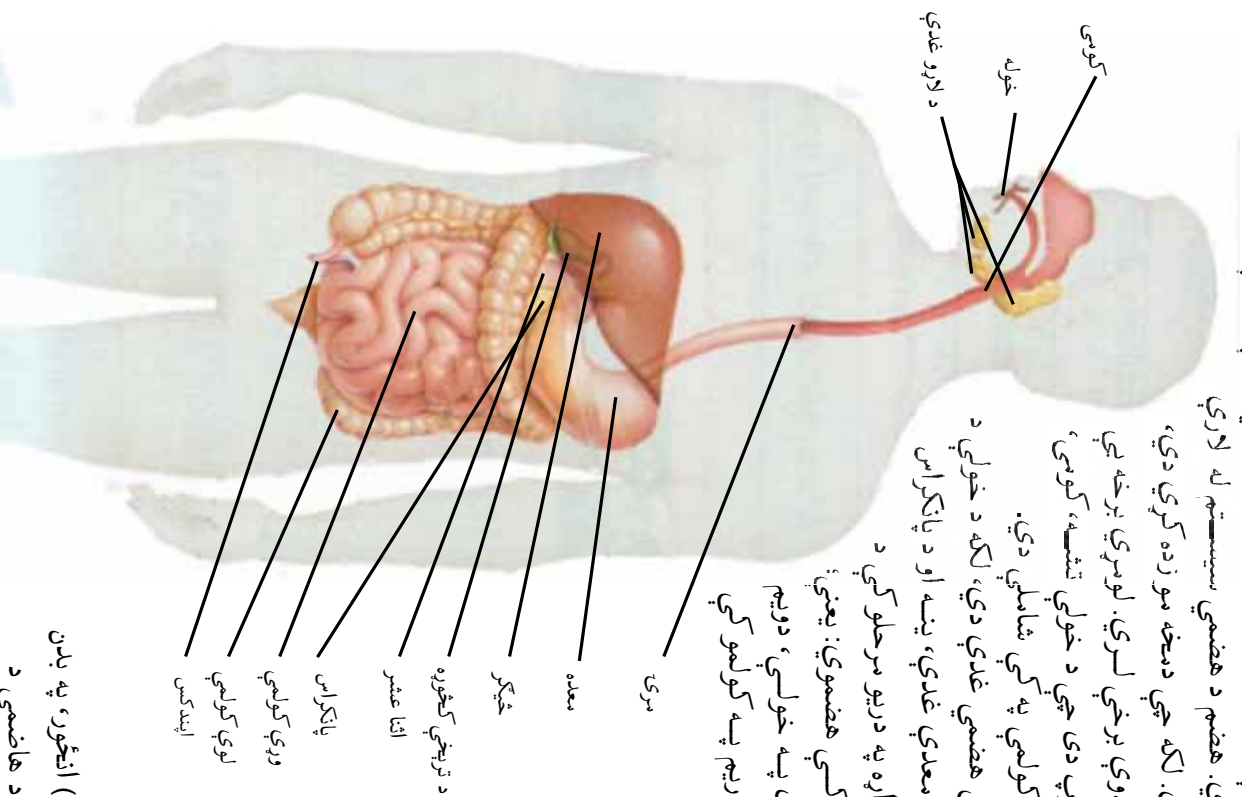
غده، چې خواړه په دريو مرحلو کې د

انسان په بدن کې هضموي: یعنې؛

خواړه لوېږې په خولې، دویم

په معدي او دریم په کولمو کې

هضمېږي.



(۱-۱) انځور، په بدن
کې د هاضمې د
سیستم د غړو موقعیت

هضم په خوله کې:

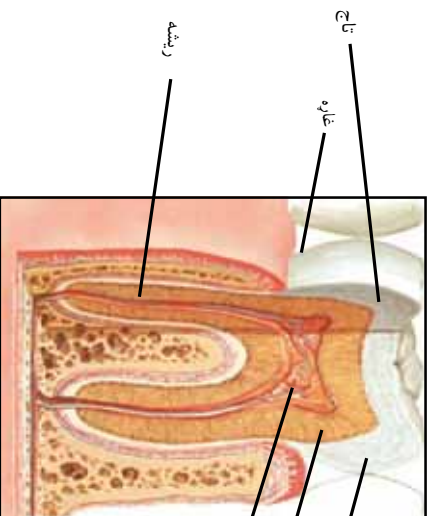
خواره په خوله کې د میخانیکي او کیمیاوي عملیو په واسطه هضمیږي. غاښونه خواره په وړو ټوټو میده کوي؛ د خولي لارې خواره لمدوي او خواره مواد یې تر یوري اندازی هضموي.

د خولي په تش ځای کې کوم جوړښت موجود دی؟

غاښونه: په انسانانو کې دوه ډوله غاښونه وده کوي. یو د شپډو غاښونه چې له ششپړ میاشتی څخه تر درې کلنۍ پورې راوځي. دغه غاښونه شل دانې وي او له اووه کلنۍ څخه تر دیارلس کلنۍ پورې په تدریجي ډول لوېږي او همیشني غاښونه یې ځای نیسي. د همیشنيو غاښونو شمیر تر ۳۲ دانو پورې رسېږي، چې ۱۶ دانې یې په پاستۍ ژامې او ۱۶ دانې یې په لاندنۍ ژامې کې دي. دا غاښونه له ۲۰ څخه تر ۲۵ کلنۍ پورې وده کوي.

د غاښونو جوړښت:

هر غاښ له دريو برخو، لکه ټاج، غاړه او رینډي څخه جوړ شوی دی. د غاښ رینډي د وړيو دننه په پاستۍ او لاندنۍ ژامو کې موقعیت لري. د غاښ مخ د مینا په نامه د یوې کلکې مادې په واسطه پوړن شوی دی. د هغه لاندې د غاښ عاج موقعیت لري. چې د مینا په پرتله نرم دی. د غاښ په دننه برخه کې عصبي رشتې او د وینې رگونه موجود دي. (۱۳۱) شکل ته ځیر شئ.



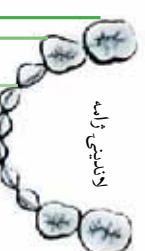
ټاج
غاړه
ریشه

مینا
عاج
عصبي رشتې او ویني رگونه

(۱۳۱) انځور د غاښ جوړښت




پاستۍ ژامه



لاندنۍ ژامه

الټ د شپډو غاښونه



کروچي آسباب غاښونه

لوی آسباب

انډاب



پاستۍ ژامه



لاندنۍ ژامه

ب همیشني غاښونه
(۱۳۲) انځور د شپډو او دايمي غاښونو موقعیت

د غاښونو ډولونه:

په هره ژامه کې د مځني څلور غاښه د ټټايا په نامه يادېږي چې د خوړو په پرې کولو کې اهميت لري. د ټټايا په دواړو خواوو کې د اڼياب په نامه يوه جوړه غاښونه، چې تر ټولو اوچت او خوکه يې تيره وي، شته او د خوړو په پرې کولو کې ونډه لري. د هغه تر شا د کوچني آسياب په نامه دوه جوړې غاښونه او د هغه تر څنگ د لوی آسياب په نامه درې جوړې غاښونه شته چې د خوړو د سيده کولو او نرمولو دنده لري.



فعاليت:

د (۱۳) شکل په ليدو سره د ځوانانو غاښونه په پام کې ونيسئ او لاندې جدول په خپلو کټاچوکې وکړئ.

د غاښونو ډولونه	شمېر	د غاښونو دندې



فکر وکړئ

خواره څرنگه د غاښونو د خرابېدو لامل کېږي؟

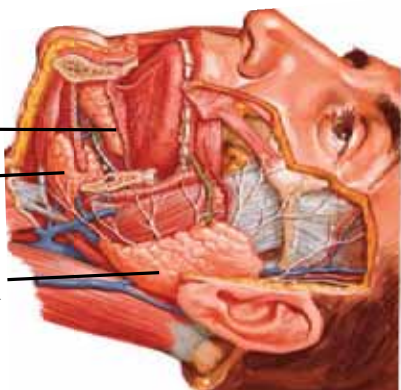
ژبه

ژبه څلور اصلي خوندونه، لکه خوړوالی، تړيووالی، تريخوالی او مالکيتوالی معلوموي. پر سيمه پر هغه خواره په خولې کې لاندې باندې کوي، د خولې لارې ورسره گډوډي او همدا راز د خبرو کولو يوه وسيله ده.

د لارو (لعايه) غدې

د خولي دنده درې غدې موجودې دي چې په خوله کې دخورو له ننوتلو سره سم فعالېږي او لارې ترشح کوي. بوي، خوند او ځيني وخت د خورو په هکله فکر کول هم دغه غدې فعالوي. د خولي لارې لاندې دندې تر سره کوي:

- ۱- خواره اوبلن او پستوي تر څو خوند يې معلوم او تېرېدل يې آسانه شي.
- ۲- د امپايليز د انزائم په درلودو سره نشايسته پر کوچنيو ماليکولونو بدلوي.
- ۳- تر يوې اندازې پورې د غاښونو مخ له بکتريا او غذايي موادو څخه پاکوي

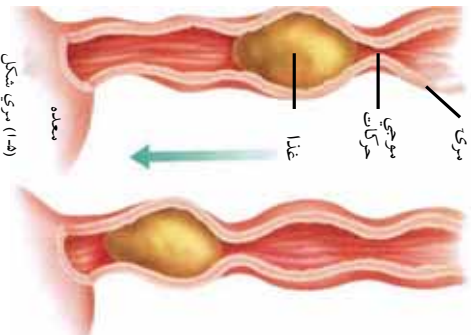


(۳-۱) انځور د خولي د لارو غدې

کوهی (حلقوم):

ژول شمې خواړه د ژبې په مرسته کوهي ته داخلېږي. کوهی مری د خولي سره نښلوی. د پوزې سورې او توکې (حنجره) هم د کوهي سره اړیکه لري. د خوړو د تېرېدو په مهال د کوهي نه مری ته د پوزې سورې د ژبکې (Uvula) او تنفسي لاره د کوهي د ژبې د وروستي برخې (Epiglottis) په واسطه بندېږي، چې توکې (حنجرې) ته د خوړو د ننوتو مخه نیسي. سترگې پوزې ته او له هغې لارې کوهي ته لاره لري. منځنۍ غوړ هم کوهي ته لاره لري.





(۱۰۰) مری شکل

مری:
 مری د عضلي یو تیوب دی چې په یو بالغ شخص کې ۲۵ cm څه اوږدوالی لري. د مری غیر ارادي حلقوي حرکتونه گېټه یې ته د خوړو د پورې وهلو لامل ګرځي. دغه حرکتونه د موجي حرکتونو په نامه یادېږي. د مری موجي حرکتونه په ځینو حیواناتو کې (زرافه او اوزن) د اوبو د څښلو پر مهال په څرګند ډول لیدل کېږي.

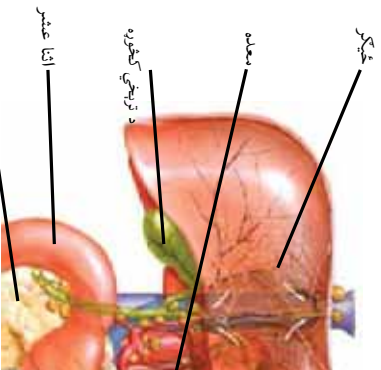
فعالیت:



د اړینو وسایلو او موادو تست تیوب درې دانې، څاڅکی څڅوړونکی، ترماسټر، نشایسته، د آیودین محلول، اوبه او د تودوخې زېرمه.
تګلاره: په یو لوبښي کې لږې اوبه او لږه نشایسته واچوئ او سره ګډې کړئ. د نشایستي څلوېښت څاڅکي محلول په تست تیوب کې واچوئ او د آیودین د مايع يو څاڅکی پرې زیات کړئ. د محلول په رنگ کې څه تغیر را منځ ته کېږي؟
 اوس د خولې د لارو لس څاڅکي پرې زیات کړئ او د خو شسبو لپاره یې د سائینګراد په څلوېښتو درجو کې وساتئ. څه پېښېږي؟ آیا تر اوسه پورې په محلول کې نشایسته موجوده ده؟
 تجربه تکرار کړئ. دا ځل په تست تیوب کې د خولې لارې مه ورزیاتوئ او تود یې وساتئ. آیا بیا هم د محلول رنگ تغیر مومي؟ دواړه تجربې پرته او نتیجه یې ولېکئ.

معدنه:

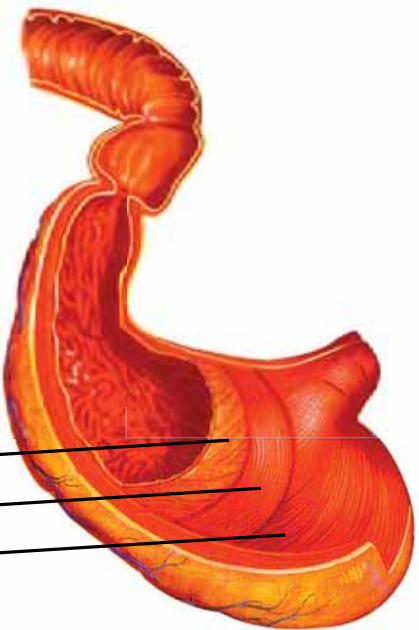
معدنه یو اړتجاعي عضلاتي غړی دی چې د نس کېن خوا ته او تر حجاب حاجز لاندې د پټې (څټګر) ترڅنګ ځای لري. د معدې ځینې برخې د پټر د پتجری د هډوکو په واسطه ساتل کېږي. د معدې دېوال له درې پوره بڼو یو عضلاتي طبقو (طولي، حلقوي او مایل) څخه جوړ شوی دی، چې د نوموړو عضلو انقباض او انبساط د معدې د موجي حرکتو لامل کېږي او د معدې موجي حرکات د خوړو له هضمي شپږي سره د خوړو د مخلوطولو او کولمو ته یې د لېږدولو لامل ګرځي.



(۱۰۱) انټور څټګر او پانکراس سره د معدې اړیکې

هضم په معدده کې:

کله چې خواړه د سرې وروستي برخې ته ورسېږي، د خوړو د فشار له کبله د معددي خوله خلاصه او خواړه معددي ته ننوزي. د معددي خوله سمندستي بېرته تړل کېږي چې



د خوړو د بېرته وتلو مخنیوی وکړي.

د معددي د ديوال غدې د مالګې تیزاب يا هایدروکلوريک اسيد (HCL) تولیدوي چې د معددي د موجي حرکاتو په مرسته خواړه په کې حل او د مایع په بڼه تبدیلېږي.

(۱-۲) انځور د معددي د ديوال پورته

معدده کولای شي له دوو څخه تر څلورو لیټرو پورې هضمي توکو ته ځای ورکړي او په تدریجي ډول د هضم او جذب لپاره مناسب مقدار ورو کولمو ته ولېږدوي. د معددي ديوال د پیپسینو جن غیر فعال انزایم ترشح کوي چې د معددي د تیزابو په موجودیت کې په فعال پیپسین انزایم بدلېږي او پروټيني مواد په کوچنیو مالیکولونو تجزیه کوي. د معددي ځینې ځانګړې حجرې د لایپیز انزایم ترشح کوي، ترڅو شحمي مواد یو څه هضم کړي.

د معددي د تیزابو ډول: د معددي تیزاب ځینې هغه بکټریاې له منځه وړي چې معددي ته داخلېږي او د بدن له روغتیا سره مرسته کوي، غیر فعال پیپسینو جن انزایم په فعال پیپسین انزایم تبدیلوي. د معددي حرکات د خوړو له مخایکي هضم سره مرسته کوي




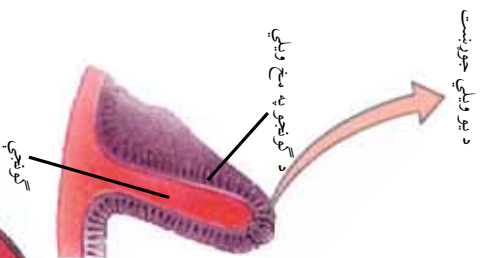
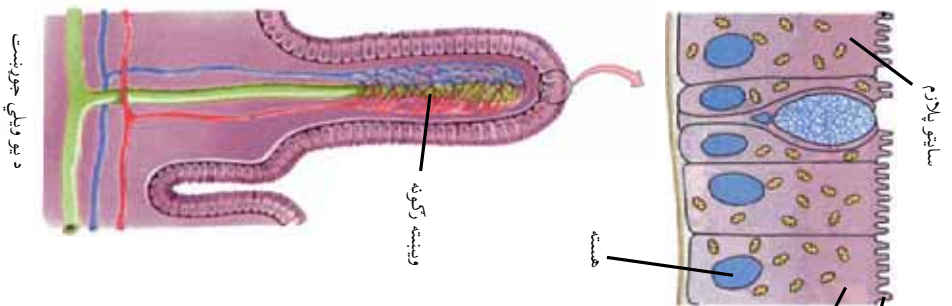
فکر وکړئ

ولې د معددي تپ (ازخم) زړ نه جوړېږي؟

آیا اوبه، مالګې او ویتامینونه هضم ته اړتیا لري ولې؟

که چېرې یو سړی د ورزش په وخت کې سر کېښته ونیسي، آیا له معددي څخه به یې خواړه راوځي؟ ولې؟

د معددي موجي حرکات په منظم ډول د معددي تر پایه صورت مومي. کله چې خواړه په ټاکلي اندازه هضم او انقباضي څپه (موج) د معددي تر پایه ورسېده، د پلپور دریځه (د گېډې او وړو کولمو ترمنځ دریځه) خلاصه او پاسته شوي توکي ورو کولمو ته داخلوي. دریځه د سختو او کلکو توکو د ننوتلو مخنیوی کوي، تر څو چې د معددي د انزایمونو او موجي حرکاتو په مرسته پاسته شي.



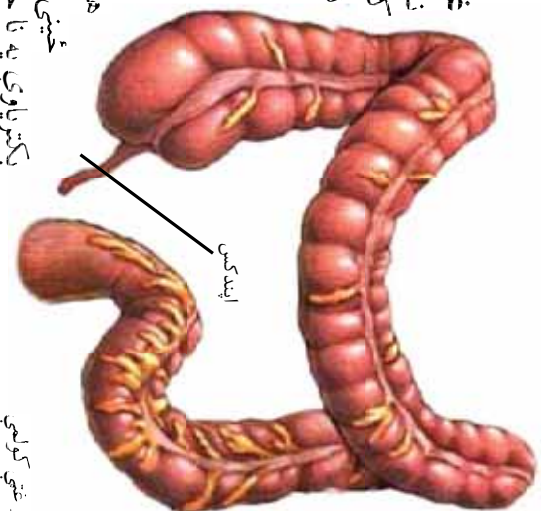
هضم او جذب په وړو کولمو کې:

وړې کولمې یو پېچلی اوږد ټیوب دی چې په لویانو کې تقریباً شپږ متره اوږدوالی او ۲،۵ سانتي متره قطر لري وړې کولمې د ګډې په تش ځای کې تر معدې لاندې موقعیت لري چې د انزایمونو په مرسته د غذایی موادو غټې ټوټې په کوچنیو مالیکولونو باندې تبدیلوي او د هضم او جذب وړ ګرځي په دغه عملیه کې چې څو ساعته دوام کوي. نه یوازې د خوړو هضم کوونکي انزایمونه د معدې له دېوال څخه ترشح کېږي، بلکې د یني ترشحات او د پانکراس انزایمونه د صفراوي مشترک کانال له لارې اثنا عشر ته جوړوي چې له اوبو، آیونونو، شحمي تیرابونو او صفراوي ماڼګې څخه جوړه شوي ده.

صفراوي مايع شحمیات حلوي او د لایپیز انزایم په واسطه یې د تجزیې زمینه برابروي. د یني او پانکراس موقعیت په (۱-۱) شکل کې وګورئ.

د وړو کولمو د دېوال داخلي پوښ بڅملي شکله ګونځي لري چې د کولمو د جذب کچه او د هضم شوو خوړو د جذب وړتیا زیاتوي. د لویو ګونځو په منځ ګوټو ته ورته کوچني ګونځي وجود لري چې د ویلي (Villi) په نامه یادېږي. (۱-۸) شکل ته څیر شئ. د کوچنیو کولمو په پوښنې حجراتو کې د پلازمای غشا ګونځي دمایکروویلي (Microvilli) په نامه وجود لري. لویې ګونځي او کوچني ویلي ګان د کولمو د جذب کچه ۲۰۰ واري زیاتوي. د هضم شوو خوړو مالیکولونه د ویلایي حجراتو په واسطه جذب او وپښته ډوله رګونو (شعریه عروق) ته داخلېږي او د ویلي له لارې د بدن ټولو حجراتو ته لېږدول کېږي.

د (۱-۸) انځور وړې کولمې او داخلي ګونځي
چې او د وړو کولمو د ویلي جوړښت



(۱-۹) انځور غٽي کولمې

غٽي کولمې:

نا هضم شوي غذايي توکي له کوچنيو کولمو څخه غټو کولمو ته ننوزي. لويې کولمې څه د پاسه يو متر اوږدوالی لري. هغه توکي چې لويو کولمو ته ننوزي له اوبو، نا هضم شويو خوړو، لکه غوړيو، پروټينونو، اليافو او نباتي سلولوز څخه عبارت دي. په غټو کولمو کې هضم صورت نه نيسي خو اوبه او ځينې ويتامينونه جذبېږي. يو زيات شمېر بکټريايي په نا جذب شورو غذايي موادو کې ژوند کوي. دغه بکټريا د بدن مهم ويتامينونه جوړوي. غټي کولمې توليد شوي ويتامينونه، د سوديم او پتاشيم ايونونه او ۹۰٪ اوبه د داخلي محتوياتو څخه جذب او اضافي توکي د ۱۲ څخه تر ۲۴ ساعتونو پورې له بدن څخه باسي.

د هضمي سيستم ناروغي

نس ناستی او قبضيت: کله چې اوبه په منظمه توگه په غټو کولمو کې جذب نشي او په پرله پسې ډول دفع شي، دغه حالت ته نس ناستی ويل کېږي او له کبله يې د بدن اوبه او د اړتيا وړ مالگي له لاسه ورکوي چې د بدن لپاره خطرناکه ده. د نس ناستي يو شمير لاملونه دادي، چې خواږه او اوبه په بکټريا، ويروسونو او نورو ميکروبونو سره ککړېږي.

له يو شمير درملو او خوړو سره حساسيت هم د نس ناستي لامل کېږي. پر نس ناستي باندې اخته ناروغ ته د مایعاتو او مالگي ورکول ضروري دي. ډاکټر ته د ناروغ تر رسېدو پورې بايد هغه ته د ORS محلول يا په يو ليتر اوبو کې له لږې مالگي سره دوه بوتلي اوبه وايټسول شي او په پرله پسې ډول ورکړ شي.

د نس ناستي پر خلاف د غټو کولمو له خوا د زياتو اوبو جذبول د غايطه توکو د کلکېدو لامل کېږي چې په سخته دفع کېږي. دغه حالت ته قبضيت وايي.

قبضيت د غټو کولمو د حرکاتو د کموالي له کبله هم مېخته راځي. روحي

فتشار، د اعصابو ناراحتي او د کولمو پرازیتونه هم ددي ناروغۍ لامل گرځي چي په ناروغ کي د اشتهاکموالی، سرخ خور، او کاڼگي پیدا کېږي. د سبوس تازو میوو او د سبوس لرونکي دودۍ خوراک د قیضیت مخنیوی کوي.



فکر وکړئ:

- آیا د زیاتو اوبو په څښلو کولای شو د قیضیت مخه ونیسو؟
- ولې د نس ناستي په وخت کې د څښي اوبو سبو او میوو له خورلو څخه ډډه کوو؟

د ایندکس میکروبي کېدل:

تر معدې لاندې ښي خواټه یو کوچنی ټیوب د ایندکس په نامه شتون لري چي له غټو کولمو د لومړۍ برخې سره نښتی وي. (ددې څپرکي (۹-۱) شکل وگورئ). څښي وخت ایندکس له یوې مایع څخه ډکېږي دننه یې بکتریاوي تکثیر کوي چي د ایندکس د میکروبي کېدو، پړسوب او سخت خور، لامل کېږي. معمولاً د جراحی له لارې د ایندکس په پرې کولو د هغې درملنه کېږي. ددي ناروغۍ ښيې د خوراک کموالی، د نامه په برخه کې سخت درد، کاڼگي او سپکه تبه ده. که د ناروغ ښۍ پښه راټوله او ژر وځغول شي، ډیره درد حس کوي.

د هضمي سیستم روغتیا ساتنه (حفظ الصحه):

د هضمي سیستم د ناروغیو د مخنیوی لپاره باید لاندې ټکي په پام کې ونیول شي:

- د ځان او چاپیریال پاکوالی په پام کې ونیول شي، له اودس ماتې څخه وروسته، او له خوراک نه دښخه باید لاسونه په پاکو اوبو او صابون پرېمیتخل شي. پاکي اوبه او پاک خواړه په پاکو لوټیسو کې وخورل شي او د ډیرو تودو خورو له خورلو څخه ډډه وشي.
- میوې اوسابه په سم ډول د کلور او یا مالگي په محلول کې پرېمیتخل شي او وروسته وخورل شي.
- ډیر زیات خوراک او د خوراک پر مهال بیره کول هضمي سیستم ته زیان رسوي. باید له هغې څخه مخنیوی وشي.



د لومړي څپرکي لنډيز:

- ▶ د انسان هضمي سيستم له دوو برخو څخه جوړ شوی دی.
- ۱. هضمي کانال(خوله، کومې، سرې، معده، وړې کولمې، غټې کولمې)
- ۲. هضمي غدې(د خولې لعابيه غدې، د معدې او کولمو دننې، غدې، ځيگر (بڼه) او پانکراس).
- ▶ هغه بدلونونه چې د خوړو د هضم په عمليه کې رامېخته کېږي له دوو سيخانېکي او کيمياوي دولونو څخه عبارت دي.
- ▶ انسان د عمر په لحاظ دوه ډوله غابونه (د شيدو غابونه او هميشنې غابونه) لري.
- ▶ ځوانان د شکل او دندې په لحاظ څلور ډوله غابونه(ثاڼا، اڼاب، کوچني آسياب او لوی آسياب)لري.
- ▶ درې ډوله لعابيه غدې د خولې په منځ کې ځای لري.
- ▶ د خولې لارې خواړه پاسته او اولبن کوي. ننځايسته يې په کوچنيو ماليکولونو بدلوي او د غابونو منځ پاکوي.
- ▶ له کومې څخه سرې ته د خوړو د تېرېدو په وخت کې دکومې وړه ژبې او د تالو وړه ژبې په ترتيب سره د پړې او د تنفس لاره بندوي.
- ▶ د معدې دېوال له دريو بنسويو عضلاتي طبقو(اوبده، حلقوی او مایل) څخه جوړ شوی دی.
- ▶ د معدې تيراب، پېپسينو جن په پېپسين بدلوي.
- ▶ د جذب عمليه د هضمي کانال له دېوال څخه د کوچنيو غذايي ماليکولونو تېرېدل او ويني ته د هغوی رسېدل دي.
- ▶ لويې گونجې، ويبي گانې او سيکروويلې گانې د موادو د جذبولو کچه زياتوي.
- ▶ د نس ناستني لاملونه د اوبو او خوړو دککرتيا او له ځينو درملنو او خوړو سره حساسيت دی.

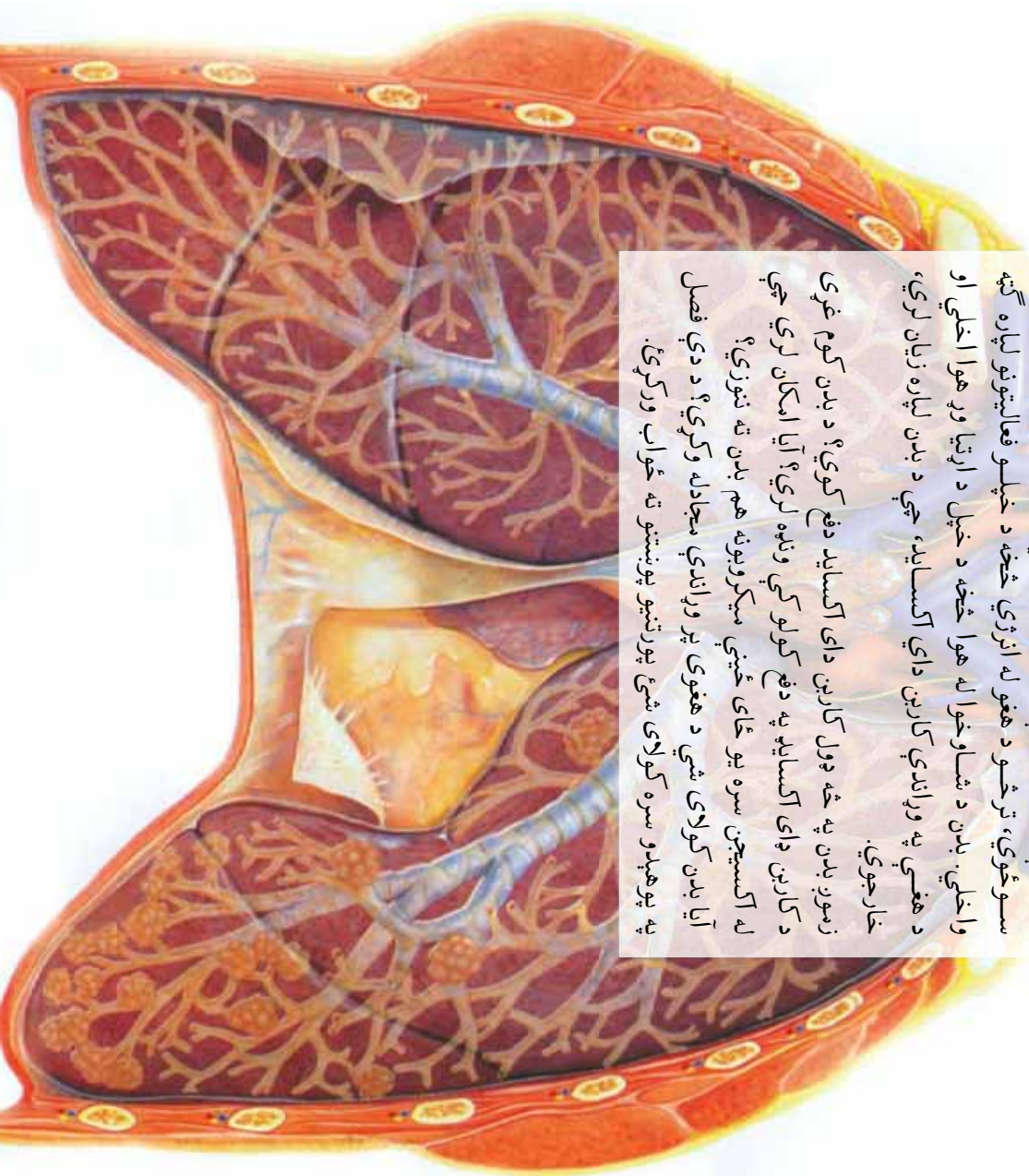
دویم څپر کی

تنفسي سیستم

آیا پوهېږئ یو شخص کولای شي چې د څو محدودو ورځو لپاره له اوبو پرته ژوند وکړي. له خور و پرته شونې ده چې انسان له یوې اونۍ څخه ډېره موده ژوندی پاتې شي، خو که یو شخص یو څو دقیقې تنفس ونه کړای شي، مری.

ولې زموږ بدن اکسیجن ته اړتیا لري؟ په تېرو لوستونو کې مو زده کړل چې د بدن ژونکې (حجرې)، غذایي مواد د اکسیجن په مرسته سمونوي، ترڅو د هغو له انرژي څخه د خپلو فعالیتونو لپاره ګټه واخلي. بدن د نشاوخوا له هوا څخه د خپل د اړتیا وړ هوا اخلي او د هغې په وړاندې کاربن ډای اکسایډ، چې د بدن لپاره زیان لري، خارجوي.

زموږ بدن په څه ډول کاربن ډای اکسایډ دفع کوي؟ د بدن کوم غړی د کاربن ډای اکسایډ په دفع کولو کې ونډه لري؟ آیا امکان لري چې له اکسیجن سره یو ځای ځینې میکروبونه هم بدن ته ننوزي؟ آیا بدن کولای شي د هغوی پر وړاندې مجادله وکړي؟ د دې فصل په پوهېدو سره کولای شئ پورتنیو پوښتنو ته ځواب ورکړئ.



د تنفسي سيستم د غړو جوړښت او دندې:

د انسان تنفسي سيستم د هوا له لارو او سرو څخه عبارت دي.

کله چې هوا د پزې له لارې بدن ته ننوزي له کوهي او حنجري څخه تېرېږي او د قصبه الرئي او براننشونو له لارې سرو ته رسېږي. په هوايي کڅوړو کې، چې د سرو په منځ کې ځای لري. د غازونو تبادلې صورت مومي. تنفسي سيستم غړي او د هغوی دندې په لاندې توگه معرفي کېږي:

د پزې تشه: هغه هوا چې پزې ته ننوزي د لزجي مایع او په پزه کې د ننه د نړيو وينښتانو (سبيل) په واسطه تصفيه، توده او نمجنه کېږي او همدارنگه خاورې، دورې او سيکروبونه چاڼېږي.

کوهی (Pharynx): د تنفس په وخت کې له کوهي څخه يوازې هوا تېرېږي. څرنگه چې د مخه مو ولوستل د غذايي موادو او اوبو د تېرېدلو پر مهال تنفسي لاره د کوهي د ورې ژبې په واسطه تړل کېږي او خوراکي توکي د سرې په لورې وېل کېږي او حنجري ته نه ننوزي. **حنجره (وچه غاړه) (Larynx):** له کوهي څخه وروسته وچه غاړه موقعيت لري چې دوي پردي يا د غږ (صوت) تېابونه لري. غږ دصوتي پردو د رېښو او د هغو عضلو د انقباض او انبساط له کبله، چې ورسره نښتي دي، توليدېږي. د غږ د تېابونو جوړښت په نارينه او ښځو کې توپير لري. دا توپير د هغوی د غږ د توپير لامل کېږي. بايد زياته شي چې د سگرتو او د چلم څښل د غږ پردوته زيان رسوي.



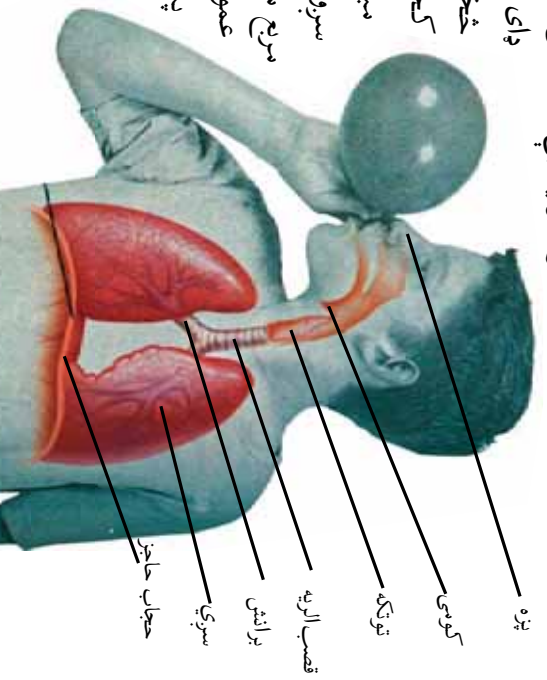
فکر وکړئ:

په حنجره کې دوي عضلاتي پردې موجودې دي چې صوتي تېابونه ورته ويل کېږي. له دغې برخې څخه د هوا تېرېدل د هغوی د رېښو او د غږ د توليد لامل گرځي. ستاسې په نظر آیا انسان د هوا د خارجېدو يا د هوا د داخلېدو پر مهال خبرې کولای شي؟ ولې؟

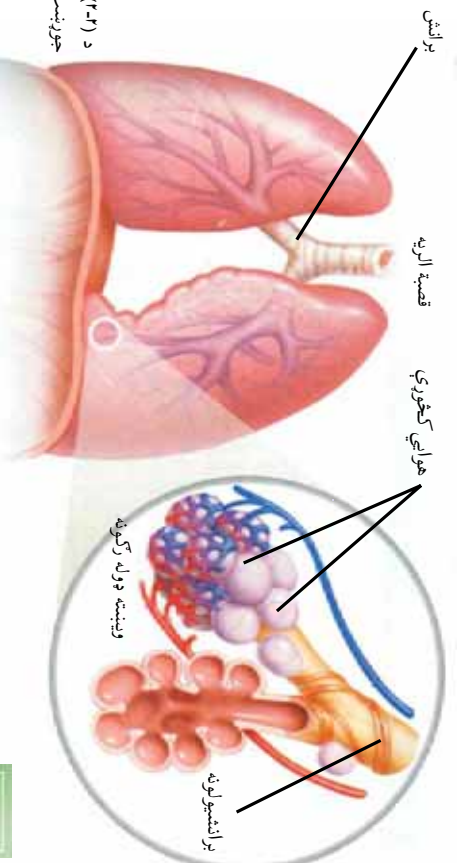
قصبه‌الریه (Trachea): یوه کریندوکي (غضروفی) تشه لوله ده چي له حنجري څخه وروسته موقعیت لري او هموارو څخه تیریري. قصبه‌الریه د ۲،۵ سانتي مترو په شاوخواکي قطر او ۱۱ سانتي مترو اوږدوالی لري. پاسني برخه يې حنجري او بنسکتني برخه يې په دوو کيټو او ټيټي برانشونو (Bronchus) پورې، چي هوا سږو ته لیردوي نښتي ده. د قصبه‌الريي دننه سطحه د نمجنو وپښتانو (سلیلا) په واسطه پوښل شوي ده چي د میکروبونو، خاورو او دورو له چاڼ سره مرسته کوي او سږو ته د هغوی د ننوتلو مخه نیسي.

د قصبه‌الريي وروستي برخه په دوو څانگو یا برانش وپشل کېږي. ټيټي برانش ټيټي سږي ته او کيڼ برانش يې کيڼ سږي ته ځي. **سږي (Lungs):** سږي له هوا څخه وک سفنڅي ډوله ارتجاعي بالونونه دي چي د ټټر دننه د زړه نښي او کيڼ خوا ته د حجاب حاجز د پاسه موقعیت لري. برانشونه د سږي په دننه د برانشیولونو (Bronchioles) په نامه پرکوچنیو څانگو وپشل کېږي. په پای کي برانشیولونه په هوایي کڅوړو پای ته رسېږي. هوایي کڅوړي د غازونو د تبادلې اصلي ځای دي. هره هوایي کڅوړه زیات وپښته ډوله رگونه لري چي اغوستل شوي اکسیجن جذب او کاربن ډای اکساید، چي د بدن له حجراتو

څخه اغوستل شوی دی، د هوایي کڅوړو د ننه آزادوي. هر سږي په میلیونونو هوایي کڅوړي لري. د سږو د کڅوړو عمومي سطحه له سلو مربع مترو څخه ډیره ده. یعنی د هغوی عمومي سطحه د بدن د پوستکي پښخوس برابره ده. له همدې کبله پوره اندازه اکسیجن اخلي او کاربن ډای اکساید خارجوي.



د (۲-۱) انځور تفصیلي سیستم



د (۲-۱) انځور د سپرو داخلي جوړښت

فعالیت:

د پښه يو روغ سړی چمتو کړی او تر کتلو وروسته يې لاندې پوښتنو ته ځواب ورکړی:

- ۱- قصبه الريبه او برانشيولونه څه ځانگړتياوې لري؟ په هغوی باندې له لاس وهلو وروسته ځواب ورکړی.
- ۲- سسري د لاس وهلو په وخت (د هوا له ورکولو د مخه او د پمپ په وسيله د هوا له ورکولو څخه وروسته) څه ډول حس کېږي؟

۳- د سپرو رنگ په کوم شې پورې اړوند وی؟

۴- د سسري يوه برخه پرې کړی. په پرې کړ شوي برخه کې کوم شيان کنالای شي. خپلې ليدنې کتنې وليکئ او يو له بل سره پرې خبرې وکړئ

د تنفس عمليه: د تنفس عمليه سپرو ته د هوا د داخليدو

(Inspiration) او له سپرونه د هوا له وتلو (Expiration) څخه

عبارت ده. دهوا په داخليدو د تتر د قفس حجم زياتېږي چې له دې

کبله د تتر د پنځېږي داخلي فشار ټيټېږي. برعکس د تتر د قفس

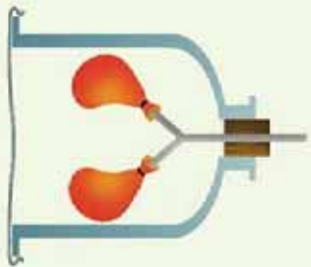
د حجم په کوچني کېدو د تتر په دننه کې د هوا فشار زياتېږي او له

سپرو څخه د هوا د وتلو لامل گرځي. په سپرو کې د غازونو تبادلې سر

ته رسېږي. يو ځوان انسان په يوه دقيقه کې له ۱۲ نه تر ۲۰ ځلو پورې

سا اخلي. د سا اخستلو شمېر د استراحت په وخت کې کمېږي او

د کار او ورزش په وخت کې زياتېږي.



د (۲-۳) انځور د تير د پيچري مودل

فعاليت:



- ۱- له لاندي شکل سره سم يو مودل جوړ کړئ. دغه مودل د تير د پيچري او تنفسي دستگه مودل دی. د دغه مودل کومې برخې له سپرو، قصبه الربي او برانشو نو سره معادلې دي؟
- ۲- بربرينه پاڼه ورو لاندي خواته راکاږئ. پوکنيو ته په څير وگورئ چې څه پيښيږي؟
- اوس لاندي پوښتنو ته ځواب ورکړئ:
- الف- کله چې رږينه صفحه لاندي خواته کاږئ د لوښي (بوټل) د ننه حجم او فشار څه ډول تغيير کوي؟
- ب- د الف پوښتني د ځواب په مرسته څرگند کړئ چې ولې پوکني د رږيني صفحه د کارولو پر مهال له هوا څخه ډکيږي؟

د وينې په واسطه د غازونو لېږد بدل: اکسيجن ويږی د هيمو گلوبين په واسطه لېږدول کېږي چې د وينې په سر وکړونو کې موجود دی. کاربن ډای اکسايډ په وينه کې ويږی په پلازما کې د محلول په بڼه لورسې زړه ته او له هغه ځای څخه د اطراح لپاره سپرو ته وړل کېږي.

فعاليت:



- په هغه هوا کې د کاربن ډای اکسايډ د شتون ثبوت چې له سپرو څخه خارجيږي.
- ۱- لږه چونه (چې اوبه ورته نه وي رسېدلې) په اوبو کې حل او بيا يې د کاغذي فلتر په وسيله جان کړئ.
 - ۲- د چونې اوبه په يوه نښنښه يي تيوب کې واچوئ او د يو کرکي (درگه) په واسطه يې د څو ششيو لپاره په هغه کې پو کړئ.
 - د چونې په اوبو کې څه بدلون رامنځته کېږي؟
 - څنگه پوه شو چې دا بدلون د هغې هوا له کبله دی چې له سپرو څخه وتلې ده؟

د (۲-۴) انځور د کاربن ډای اکسايډ د شتون ثبوت په سپرو کې



د تنفسي سیستم ځینې مهمولي ناروغی
والگی (Common cold): د والګي د ناروغۍ عامل یو ډول ویروس دی چې د الکترون میکروسکوپ په وسیله لیدل کېږي او په هر موسم کې موجود وي. ددې ناروغۍ عامل د خولې د لارو او د پزې د اړیو په وسیله د توحې او پریټچېدلو په وخت کې خارجېږي. که روغ سړی په ویروس باندې ککړه هوا تنفس کړي د والګي په ناروغۍ اخته کېږي.

شخصي روغتیا ساتنه د والګي او هغه ته د ورته نورو ناروغیو له مخنیوي سره مرسته کوي.

انفلونزا (Influenza): د انفلونزا د ناروغۍ عامل یو بل ډول ویروس دی چې د والګي له ویروس سره توپیر لري. په دې ناروغۍ کې سرسره پر هغو نښو چې د والګي په ناروغۍ کې لیدل کېږي، ناروغ سخته تبه او سر خورلري. همدارنګه د ناروغ پزه سوځي او نړۍ او ټینګه مانع یې له پزې بهېږي. د انفلونزا ناروغی د والګي په پرتله ډېر دوام کوي او ډېر استراحت ته اړتیا لري.

توبرکلوز (Tuberculosis): توبرکلوز یا د نړي ریځ ناروغۍ تر او سسه پورې د یوې سترې روغتیايي ستونزې په توګه منځ په ودې هېوادو کې پاتې شوي ده او که درملنه یې و نه شي د مړینې لامل ګرځي. د نړي ریځ ناروغی د بکتريا په واسطه منځ ته راځي او زیاتره د هوا د تنفس او د ناروغۍ په عامل باندې د ککړو څاڅکو په وسیله لېږدول کېږي.

همدارنګه نړی ریځ د ککړو شیدو په خورلو، ککړو لوښو، کالیو، د منځ وچولو توکر او نورو ککړو شیانو په وسیله روغ شخص ته لېږدول کېږي. د ناروغۍ نښې نښانې دوامداره توحې، د سا اخستلو ستونزه، ستریا، تبه، د اشتها کموالی، ډګروالی، د تتر خور، وینه لرونکي بلغم او نور دي.

نوو زېږېدلو ماشومانو ته د بې سسي جې (BCG) واکسین کېږي، چې د دې ناروغۍ په مقابل کې معافیت تر لاسه کړي، ځکه وقایه تر درملنې بهتره او ارزانه ده.



د دویم څپرکي لنډيز:

- ▶ هوا د پزې ، خولې ، کومې ، توتکې ، قصبه الرتيې او برانشمونو له لارې سرو ته ننوزي.
- ▶ سړي له هوا څخه وک سفنجي ډوله ارتجاعي بالونونه دي چې د ټټر د پنجرې په منځ کې د زړه بڼې او کېن خوا ته او د حجاب حاجز د پاسه موقعیت لري.
- ▶ برانشونه په سرو کې په برانشیولونو باندې وپېشل کېږي.
- ▶ دخارجي تنفس په عملیه کې دوه مرحلې شاملې دي. سرو ته د هوا ننوتل او له سرو څخه د هوا وتل.
- ▶ د آکسیجن ډبره برخه د هموگلوبین په واسطه ، چې د وینې په سرو کرویاتو کې موجود دی ، د بدن حجرو ته لیږدول کېږي.
- ▶ دکاربن ډای آکساید ډبره برخه د وینې په پلازما کې په متحل توگه لیږدول کېږي.
- ▶ د تنفسي سیستم معمولي ناروغي له والگي ، انفلونزا او نزي رنځ څخه عبارت دی.

د دویم څپر کی یوښتی:

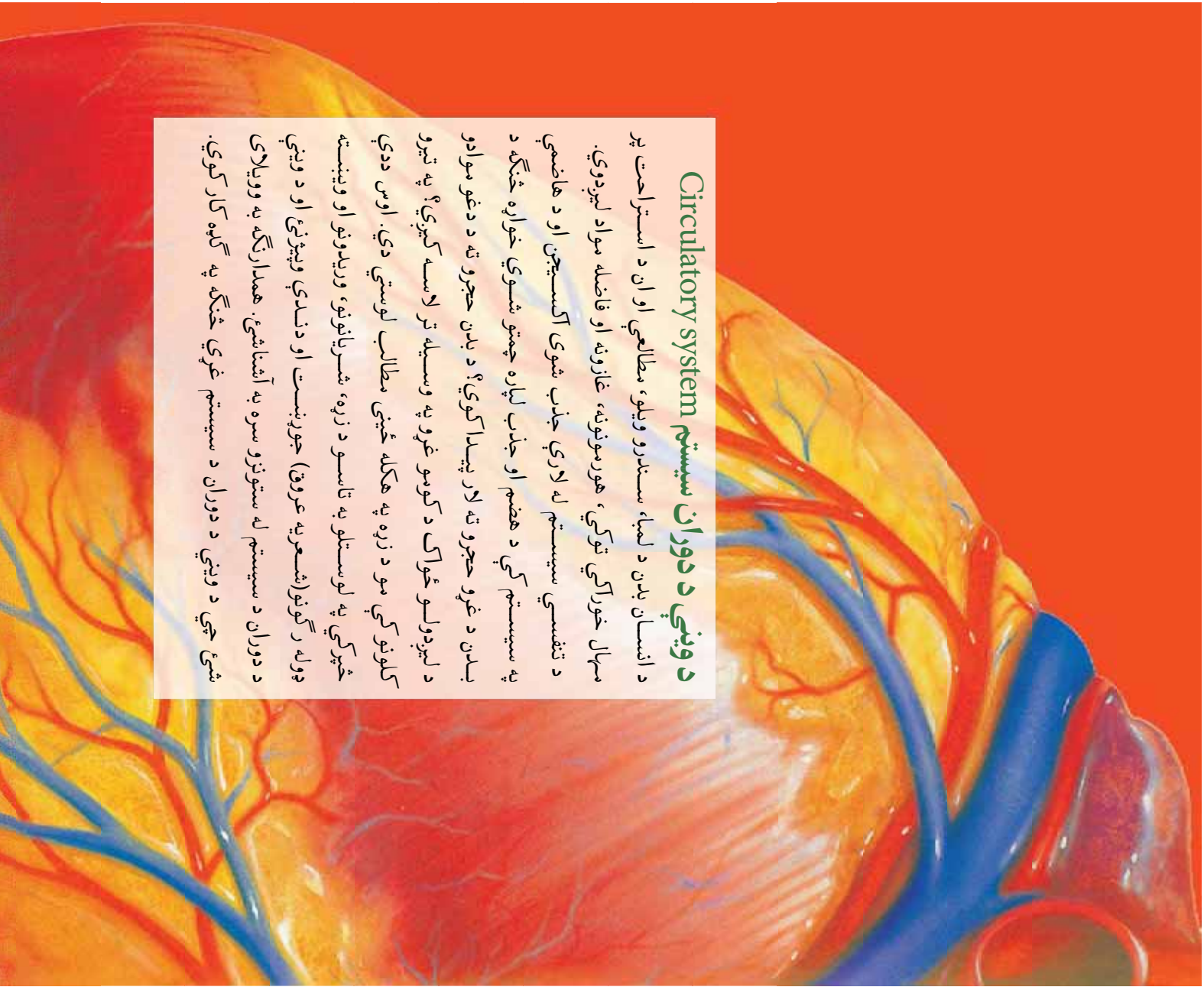
تشریحی یوښتی:

- ۱- په سرو کې د غازونو تبادله په څه ډول سرته رسېږي؟
 - ۲- هوا له کومو لارو څخه سږو ته ننوزي؟ په ترتیب سره یې نومونه واخلئ.
 - ۳- د والگي او انفلوزا ترمنځ توپیر څرگند کړئ.
- تش ځایونه په خپلو کتابچو کې په مناسبو کلمو ډک کړئ.
- برائشونه د سرو په د ننه د..... په نامه په کوچنیو څانگو وپشل کېږي.
- د اوبو او غذایي موادو د تېرېدو په وخت کې تنفسي لارې د..... په واسطه تړل کېږي چې حنجري ته د خوراکي موادو د ننوتلو مخه ونیسي.
- سم ځواب وټاکئ او په خپلو کتابچو کې یې ولیکئ.
- ۱- د آکسیجن ډیره برخه د هموگلوبین په واسطه، چې په..... وجود لري، د بدن حجرونه لېږدول کېږي.
- | | |
|---|----------------------|
| الف- د وینې دموپه صفحات | ب- د وینې سره کړویات |
| ج- د وینې سپین کړویات | د- د وینې پلازما |
| ۷- په سرو کې د غازونو تبادله په..... کې سرته رسېږي. | |
| الف- برائشونه | ب- بڼې بطن |
| | ج- هوایي کڅوړې |
| | د- هېڅ یو |

دریم څپرکی

د وینې د دوران سیستم Circulatory system

د انسان بدن د لمبا، سندرو ویلو، مطالعي او ان د استراحت پر مهال خوراکی توکي، هورمونونه، غازونه او فاضله مواد لیردوي. د تنفسي سیستم له لاري جذب شوی اکسیجن او د هاضمي په سیستم کې د هضم او جذب لپاره چمتو شوي خواړه څنګه د بدن د غړو حجرو ته لار پیدا کوي؟ د بدن حجرو ته د دغو موادو د لیردولو ځواک د کومو غړو په وسیله تر لاسه کېږي؟ په تیرو کلونو کې مو د زړه په هکله ځینی مطالب لوستي دي. اوس ددې څپرکي په لوستلو به تاسو د زړه، شریانونو، وریدونو او وینبسته ډوله رګونو(شعریه عروق) جوړښت او دندې وپېژنئ او د وینې د دوران د سیستم له ستونزو سره به آشنا شئ. همدا رنگه به وریالی شی چې د وینې د دوران د سیستم غړي څنګه په ګډه کار کوي.

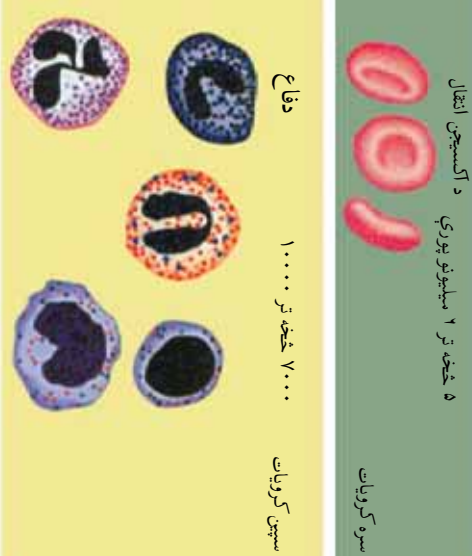


وینه

د حیواناتو په بدن کې وینه مختلف توکي لېږدوي. د وینې حجم د عمر او جنس په پرتله توپیر کوي. د وینې حجم په نسحو کې له ۴۵ څخه تر ۵۵ لیټرو پورې او په سسرو کې له ۵ څخه تر ۶ لیټر پورې رسېږي تر معل غاږونه لکه اکسیجن له سسرو څخه د بدن ټولو نسجونه او کاربن ډای اکساید د بدن له نسجونو او حجرو څخه سرورته د وینې په واسطه لېږدول کېږي. وینه غذایي مواد، اوبه، مالګه، انټي باډي، آیوټونه، انزایموونه، هورمونونه او له کاره وتلي زیاتي توکي د بدن له یوځای څخه بل ځای ته لېږدوي. وینه یو ارتبایي نسج دی چې له دوو برخو یعنی مایع او جامد څخه جوړه ده، چې مایع برخه یې د وینې پلازما او جامده برخه یې د وینې د کرویاتو یا حجراتو څخه جوړه شوې ده.

د وینې اجزای

د وینې پلازما: یو سوته ورته ژیر رنگه مایع ده چې د وینې ۵۵ فیصده حجم جوړوي او غذایي منحل مواد لکه قندونه، پروټینونه، ویتامینونه، هورمونونه، غاږونه او معدني توکي لري. هغه جامده برخه چې په پلازما کې لاسبو وهي د وینې د کرویاتو په نامه یادېږي. **د وینې کرویات:** د وینې کرویات د وینې ۴۵ فیصده حجم جوړوي. د وینې کرویات په درې ډوله دي: سره کرویات (Erythrocytes) سسین کرویات (Leukocytes) او دمویه صفحات (Thrombocytes). د وینې د کرویاتو عمده ځانګړتیاوې په جدول کې ښودل شوي دي: (۳-۱)

د وینې کرویات (۴۵٪)		
د حجري ډول	په فی سلی لیټر کې یې شمیر	دندې
سره کرویات	۵ څخه تر ۶ سلیمونو پورې	د اکسیجن انتقال
سسین کرویات	۷۰۰۰ څخه تر ۱۰۰۰۰	دفاع
		
د مویه صفحات ۱۵۰،۰۰۰ څخه تر ۵۰۰،۰۰۰ کېدل، اوبه وینې خپلې، پخښوې د وینې پړه		

(۳-۱) انځور د وینې د کرویاتو ډولونه

(۱-۳) جدول د وینې د کرویاتو عمده ځانګړتیاوې

د حجروي ډول	د جوړېدو ځای	په هر سلې لیتر وینه کې شمېر	د O_2 او غذايي موادو لېږدول	نورې ځانګړتیاوې
سره کرویات	د هډوکو په مغز کې	د ۵ څخه تر ۶ میلیونه پورې	د ناروغۍ رامنځته کوونکو میکروبونو په وړاندې د بدن دفاع	بالغه یا پخه حجره یې هسته نه لري. عمر یې تر ۱۲۰ ورځو پورې وي. په هره ثانيه کې په میلیونونو سره کرویات له منځه ځي او په همدې شمیر بیا جوړېږي.
د مویني کرویات	زیاتره د هډوکو په مغز کې	له ۱۵۰۰۰۰۰ تر ۵۰۰۰۰۰۰	د ناروغۍ رامنځته کوونکو میکروبونو په وړاندې د بدن دفاع	هسته لرونکي دي او مختلف ډولونه لري. له میکروبونو سره په مختلفو لارو مبارزه کوي او له سره کرویاتو څخه لوی دي.
دمویه صفحات	د هډوکو په مغز کې	له ۱۵۰۰۰۰۰ تر ۵۰۰۰۰۰۰	د وینې د پرلپه پیلو او د وینې د بهرینو مخنیوی	هسته نه لري. عمر یې ډیر لنډ دی. غیر منظم شکلونه لري.



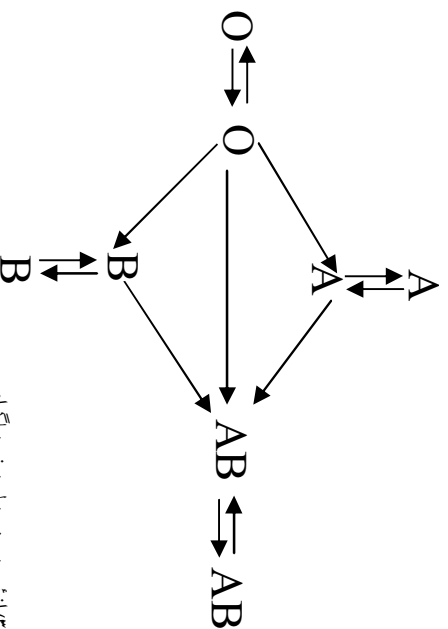
- ۱- د کوم ډول کرویاتو شمیر له نورو ډولونو څخه زیات دی؟ د هغو اهمیت په څه کې ګورئ؟
- ۲- که د چا وینه د تپ له امله جاري او وینه یې ونه درېږي، فکر وکړئ چې د هغه د وینې په کومو کرویاتو کې ستونزه وجود لري؟ څرګنده یې کړئ.
- ۳- که چېرې کوم میکروب زموږ بدن ته ننوزي، د کوم ډول کرویاتو شمیر زیاتېږي او ولې؟

د ويني گروپونه

ځيني وخت يو ناروغ شخص د يو بل شخص ويني ته اړکيري. په دغه صورت کې مسهمه خبره داده چې د ويني ورکونکي او ويني اخيستونکي ترمنځ د ويني د گروپ سمون وجود ولري. د انسان وینه پر A, B, AB او صفر گروپونو ويشل کيږي. که چيرې د ويني اخيستونکي شخص وینه د ويني ورکونکي شخص له ويني سره سمون ونه لري، د ويني اخيستونکي سړی د ويني د پړن کيدو لامل گرځي، په نتيجه کې سخته تبه او د شريانونو بندوالي منځ ته راولي بڼا يې د سړيني لامل شي. د ويني د انتقال دياگرام په (۲-۳) شکل کې بنودل شوی دی. په دې دياگرام کې وکتورونه د ويني ورکونکي او ويني اخيستونکي ترمنځ د توافق ښکارندوی دي.

د Rh فکتور:

يوه بله ماده دځينو وگړو په وینه کې شته چې لومړی پلا د Rhesus په نامه ديو ډول بيزوگانو په وینه کې کشف شوه. له همدې کبله د Rh فکتور په نامه يادېږي. د هغه وگړو چې وینه يې دغه ماده لري د Rh مثبت (+Rh) او هغه کسان چې وینه يې دغه ماده نه لري د Rh منفي (-Rh) په نامه يادېږي. کېدای شي د څلورو گروپونو Rh منفي AB, B, A, O هر يو Rh مثبت او يا Rh منفي اوسي. دغه فکتور هم د ويني په ليردولو کې په پام کې نيول کيږي. هيڅکله د Rh مثبت وینه Rh منفي ويني ته نشو ورکولای.

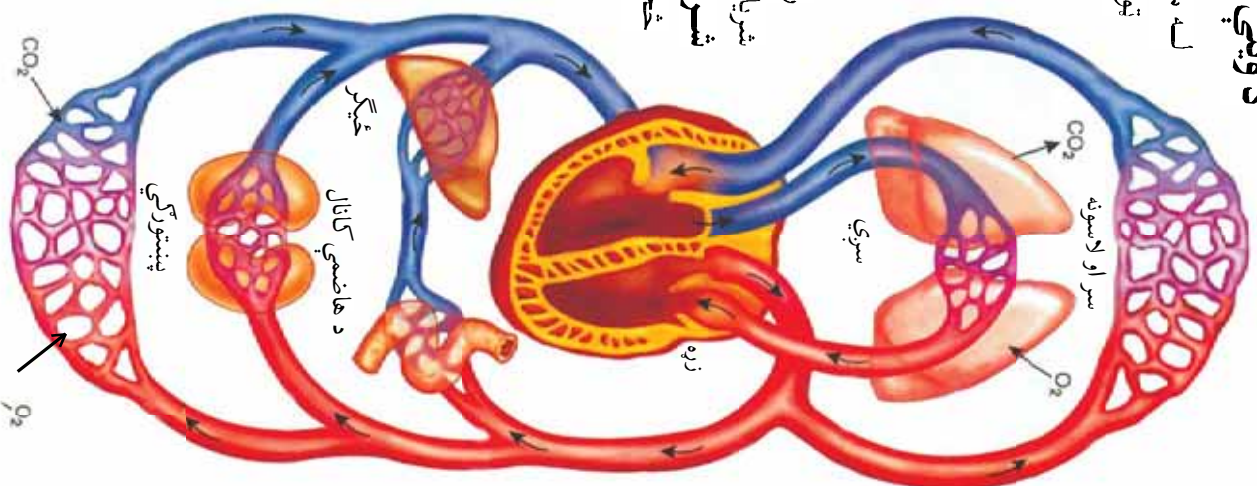


د (۲-۴) انځور د ويني د ليردوني دياگرام

د وینې رگونه:

له منشعبو ټیویونو څخه عبارت دي چې د بدن په ټولو برخو کې شتون او په منځ کې یې وینه جریان لري. د وینې رگونه د وینې د لېږدوونې په وسیله غذایي مواد، اکسیجن، اوبه او نور توکي د بدن ټولو حجراتو ته رسوي او په مقابل کې فاصله توکي، کاربن ډای آکساید اونور، چې د حجرو لپاره غیر ضروري او آن زیانمن دي، راټولوي او دفع کولو لپاره یې اطراحي غړو ته رسوي. د وینې رگونه په درې ډوله دي: وریدونه، شریانونه، او وینبته ډوله رگونه.

شریانونه (Arteries): هغه رگونه دي چې له زړه څخه وتلي او د بدن په مختلفو برخو کې ویشل شوي دي. شریانونه پاکه وینه (زیات اکسیجن لرونکي وینه) د بدن ټولو برخو ته رسوي. ریوي شریان یوازنی شریان دی چې نایاکه وینه (د لږ اکسیجن او زیات کاربن ډای آکساید لرونکي) له زړه څخه سرو ته رسوي. شریانونه پېر دیوال لري او د بدن د سطحې په پرتله په یو څه نټوتلي برخه کې موجود دي. **وریدونه (Veins):** هغه رگونه دي چې د بدن له مختلفو برخو څخه نایاکه وینه ټولوي او زړه ته یې رسوي. پرته له ریوي ورید، نور ټول وریدونه نایاکه وینه لري. ریوي ورید پاکه وینه له سرو څخه زړه ته رسوي. ډیری وریدونه په خپله لاره کې دريځي (Valves) لري چې د وینې د راگرځیدو مخه نیسي. وریدونه د شریانونو په پرتله نری دیوال، د وینې لږ فشار او د بدن تر پوستکي لاندې موقعیت لري،



(۳۳) انځور د وینې د کوچني او لوی دوران سسټم

وینسته ډوله رگونه (Capillaries):

شسرانلونه چې له زړه څخه راځي، ټول بدن ته ځي او په کوچنیو ځانگو ویشل کیږي. دغه کوچنۍ ځانگې بیا هم په کوچنیو ځانگو ویشل کیږي. په پای کې د بدن په نسجیونو کې د حجرو ترڅنګ هوسره نږې او نازکه کیږي چې له میکروسکوپ څخه پرته یې لیدلای نه شو. دغه وینستو ته ورته نړیو رگونه وینسته ډوله ویل کیږي. وینسته ډوله رگونه د بدن په ټولو برخو کې شته. د وینې او نسجیونو ترمنځ د غذايي موادو جذبیدل اود غازونو بدلیل د وینسته ډوله رگونو له لارې سرته رسېږي.



مخکې مو وویل چې پرته له دینوي شریان څخه نور ټول شسرانلونه پلاک وینه او پرته له دینوي ورید څخه نور ټول وریدونه ناپاکه وینه لري. ددې ځانگړتیا لامل په څه شي کې وینې؟

زړه (Heart):

زړه له یو ډول ځانگړې مخططي عضلي څخه، چې د زړه د عضلي په نامه یادېږي، جوړ شوی دی او د تتر د پمپې دنده د سږو ترمنځ لږ کیم خواته واقع او د پریکارډیوم (pericardium) په نامه د یوې نازکې پردې په وسیله احاطه شوی دی. نوموړې یوه غیر گه پرده ده چې له مایع څخه ډکه ده او زړه له سولیدو څخه ساتي. د هر سږي زړه تقریبا د هغه د موټي په اندازه دی.

د زړه جوړونه: زړه په دوو بڼې او کینو برخو باندي ویشل شوی دی. دغه دوه برخې بیا هم په پلنوالي، په پاسنۍ او نښکتنۍ برخو ویشل شوي دي. پاسنۍ برخې، چې نازک دیوال لري، د دهلیزونو (Atriums) په نامه او لاندینۍ برخې، چې پیرودیوال لري، د بطنونو (Ventricles) په نامه یادېږي. په دې ترتیب زړه په دوو برخو بڼې

دهلیز او ښي بطن او کښې دهلیز او کښې بطن

باندي ښایږي.

د زړه دریچې (Valves):

د زړه ښي او کښې جوفونه داسې واقع شوي دي چې یو دهلیز بل دهلیز او یو بطن بل بطن ته لاره نه لري. ښي دهلیز له ښي بطن سره او کښې دهلیز له کښې بطن سره د دریچو په وسیله اړیکې لري.

د انسان زړه څلور دریچې لري. دوه دریچې د دهلیزونو او د بطنونو ترمنځ او دوه نورې

دریچې د بطنونو او لویو شریانونو ترمنځ واقع دي. د وینې حرکت تل د دریچو د خلاصیدو او تړل کېدو په

وسيله کټرولېږي او یو طرفه دي. د وینې د بهیر له امله دریچې خلاصېږي او وینه له هغوی څخه تیرېږي. دریچې داسې

ځای په ځای شوي چې د وینې د بیرته راگرځېدو مخه نیسي. د ښي دهلیز او ښي بطن ترمنځ درې پله لرونکې دریچه (Tricuspid) او د کښې دهلیز او کښې

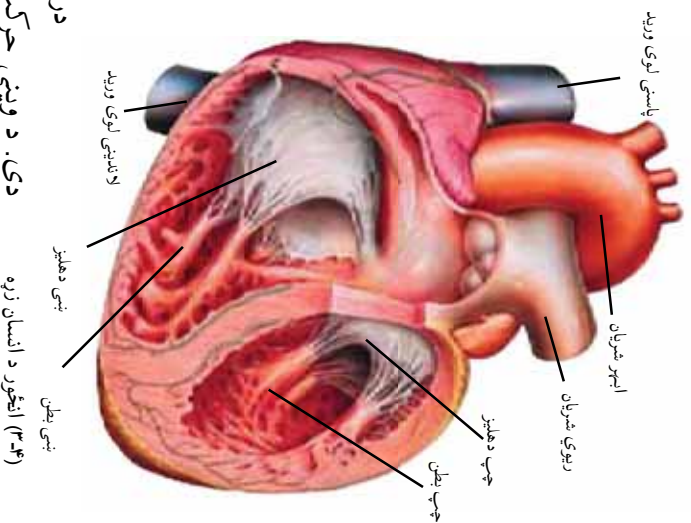
بطن ترمنځ دوه پله ښي دریچه (Bicuspid) وجود لري د ریوي شریان (Pulmonary Artery) او

ښي بطن ترمنځ د ریوي شریان دریچه او د کښې بطن او د اهر شریان (Aorta) ترمنځ د اهر شریان دریچه موقعیت لري.

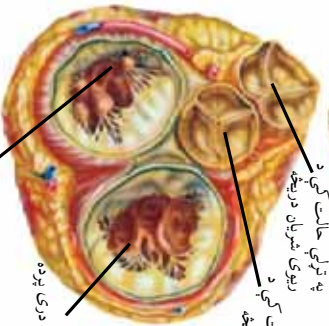
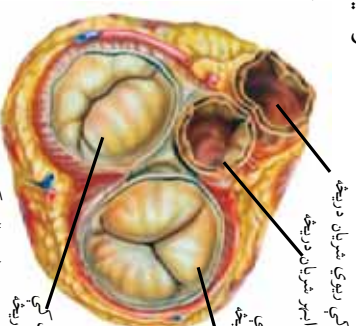
د زړه رگونه: زړه د بدن ټولو برخو ته وینه پمپ کوي. آیا پوهېږئ چې د زړه حجری د اړتیا وړ وینه په

څه ډول اخلي؟ د زړه د اکلیلی شریان (Coronary) له لارې، چې له اهر شریان څخه سرچینه اخلي، د

زړه د عضلې ټولو برخو ته وینه رسوي. زیاتې توکي او CO₂ د اکلیلی وریدونو په وسیله اخلي او د زړه ښي دهلیز ته لېږدول کېږي.



(۳۴) انځور د انسان زړه



(۳۵) انځور د زړه دریچې

د زړه د فعالیت دوران: وینه زړه ته له راتګ وروسته تر بیرته وتلو پورې یو دوران کوي، چې اغېزه یې د زړه په ضربان کې څرګندېږي. وینه په بدن کې له دوران څخه وروسته د زړه د وریدونو له لارې بڼې دهلیز ته ځي. وروسته د زړه په هر ضربان کې د زړه دهلیزونه راتولېږي (مقبض کېږي) او وینه بطنونو ته ځي. د وینې له فشار سره د دهلیزونو او بطنونو ترمنځ درېځي (درې پله یې او دوه پله یې) (خلاصېږي. وروسته د بطنونو په ګډو سره هغوی راتولېږي. په دې حالت کې دوه او درې پاڅنلې (پله یې) درېځي په کلکه تړل کېږي او یو غږ تولېدوي چې هغه د زړه لومړی غږ دی. وروسته د لوی شریان او د ریوی شریان درېځي. خلاصېږي او وینه له کېن بطن څخه لوی شریان ته او له بڼې بطن څخه ریوی شریان ته ننوزي. په دغه حالت کې دا درېځي په کلکه تړل کېږي ترڅو بطنونو کې د وینې د بیرته ګرځېدو مخنیوی وکړي. کم غږ چې د هغې له کبله منځ ته راځي د زړه دویم غږ دی. وروسته بیا له یوې ثانيې نه د لږ وخت لپاره زړه استراحت کوي.

فعالیت



یو قیف واخلي اوخوله یې پر کاغذ یا پلاستیک بڼه کړئ. د قیف په وروستی برخه کې یو پیپ وټوئ. د قیف خوله پر زړه او د پیپ خوله خپل غوږ ته ونیسئ. د زړه غږ بڼسه ښکاره اوریدل کېږي. زده کوونکي باید د زړه لومړی او دویم غږ واورې او د هغوی ډولونه تشخیص او بیان کړي. که چېرې پر رګونو باندې په تیره بیا د لاس د بند پر رګ ګوته کېښودل شي په رګ کې د زړه د ضربان اغېزه احساسېږي چې د نبض په نامه یادېږي.

د انسان زړه په عادی حالت کې په هره دقیقه کې لږ او ډېر ۷۰ ځلې توپرونه وهي. د دروند کار او ورزش او یا د تې په وخت کې د زړه ضربان زیاتېږي. د دښتې د سرو زره په هره دقیقه کې ۲۰۰-۴۰۰ ځلې او د فیل زړه چې یو لوی حیوان دی، ۱۲ ځلې توپرونه وهي.

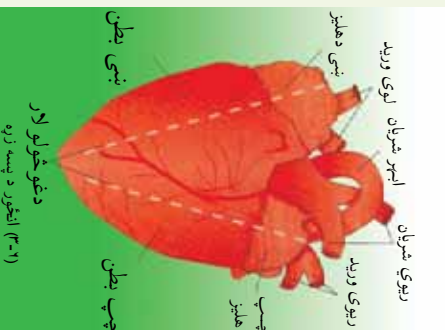


ولې په مخته‌لاندو شرايطو کې د وگړو د بېض بشپړېد د بېلگې په ډول د استراحت او د ورزش په حالت کې، يوه بل سره توپير لري؟



فعاليت:

- 1- د پسه د زړه سپول او څيرل.
د پسه يو روغ زړه پيدا کړئ.
- 2- لومړی دهغه بهرنۍ برخې په څېر وگورئ. کوټښتن وکړئ چې د هغه، دهليزونه، اوبطنونه، د بهر له خوا وپېژنئ.
- 3- يو بنسټل يا خوځاکړقلم هغه رگ ته نښاسئ ترڅو د زړه نيخ ته ورسېږي. وروسته بيا د قلم په اوږدو زړه په بياني پرانيږي په دې کار کې، دهليز اوکټې، بطن پيدا کړئ.
- 4- له دغه غوڅولو سره موازي د زړه ښې خوانه ځای څېري کړئ چې وکړای شئ ښې دهليز او ښې بطن وگوري.



د وينې دوران: د وينې دوران په دوو برخو، لوی دوران او کوچني دوران، ويشل کېږي. څرنگه چې په (۳۳) شکل کې وينې، د جريان عملیه د زړه له کېښ بطن څخه د بدن ټولو برخو ته او د هغې راگرځېدل د زړه ښې دهليز ته د وينې د لوی دوران په نامه يادېږي. د وينې د جريان عملیه د زړه له ښې بطن څخه سرپورته او له سرو څخه د زړه کېښ بطن ته د کوچني دوران په نامه يادېږي.



فعاليت:

يوه ډله زده کوونکي دي د ټولگي په منځ کې د وينې دوران د څو دانو سور رنگه او آبي رنگه پوکښو په وسيله د (۳-۴) شکل له هغې د ښوونکي په مرسته تمثيل کړي.

لمف (Lymph): زړه د وينې د هر پمپ پر مهال د زيات فشار له امله يوه اندازه منحل مواد وښېسته ډوله رگونو له نازک ديوال څخه د نسجونو په تش ځای کې توپيري او بيرته رگونو ته نه ورځي. د وينې سپين کرويات د وينښته ډوله رگونو له ديوال څخه د نسجونو تشي ته ننوزي.

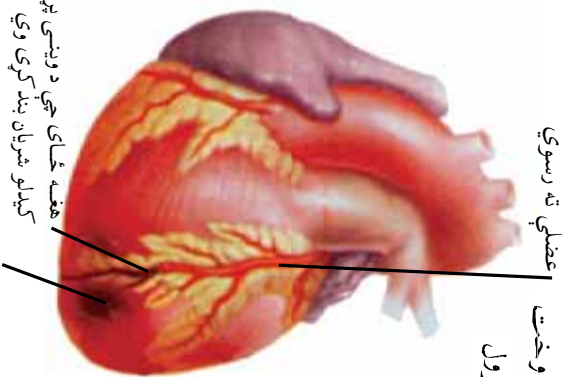
د نسجوتو په تش ځای کې موجود مواد لمفاوي مایع جوړوي چې ځاځګرو رګونو (لمفاوي رګونو) ته ننوزي او بیا د وینې جریان ته رسېږي. لمفاوي رګونه دريځي لري چې لمف ته د وینې په لوري حرکت ورکوي او د هغه د راګرځېدو مخه نیسي. لمفاوي رګونه په خپله لاره کې له لمفاوي غوتو څخه تېرېږي چې په دغه غوتو کې سپین کرويات موجود دي او کولای شي وینې ته له ورغلو میکروبونو سره مبارزه وکړي.

د وینې د دوران ستونزي:

هر کال په سل ګونو زره انسانان د چاغوالي او د وینې د لوړ فشار له امله مري. د وینې د دوران ستونزي د سګرټ څکولو، په وینه کې د کلسترولو (د وینې غوړ) د اندازې لوړ والي، روحي فشار او د ورزش د کموالي له کبله منځ ته راځي. رغنده غدایي رژیم او منظم ورزش کولای شي د وینې د دوران ستونزي تر یوې کچې لږې کړي.

د زړه حمله: د زړه حمله د زړه د شریان د بندېدو له امله چې د زړه حجرو ته د وینې او اکسیجن د نه رسېدو لامل کېږي منځته راځي ته زړه د شریان بندېدل (Atherosclerosis) هغه وخت منځ ته راځي چې د وینې د رګونو په دننه دیوال کې کلسترول د یو پوښ په ډول جوړېږي. د کلسترول تولیدېدل د وینې د رګونو د قطر پېروالي او نرموالي کموي. د وینې د بهیر وړو والي د زړه په حجراتو کې د اکسیجن د کموالي لامل کېږي. پرته له اکسیجن څخه د زړه حجروي پوښ له منځه ځي. کله چې د زړه حجروي بڼه پوره اندازه له منځه لاړې شي، زړه بېلابېلې ودېږي.

د وینې لوړ فشار (Hypertension): زړه دا تقاضا (راکټل) په حالت کې وینه په ډېر زور شریان ته لېږدوي، چې له دې امله د رګونو پر دیوال فشار راځي. دغه فشار ته د وینې فشار ویل کېږي او د فشار د کتلو د آلې (Manometer) په وسیله د مست له شریان څخه معلومېږي. په غیر نورمال ډول د وینې د فشار لوړېدل د وینې له لوړ فشار څخه عبارت دی. د وینې فشار د زړه د حملې د زړه د دریدو، مغزی سکتي او د پښتورګو د ناروغیو لوی احتمالي خطر دی.



هغه شریان چې وینه د زړه عضلې ته رسوي
هغه ځای چې د وینې پوښ کېدلای شریان بند کړي وي
د زړه هغه برخه چې د اکسیجن وده رسېدلې له کبله د زړه عضلې زیان موندلای.

(۳-۷) انځور اکلیلي شریان



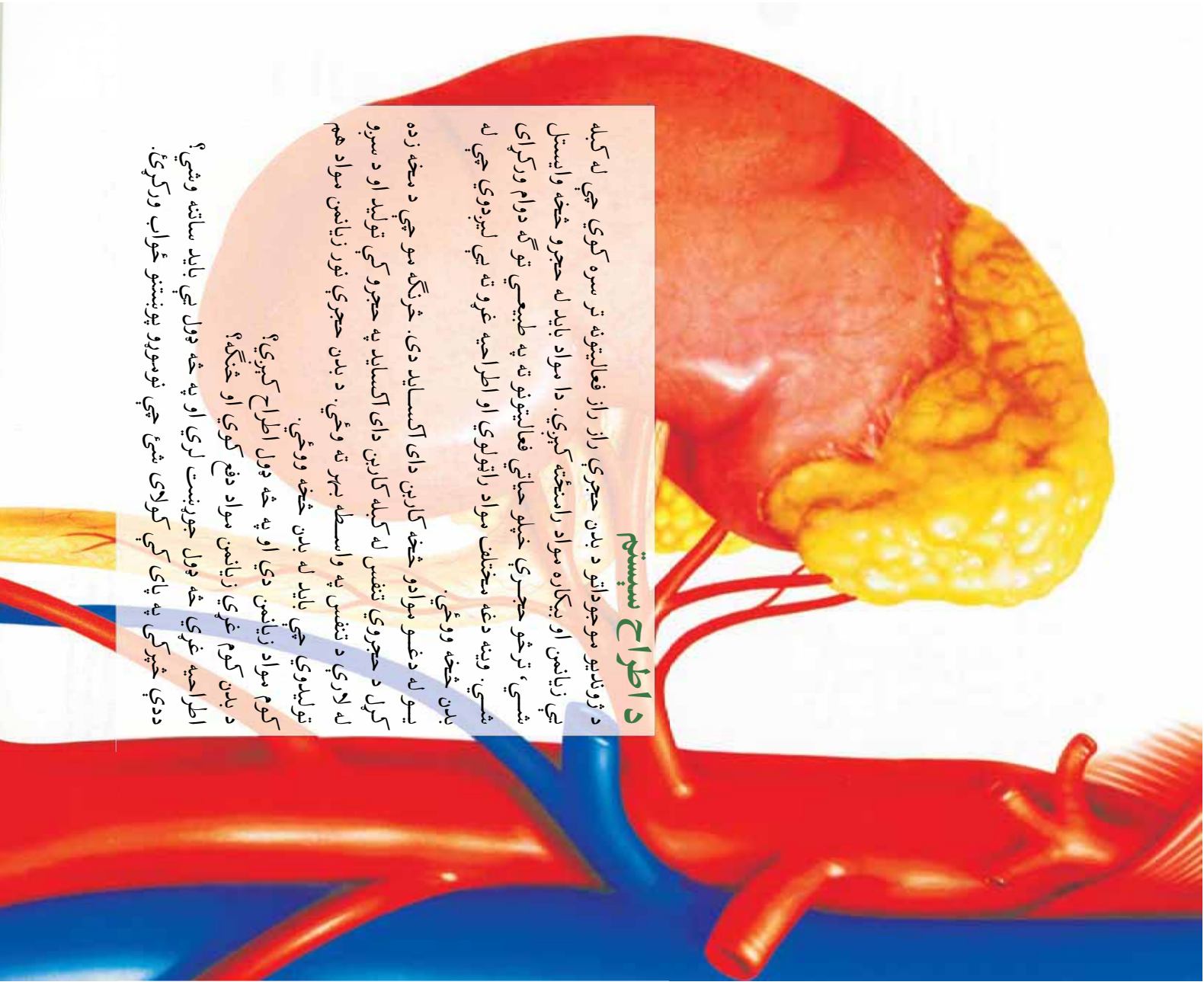
د درېم څپرکي لنډيز:

- ▶ د وينې په دندو کې د اکسيجن، غذايي توکو، دفاعي حجرو او د وينې پرن کېدل دي. د بدن په حجرو کې د کاربن ډای آکسايډ په څېر له کاره وتلي مواد اطراحي غړو ته لېږدوي.
- ▶ د وينې په رگونو کې، شريانونه، وريدونه او وينېته ډوله رگونه شامل دي.
- ▶ د وينې څلور اساسي اجزاي عبارت دي له پلازما، د وينې سره کرويات، د وينې سپين کرويات او دمويه صفحات.
- ▶ هر سړی د وينې ABB₂A او «O» له گروپونو څخه يو گروپ لري.
- ▶ د انسان زړه د زړه له عضلاتي نسجونو څخه جوړشوی دی او په نسبو او کينورينجو ويشل شوی دی، چې د يو پند ديوال په وسيله له يو بل څخه جلا شوی دی. د نبي او کبي هره يوه برخه بياهم په سور(عرض) په دوو برخو ويشل شوی ده چې د دهليزونو او بطنونو په نامه يادېږي.
- ▶ د دهليزونو او بطنونو ترمنځ او د بطنونو او شريانونو ترمنځ دريځي ځای لري چې د وينې د بېرته گرځېدلو مخه نيسي.
- ▶ د وينې د دوران ستونزې د سگرتو څښل، په وينه کې د کلسترولو لوړ والی، روحي فشار او د ورزش کموالی دی.
- ▶ د وينې لوړ فشار کولای شي د زړه د حملې، د زړه د دريدو، مغزي سکتي او د پښتورگو د ناروغيو لامل شي.

د دريم څپر کي پوښتني

- ۱- وينه له کومو اجزاو او څخه جوړه شوې ده؟
- ۲- د وينې د گروپونو نومونه واخلي او د گروپونو له مخې د وينې د ليردوني څرنگوالی په دياگرام کي وښايست.
- ۳- شريان او وريد يو له بل سره څه توپير لري؟
- ۴- د زړه لومړی غږ او دويم غږ په څه ډول توليديري؟ بيان يې کړئ.
- تش ځايونه په مناسبو کلمو ډک کړئ او په خپلو کتابچو کي يې وليکئ.
- ۵- د وينې درې ډوله رگونه عبارت دي، له.....،..... او.....
- ۶- د وينې سره کړويات په..... کي جوړيري.
- سم ځواب و ټاکئ او په خپلو کتابچو کي يې وليکئ.
- ۷- د وينې جامد مواد د..... په نامه ياديري.
- الف- پلازما ب- کړويات ج- لومف د- سيروم
- لاندي سمو جملو ته په خپلو کتابچو کي د (ص) توری او ناسمو جملو ته د (غ) توری وليکئ.
- ۸- شريانونه ټاټکه وينه د بدن له حجرو څخه زړه ته ليردوي. ()
- ۹- په هر ملي ليتر وينه کي د سپينو کروياتو شمير پنځه ميليونه دی. ()
- ۱۰- د انسان زړه درې جوفونه، دوه دهليرونه او يو بطن لري. ()

ڄلورم ڇپرکي



د اطراح سيسٽم

د ژوندنيو موجوداتو د بدن حجروني راز راز فعاليتونه تر سره کوي چي له کبله يي زيانمن او بيمکاره مواد رامېنځته کيږي. دا مواد بايد له حجرو څخه وايستل شي، ترڅو حجروي خپلو حياتي فعاليتونو ته په طبيعي توگه دوام ورکړای شي. ويښه دغه مختلف مواد راټولوي او اطراحيه غړو ته يي لېږدوي چي له بدن څخه ورځي.

پيو له دغو موادو څخه کاربن ډاي آکسايډ دی. څرنگه مو چي د مځه زده کړل د حجروي تنفس له کبله کاربن ډاي آکسايډ په حجرو کي توليد او د سږو له لارې د تنفس په واسطه بهر ته وځي. د بدن حجروي نور زيانمن مواد هم توليدوي چي بايد له بدن څخه ورځي.

کوم مواد زيانمن دي او په څه ډول اطراح کيږي؟
د بدن کوم غړي زيانمن مواد دفع کوي او څنگه؟

اطراحيه غړي څه ډول جوړښت لري او په څه ډول يي بايد ساتنه وشي؟
ددې څپرکي په پای کي کولای شئ چي نوموړو پوښتنو ځواب ورکړئ.

د بدن د حجرو ضایعات:

له هضم شویې او جذب شوي غذا څخه د انرژۍ د تولید لپاره په بدن کې د حجرو د حیاتي عملیو په وسیله فاضله توکي تولیدیږي. په دې توکو کې کاربن ډای آکسایډ، امونیا، یوریا، اضافي ماڼګي، یوریک اسید او د بدن اضافي اوبه شاملې دي.

د بدن د حجرو د فاضله موادو دفع کول په مختلفو لارو تر سره کېږي، لکه سږي، د بدن پوستکي، پښتورګي او غټي کولمې. لاندې جدول د بدن له مختلفو سیستمونو څخه د فاضله توکو خارجیدل (اطراح) له بدن څخه ښيي.

دفع کوونکي برخه	تولیدوونکي عمليې	فاضله مواد
سږي	په بدن کې حجروي تنفس	اوبه او کاربن ډای اکسایډ
پوستکې، پښتورګي او پښه	د پروټین هضم او د حجرو حیاتي فعالیت	ماڼګه، اوبه او یوریا

د فاضله توکي طرحه کول باید د ژوندیو موجوداتو یو له ډېرو مهمو عملیو څخه و ګڼل شي. په دې عملیه کې پښتورګي مهم رول لري، پښتورګي وینه تصفیه کوي، د بدن د اوبو تعادل تنظیموي او د وینې فشار ثابت ساتي.



د بولي سیستم غړي

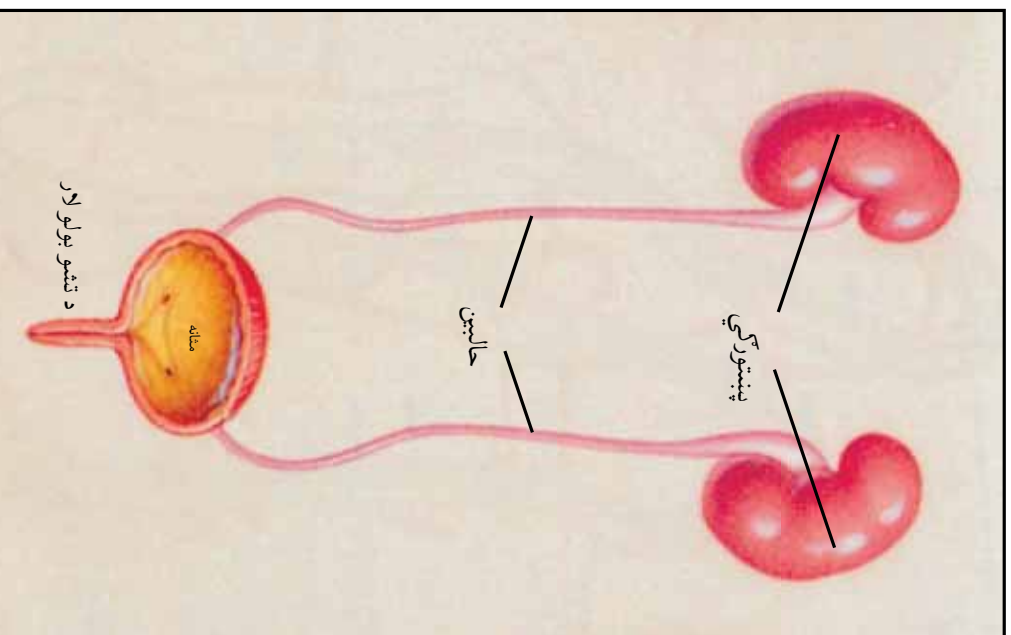
بولي سیستم له پښتورګو، حالبینو، مثاني او بولي مجرا څخه جوړ شوی دی.

پښتورگي

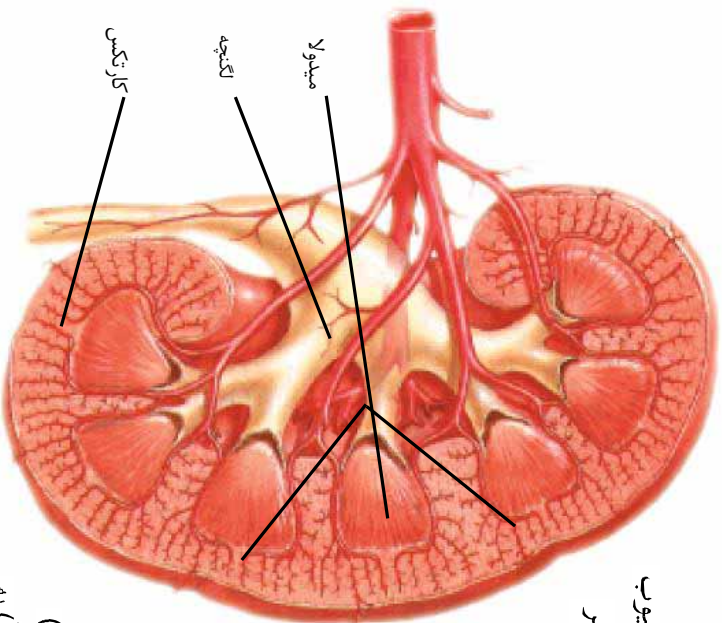
پښتورگي يوه جوړه غړي دي چې ويښه له فاضله توکو څخه پاکوي. پښتورگي د مڼا په برخه کې د مڼا د تير په دواړو خواوو د حجاب حاجز (ديافراگم) نه گڼسته او د شحمي نسجونو په منځ کې موقعيت لري چې د يوې نازکې پردې په واسطه پوښل شوي دي. نسواري رنگ او لويښته ورته بڼه لري. د وينې رگونه او د تشوبولو د لېږدولو تېوونزه (حالين) د پښتورگي په ننوتې برخه کې د پښتورگو دننه برخې سره اړيکې لري.

حالين Ureters: د تشوبولو کانالونه دي چې ۳۰ سانتي متره اوږدوالی لري او تشپي بولي له پښتورگو څخه مڼانې ته لېږدوي.

مڼه (Urinary Bladder): که څه ناڅه پوره ارتجاعي کڅوړه ده چې د شمزۍ د وروستۍ برخې (لگن خاصرې) په تش ځای کې پرته ده او د تشوبولو په زياتېدو سره پراخېږي. د تشوبولو د دفعې په وخت کې د مڼانې بنسوي عضلې کيکارېدل کېږي او فشار راولي چې د مڼانې د عضلاتي حلقې يا سفيکټرونو (Sphincters) له



(۳-۱) انځور د اطراح سیستم



(۳-۲) انځور د پښتورگي جوړښت

لاري تشي بولي ووځي.
بولي مجرا (Urethra): يو نری تيوب

دی چې تشي بولي له مثاني څخه بهر باسي. بکتریا د بولي مجرا او د مثاني د عفونت (میکروبي کېدل) او د سموي او خارښت لامل ګرځي. کله کله د زيات تخريش له کبله په تشومولو کې وينه پيدا کېږي.

د پښتورگي جوړښت:
 په پښتورگي کې درې برخي ليدل کېږي:

الف: بهرنۍ برخه چې د کارنکس (Cortex) په نامه يادېږي.

ب: منځنۍ برخه د مېدولا (Medulla) په نامه يادېږي چې د پيراميد (Pyramid) په نامه له هرم شکلو برخو څخه جوړه شوې ده.

ج: داخلي برخه د تشومولو د راتلولو تش ځايونه دي چې د لنگچي (Pelvis) په نامه يادېږي او له حاليينو سره نښتي دي.

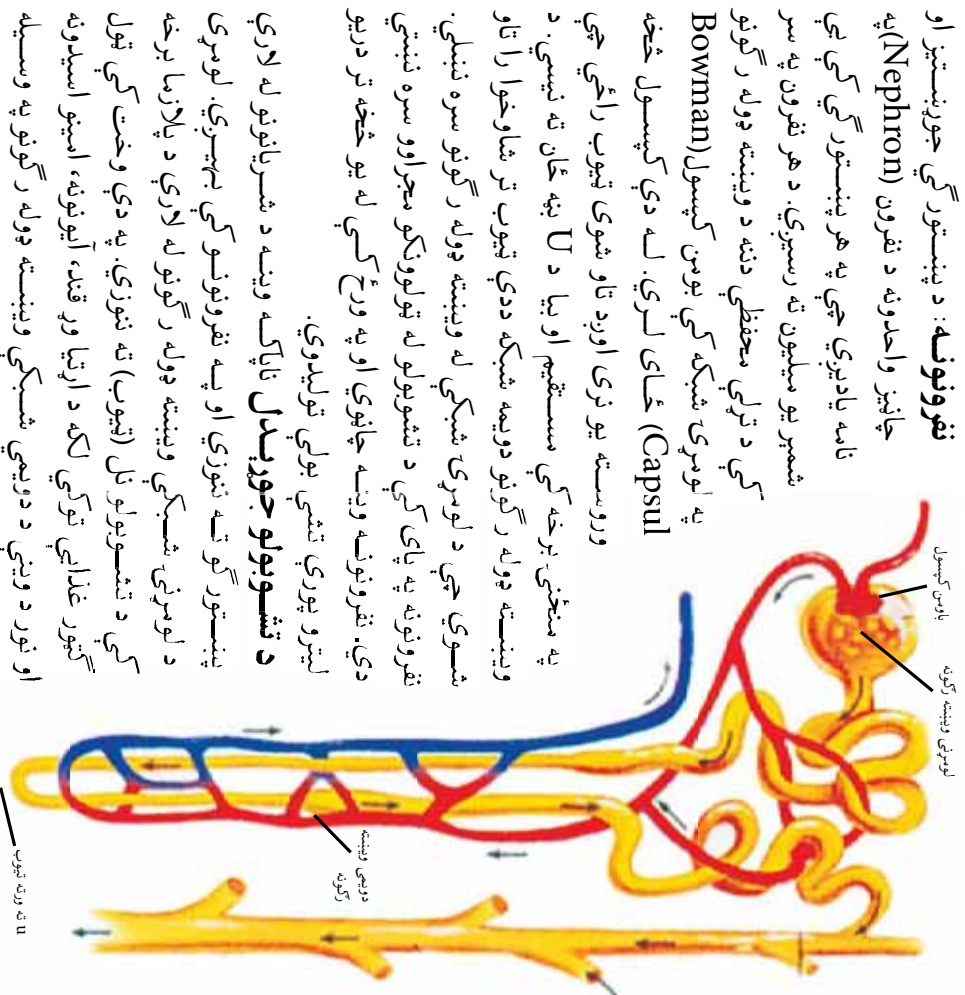
فعاليت:



له قصاب څخه د پسه يو پښتورگي تر لاسه او له وازد وني پاک کړئ. د هغه ظاهري بڼه، رنگ او غټوالی په څير سره وگورئ. له پښتورگي سره د ويني د رگونو او د حالب د نښتو ځای په گوته کړئ او د ويني رگونه او حالب سره جلا کړئ. پښتورگي په يو تيره چاکو پسه اوږدو پرې کړئ. د دني برخي جوړښتونو ته يې په څير وگورئ او رسم يې کړئ. کوم توپيرونه چې د بهرنۍ برخي، مېدولا او پلويس برخو ترمنځ کنټراي شوي، وني ليکن.

(۳-۳) انځور د پسه د پښتورگي تسليخ

آیا د تشمو بولو اندازه په اوري او زهي کې يو شان وي؟ ولې؟
آیا د تشمو بولو رنگ په اوري او زهي کې سره توپير لري؟ ولې؟



نفرونونه: د پښتورگي جورښتيز او چاڼيز واحدونه د نفرون (Nephron) په نامه يادېږي چې په هر پښتورگي کې لږ شمېر يو ميليون ته رسېږي. د هر نفرون په سر کې د تړلي محافظي دننه د وينېته ډوله رگونو په لومړۍ شبکه کې بوټس کپسول (Bowman Capsul) ځای لري. له دې کپسول څخه وروسته يو نری اوږد تاو شموی ټيوب راځي چې په منځني برخه کې مستقيم او بيا د U بڼه ځان ته نيسي. د وينېته ډوله رگونو دويمه شبکه ددې ټيوب تر شاوخوا را تاو شموی چې د لومړۍ شبکې له وينېته ډوله رگونو سره نښلې. نفرونونه په پای کې د تشمو بولو له ټولرونکو مجراوو سره نښتي دي. نفرونونه وينه چاڼوي او په ورځ کې له يو څخه تر دريو ليټرو پورې تشي بولي توليدوي.

د تشمو بولو جوړښل ناپاکه وينه د شريانونو له لارې پښتورگو ته ننوزي او په نفرونونو کې بهيږي. لومړی د لومړنۍ شبکې وينېته ډوله رگونو له لارې د پلازما برخه کې د تشمو بولو نل (ټيوب) ته ننوزي. په دې وخت کې ټول گټور غدائي توکي لکه د اړتيا وړ قند، آيونونه، امينو اسيدونه او نور د وينې د دويمې شبکې وينېته ډوله رگونو په وسيله بيرته جذبېږي. په وينه کې نورې پاتې اضافي اوبه او زيانمن مواد لکه امونيا، يوريا، يوريک اسيد، اضافي مالگه او د بدن نور اضافي کيمياوي مرکبات د نفرونونو له ټيمونو څخه د لگښچي په تش ځای کې را ټولېږي. هغه وينه چې له فاصله توکو پاکه شموی وي د وريدونو له لارې له پښتورگو څخه خارجېږي.

(۳۴) انځور د نفرون جوړښت



د تشو بولو دفع کول: په پلويس (لاگنچه) کې راټولې شوي تشې بولي د حالينو له لارې مثاني ته راځي. کله چې په مثانه کې ۲۰۰-۳۰۰ ملي ليتره تشې بولي ټولې شي د هغې حجم زياتېږي. د مثاني د داخلي سفینکټري عضلي په غیر ارادي توگه خلاصه او د تشو بولو دفع کولو ته اړتيا احساسېږي. د بهرنۍ سفینکټري عضلي ارادي دي او د انسان په غوښتنه خلاصېږي او بيا مثانه تشېږي. مثانه تر ۸۰۰ ملي ليټرو پورې ځای لري، خو په دې وخت کې خوړېږي.


د پښتورگو ستونزې:

د پښتورگو کافي: په پښتورگو کې کافي له کومه پيدا کېږي؟ د نفرونونو د نورمال د نه فعالیت له امله په تشو بولو کې اضافي توکي لیدل کېږي، لکه کلسیم، مگنیزیم، زیاتي یوریک اسید چې کله د پښتورگو د لگنچې په تشو ځایونو کې رسوب او تېلور کوي او کافي جوړوي، پر مخکښو ترساتو باندې د نورو موادو رسوب د کافي د غټېدو لامل گرځي. د اوبو او هوا شرایط، د غذا ډول او مصرفي اوبه په پښتورگو کې د کافي د پيدا کېدو لامل دي. ځینې وخت واړه کافي د حالینو له لارې مثاني ته رسېږي. کله چې کافي له حالینو تېرېږي د هغوی تیره څوکه حالت تخریش کوي او د شدید درد او ونډې بهیدو لامل کېږي. واړه کافي چې مثاني ته ننوزي له تشو بولو سره خارجېږي. که کافي غټ وي په لگنچې او یا حالت کې پاتې کېږي او د تشو بولو لاره بندوي. **نفريت (Nephritis):** ځینې ناروغۍ لکه د ستوني درد، له میکروبونو څخه را پيدا شوی زهر او د ناروغیو د لاملونو زیات

او چټک فعالیت لکه په وینه کې بکتريا پښتورگو ته ډېر سخت زیان رسوي، او په پښتورگو کې د تفریت په نامه سخته ناروغي منځ ته راځي. که چېرې پښتورگی په ښه شان فعالیت ونه کړي فاضله یا اضافي توکي په وینه کې پاتې کېږي. دا توکي د بدن پر نورو مهمو غړو، لکه زړه، اغیزه کوي. که چېرې پر خپل وخت یې درملنه و نشي د ناروغ د سریني لامل گرځي. د چاپیریال ځینې ککړوونکي توکي پښتورگو ته زیان رسوي. د بیلګې په توګه ډیری درانده فلزونه لکه وسپنه، نکل، او سیماب د نفرونو لپاره زیانمن دي.

د پښتورگو د درملنې نوې لارې:

آیا شونې ده چې له جراحی پرته د پښتورگی کافي له بدن څخه وایستل شي؟ په پخوا وختونو کې به ډاکترانو د ناروغ نس پرانستلو، پښتورگی به یې څیړي کاوه او کافي به یې ترې ویستل چې دا راز درملنه ډېره سخته وه. خو اوس له نوې تکنالوژۍ څخه په ګټې اخیستنې سره د ماورای صوت (Ultrasound) د موجودو په وسیله د پښتورگی په دننه کې کافي ماتیري او مات شوي کافي له تشویدلو سره خارجېږي. اوس هم غټ کافي له پښتورگو څخه د جراحی په وسیله ایستل کېږي.





(۳-۵) انځور د وینې څخه د زایدو موادو د اطراح دستگاه (مصنوعي پښتورگي)

مصنوعي پښتورگي يا د باليز (Dialysis): د پښتورگو د خرابېدلو لامل په وينه کې د فاضله موادو زياتوالی، د وينې مسموميت، د ځینې درملنو په تېره بيا د انټي بايوټيکو نو حساسيت په ځانگړی توگه د وينې د فشار ناڅاپي ښکته کېدل او نور گڼل کېږي. په دې حالت کې پښتورگي له کاره لوبږي او بېړنۍ پاملرنې ته اړتيا لري. که نه، نو د دوو يا دريو ورځو په ترڅ کې د مړينې لامل گرځي. کله چې د ناروغ پښتورگي له فعاليت څخه پاتې شو، د هغه وينه د دياليز د دستگاه په وسيله تصفيه کوي. په دې ترتيب چې دناروغ وينه د ورديدونو له لارې د دياليز د دستگاه د سلوفان په نامه له يو تارواتاو کاغذي نل څخه تېروي. دغه نلونه په يو لوبښي کې چې د ماڼگي محلول ولري ځای په ځای شوي دي. يوريا او اضافي ماڼگي د نلونو له دېوال څخه د ماڼگي محلول ته خپريږي.

د ناروغ تصفيه شوي وينه يو ځل بيا د هغه بدن ته پمپ کېږي. دغه عملیه د دياليز په نامه يادېږي، چې خورنه لري خود بشپړې تصفيې لپاره څو ساعته وخت ته اړتيا ده او بايد په اونۍ کې دوه واري تر سره شي.

د پښتورگي پيوند: د ناروغ پښتورگي پر ځای د روغ پښتورگي پيوندول دي. د ناروغ پښتورگي پيوند ډېر سخت دی. ځکه که د ناروغ بدن نوی پښتورگي پردی وگڼي نو دغه حالت ډېرې ستونزې منځ ته راوړي. ځکه د پښتورگو په پيوندولو کې د اشخاصو د وينې سمون په پام کې نيول کېږي.

د جراحي له عمل څخه مخکې د هغه شخص چې نوی پښتورگي اخلي، د پرديو عواملو په مقابل کې د بدن مقاومت د يوې اورېدې مودې لپاره را ټيټوي او بيا په تدريجي ډول د هغه د بدن مقاومت بېرته زياتوي، ترڅو له نوي پښتورگي سره توافق حاصل کړي او د پيوند عملیه په ښه شان سرته ورسېږي.



د څلورم څپرکي لنډيز:

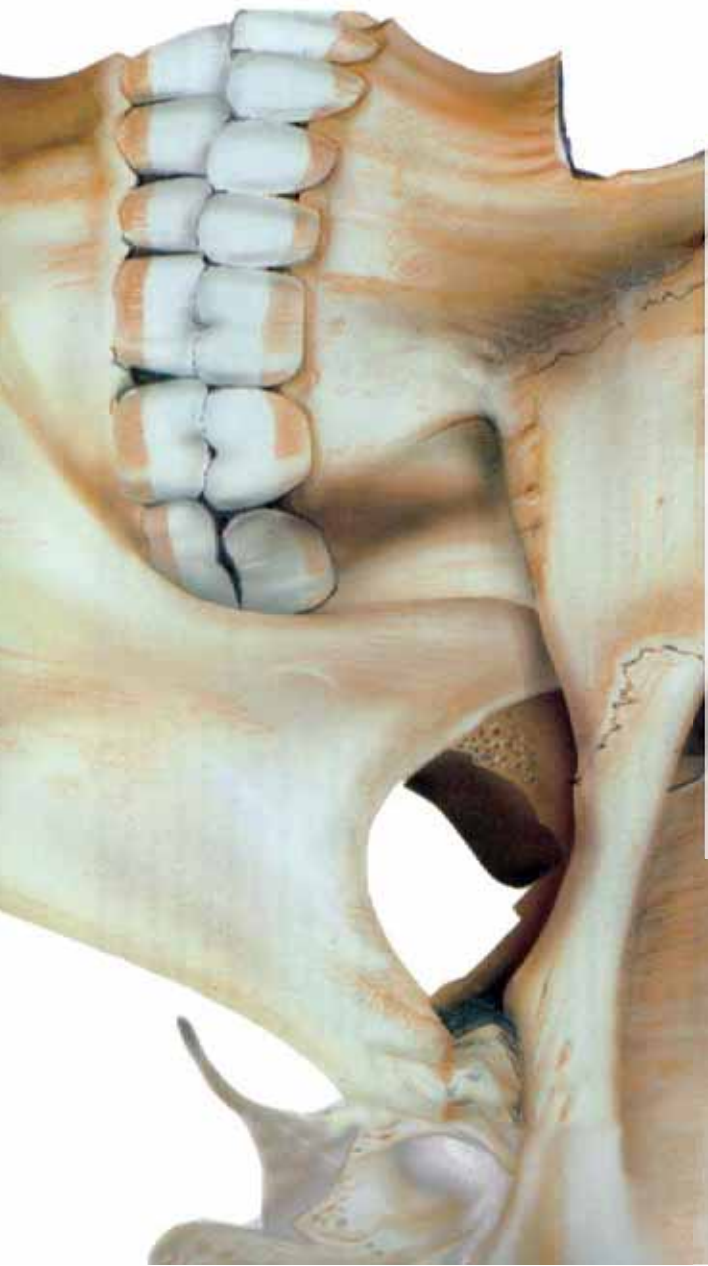
- ▶ اطراحي سيستم له پښتورگو، حالينيو، ستاني او د تشو بولو له مجرا او شخصه عبارت دی.
- ▶ پښتورگي له بهرنيو، منځنيو او داخلي دريو طبقو څخه جوړ شوي دي.
- ▶ نفرون د پښتورگي ميکروسکوپي جوړښتيز او چاڼيز واحد دی.
- ▶ د پښتورگو نفرونونه د ويبي زيانمن مواد تصفيه کوي. د بدن اوبه تنظيم او د ويبي فشار ثابت ساتي.
- ▶ تشي بولي د پښتورگو د لگښچي له تش ځای څخه د حالينو په وسيله ستاني ته لېږدول کېږي.
- ▶ د ستاني داخلي محتويات د تشوبولو د مجرا له لارې بهر ته تشيږي.
- ▶ ځيني وخت کلسيم، مگنيزيم، يوريک اسيد او داسي نور د لگښچو په تش ځای کې رسوب او سره يو ځای کېږي او د پښتورگي کافي جوړوي.
- ▶ د چاپيريال ځيني ککړونکي مواد لکه درانده فلزونه، او ځيني ناروغي او زهري مواد په وينه کې د پښتورگو د خرابېدلو لامل گرځي.

د څلورم څپر کې پوښتني

- ۱- تشني بولي څه شی دي او څه ډول له وينې څخه جلا کېږي.
- ۲- د پښتورگي واړه کافي د جراحي له عمل څخه پرته په څه ډول له بدن څخه ایستل کېږي؟
- ۳- د پښتورگي د تسليخ په وخت کې د پښتورگي جوړښتونه په څه ډول مشخص کوي؟ په رسم کې یې وښایاست.
- ۴- د خپل ځان او د خپلې کورنۍ د غړو د اطراح سیستم ساتنه څنگه کولای شئ؟
- ۵- په نفرون کې د وینبته ډوله رگونو لومړنۍ شبکه د وینبته ډوله رگونو له دویمې شبکې سره مقایسه کړئ.
- لاندي جملې په خپلو کتابچو کې په مناسبو کلمو ډکې کړئ.
- ۱- د پښتورگي چاټکوونکی میکروسکوپي واحد د..... په نامه یادېږي؟
- ۷- پښتورگي له دوو طبقو..... او..... څخه جوړ شوي دي.
سم ځواب وټاکئ:
- ۸- د فاصله توکو ډېره برخه اوبه، مالګه او یوریا..... له بدن څخه طرحه کوي.
الف: سري ب: بدن پوستکی ج: غټې کولمې د: پښتورگي
- ۹- پلویس یا لگنچه د پښتورگي په..... کې ده.
الف: داخلي طبقه ب: مځنۍ طبقه ج: بهرنۍ طبقه د: حالبین
- په خپلو کتابچو کې لاندي جملو ته، که سمې وي د (ص) توری او که ناسمې وي د (غ) توری ولیکئ.
- ۱۰- پښتورگي وینه تصفیه کوي، په بدن کې د اوبو، تعادل تنظیموي او د وینې فشار ثابت ساتي. ()
- ۱۱- تشني بولي له مثاني څخه د حالبینو په وسیله په لگنچه کې تودېږي او له هغه لارې له بدن څخه طرحه کېږي. ()
- ۱۲- تشني بولي له اوبو، یوریا، یوریک اسید، مالګې او نورو کیمیاوي مرکباتو څخه عبارت دي چې د بدن له وینې څخه د پښتورگو د نفرونو په وسیله طرحه کېږي. ()

د هډوکو او عضلاتو سیستمونه

کله چې د سکلیټ نوم اوریئ بنایي تاسي د هغو شیانو د پاتي شونو په فکر کې شئ چې مړه شوي دي. ځینی خلک په دي باور دي چې هډوکي ژوندي نسجونه، نه دي خو هغوی ژوندي او فعال دي. هډوکي مختلفي دندي لري. هډوکي د عضلو له ټینګولو او ساتلو سره مرسته کوي. د بېلګې په توګه د ژاسو عضلي د خوړو په ژولو کې مرسته کوي او د پتر په پنجره کې د پښتپود منځ عضلي تنفس شوني کوي. عضلي نوري دندي هم لري. زړه وینه په بدن کې په دوران راولي. ستاسي ګڼه خوږه هضموي. دا دواړه له عضلو څخه جوړ شوي دي. په پنجم ټولګي کې تاسو د سکلیټ او عضلو په اړه یوه اندازه معلومات تر لاسه کړي دي. د دې څپرکي په لوستلو تاسي د هډوکو او عضلو له جوړښت، شکل، دندو او موقعیت سره آشنا کیرئ. د هډوکو، بندونو او عضلو د ناروغیو او د سکلیټ او عضلو په وده او روغتیا کې د ورزش پر اهمیت پوهیرئ او هغه تشریح کولای شی.



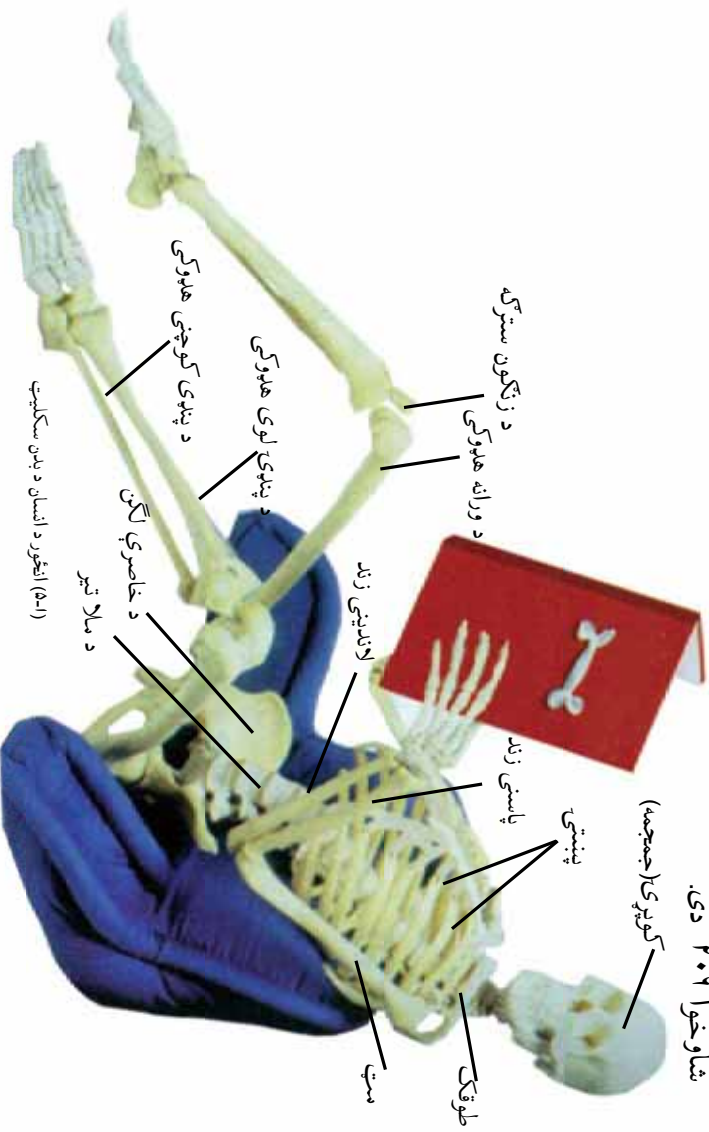
سکلیټ (Skeleton)

سکلیټ د بدن د عضلو د محور او ټینګېدو ځای دی چې د عضلو د اقتباس له امله په خوځښت راځي. هډوکي، کرپندوکي او بندرونه ستاسي د سکلیټ سیستم جوړوي.

په عمومي توګه د انسان د بدن سکلیټ په دوو برخو ویشل کېږي:

۱- محوري سکلیټ (Axial skeleton): محوري سکلیټ د ستنې یا د یو تیر په ډول دی چې ضمیموي سکلیټ ورپورې نښتی دی. او په هغه کې د سر د کاسې هډوکي، د ملا تیر، پښتۍ اود تتر هډوکي شامل دي.

۲- ضمیموي سکلیټ (Appendicular sekeleton): چې د هډوکو شمېرې د محوري سکلیټ له شمېر څخه ډېر دی او د لاسونو، پښو، شمزې، گروي او د اوږو د چارې هډوکي په کې شامل دي. په منځنۍ توګه د یو بالغ شخص د هډوکو شمېر شاوخوا ۲۰۱ دی.



د هډوکو دندې

هډوکي پلاپيلې دندې لري:

۱. **سائنه:** هډوکي د بدن ډيری غړي له بهرنیو میخانیکي زیانونو څخه ساتي؛ د پېلگي په توگه: سرې او زړه د پښتېو په وسیله، شوکي نخاع د ملا د تیر په وسیله او ماغزه د سر د کاسي په واسطه ساتل کیږي. دغه راز هډوکي د بدن په نیغ ساتلوکي مهم رول لوبوي. ۲. **زیومه:** هډوکي، منرالونه زیرمه کوي او بدن د اړتیا پرمهال له هغوی څخه گټه اخلي.

یوه مور د امیدواری پر وخت د خپل ماشوم د هډوکو د جوړښت لپاره د خپل بدن له مالگي، کلسیم او فوسفورس څخه گټه اخلي. زیرمه نشوي کلسیم د هډوکو له حجرو څخه ویني ته ننوزي او د بدن په نورو اړوندو برخو کې لگيږي.

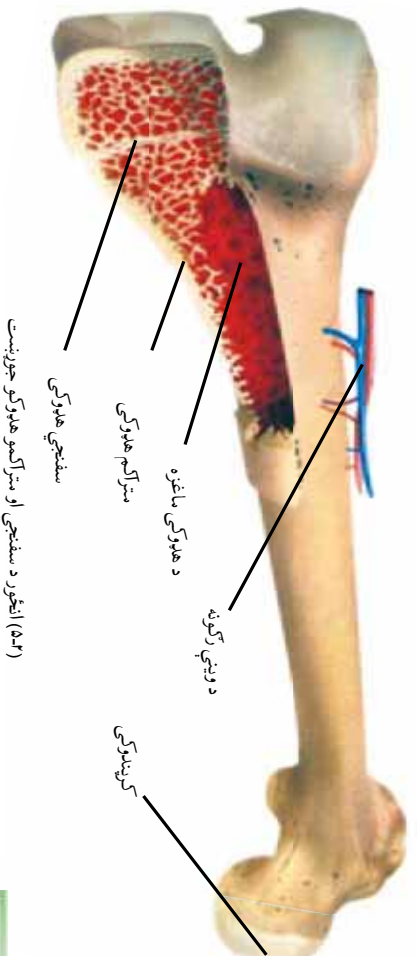
۳. **خوځښت:** سکلیټ داسې ترتیب شوی چې د لازمي چکتیا سره مناسب حرکت منځ ته راوړي. سکلیټي عضلي د هډوکو د پاسه کش کېږي ترڅو د خوځښت زمینه برابره کړي. له هډوکو پرته په آسماني، ناستي، گرځیدلو او ځغاستي وسه نشته.

۴. **د ویني د کرویاتو جوړول:** په هډوکو کې ځانگړی نسج د هډوکو د مغزو (Bone marrow) په نامه موجود دی. د ویني ډیری کرویات د هډوکو په مغزو کې جوړیږي.

د هډوکو جوړښت

هډوکي ارتباطی نسج دی چې په هغه کې د هډوکو حجري (Osteoblasts)، کاني او عضوي مواد شتون لري. د هډوکو کاني مواد د کلسیم فوسفیت او کلسیم کاربونیټ له مرکباتو څخه جوړ دي او د هډوکو کلکوالی هم د همدې توکو له کبله دی. په ماشومانو کې د هډوکو ډیره برخه د کاني توکو د زیرمو د لږوالي له کبله پسته او ارتجاعي وي. په مجموعي ډول د هډوکو د نسجونه جوړښت له دوه ډوله مترآکو (Compact bone) او سفنجي (Spongy bone) څخه عبارت دي. که چیرې هډوکو

د نسج حجری سره ټولې او متراکمي وي، د متراکمو هډوکو په نامه یادېږي. د هډوکو حجری د یو نری کانال په شاوخوا کې د متراکمو هډوکو په دننه کې ځای لري. د سفنجي ډوله هډوکو په نسج کې حجری په غیر منظم ډول د یو او بل تر څنګ ځای او هم ځینې ژورتیا وي لري. د متراکمو هډوکو کانالونه او د سفنجي هډوکو ژورې د هډوکو د مغزو له نسج څخه ډک شوي دي. د وینې رګونه د کوچنیو کانالونو له لارې، د هډوکو په مخ شتون لري.



فعالیت:



د اړتیا وړ سامان او مواد: د چرګوري هډوکي، پاکوونکي توکي، سر وازی بنسټه بې لوبښی (Tar) او د سرکې محلول.

تګ لاره (طرز العمل):

- ۱- د چرګوري یو پاک هډوکي د سرکې له محلول څخه په ډک یو لوبښی کې کېږدی.
- ۲- له یوې اونی څخه وروسته هډوکي د سرکې له محلول څخه وباسئ او په اوبو بې پر یمنځی.
- ۳- هغه بدلونونه بیان کړئ چې وینې او حس کوی بې.
- ۴- د هډوکي مقاومت څنګه بدل شوی دی؟
- ۵- د سرکې محلول له هډوکي څخه کوم شیان ایستلي دي؟

د هډوکو چولوڼه

د انسان او نورو هډوکو(فشاریه) لرونکو حیواناتو په بدن کې درې ډوله هډوکي وجود لري:

- ۱- اوبډه هډوکي لکه د وړانه هډوکي
- ۲- لنډ هډوکي لکه د گوتو د بندونو هډوکي
- ۳- پلن هډوکي لکه د سر کاسه

آیا د اوبډو، لنډو او پلنو هډوکو نورې بېلګې ورکولای شئ؟

د اوبډو هډوکو تنه او د لنډو او پلنو هډوکو باندنۍ برخې د مترآکم نسج له ډلې څخه دي.

د اوبډو هډوکو دوه سروڼه او د لنډو هډوکو، لکه د لاسونو او پښو گوتو منځنۍ برخه، او د پلنو هډوکو لکه د اوبزو چارۍ او پښتۍ د سفینجې نسج له ډلې څخه دي.

کریندوکي (Cartilage):

کریندوکي د انسان د سکلېټ بله مهمه برخه جوړوي. کریندوکي د هډوکو په شان یو ارتباطي نسج دي، خو د هډوکو په پرتله نرم او ډګرېدېدلو وړتیا لري. کریندوکي د ځینو هډوکو په منځ کې ځای لري او د هډوکو د سولېدلو مخه نیسي.



فعالیت:

له نږدې قصایې څخه د پسه یا غوايي د وړانه تورل شوي هډوکي تر لاسه کړی او په منځ کې یې داسې مات کړئ چې دننۍ برخه په ښه توګه ښکاره شي.

هغه تویپرونه چې د مترآکم او سفینجې هډوکو په جوړښت کې گورئ وښی لیکئ او رسم یې کړئ. همدارنگه کریندوکي، چې د هډوکو په کومه برخه کې پاتې شوي وي، مشخص یې کړئ.

بندونه (مفصلونه):

بندونه د هډوکو د ښلولو ځای او د سکلېټ کمزوري برخې دي. له دې امله یې ساتنه لازمه او ضروري ده. بندونه د جوړښت او د خوځښت د ډول له مخې په دريو گروپونو ویشل کېږي:

۱- نه ښور پډونکي بندونه: هغه بندونه دي چې هډوکي يې يو ډيل تر څنگ ټينگ ځای نيولی وي؛ لکه د سر د کاسې د هډوکو تر منځ بند.

۲- ټيم ښور پډونکي بندونه: هغه بندونه دي چې هډوکي يې لږ او ډير خوځېږي، لکه د تتر له هډوکي سره د پښتۍ د ښېدللو ځای.

۳- ښور پډونکي بندونه: هغه بندونه دي چې هډوکي يې په آزاد ډول خوځېږي.

د ښور پډونکو بندونو لرونکي هډوکي د ډيرو قوي ارتباطي نسجونو په وسيله، چې د ليگامنټ (Ligament) په نامه يادېږي، سره نښتي دي.

که چيرې هډوکي په دغو ټينگو تارونو نښتي نه وي، بندونه له يو بل څخه په آساني جلا کېږي. ليگامنټونه او عضلي هډوکي د ښور پډونکي بند په ځای کې يو بل سره نښتي ساتي. د انسان د بدن په بندونو کې يو ډول مايع، چې د بندي مايع (Synovial) په نامه يادېږي، ځای لري. دا مايع د څنگ په څنگ تر منځ هډوکو ښویدل آسانوي او د هغوی تر منځ د اصطکاک کچه ټيټوي.

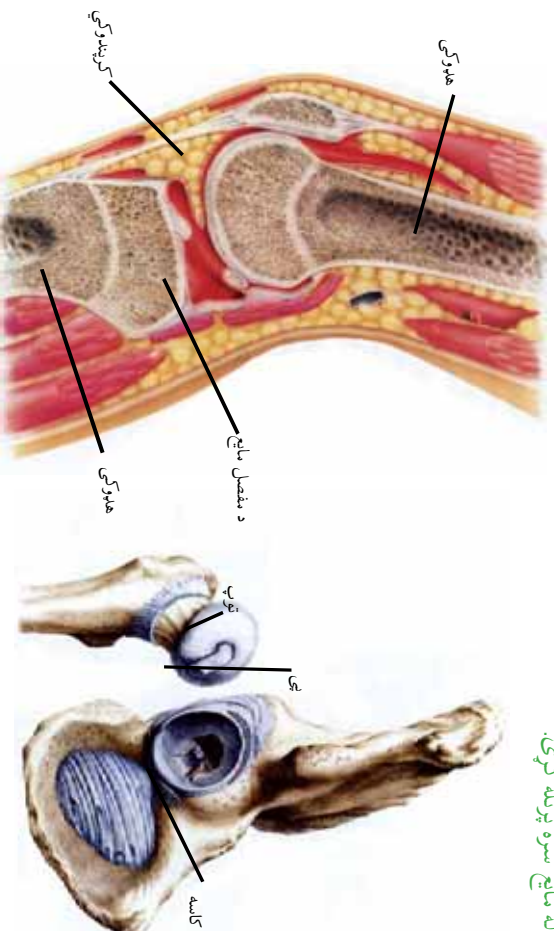
ښور پډونکي بندونه ډير ډولونه لري چې ځينې يې عبارت دي، له: **الف: پډوسکي او کاسي ته ورته بندونه:** ددې بند په واسطه سرې خپل لاسونه او پښې هرې خوا ته خوځولای شي. دغه بند د هډوکو د هرې خوا د څرخېدلو لامل گرځي. د بېلگې په توگه، د وړانه د هډوکي د سر د نښتي ځای (چې د پډوسکي بڼه لري) د شمرزۍ له هډوکي سره (چې د کاسې بڼه لري) د دې ډول بندونو په وسيله پوښېږي. د ولاړې په وخت کې يو څوک ددې بندونو په واسطه خپله پښه مخکې، شاته، کيڼ او ښي خواوو ته خوځولای او يا يې د وړانه د بند (زنگون) شاوخوا ته څرخولای شي. آيا کولای شئ چې د پډوسکي او کاسه ډوله بندونو بل مثال راوړئ؟

ب: چيراست ډوله بند: څرنگه چې د دروازې چيراست د دروازې خلاصيدل او تړل شوني کوي، دغه بند هډوکي ته يوازې

یوی خواته دغوڅویدلو اجازه ورکوي. لکه د گوتو د بندونو په منځ کې مفصل چې د هغې په واسطه یو د بل پر منځ تیتېدلی شي.



آیا ویلای شئ ځینې غوري، لکه گریس، چې د موټر د پرزو د غوړولو لپاره کارېږي، څه رول لوبوي؟ د هغه رول د بند له مایع سره پرتله کړئ.



(۵۳) انځور پښوسکي او کاسې ته ورته بندونه ب - د سحرک بند جوړښت

مصنوعي بندونه: په ۱۹۲۳ کال کې د اورټوپيډي یو برتانوي جراح د وړانه او خاصې لگن مصنوعي بند (پښوسکي او کاسې ته ورته بند) په جوړولو په مفصلي ناروغتیاووکې یو بې ساری پرمختګ رامنځته کړ. نوموړي د وړانه د بند د پښوسکي برخه د یو حیاتي فلز او د هغه د کاسې برخه له پولي ایتیلین (polyethylene) پلاستیک څخه جوړه کړه او پلاستیکي کاسه یې د خاصې لگن پورې ونښلوله. دې اختراع له ډیرو خلکو سره مرسته وکړه له دې جملې څخه هغه ماشومان، چې د زوکړې پر مهال یې د خاصې لگن بې نازک او هډوکي یې نیماکړي وي او یا هغه ناروغان، چې پښوسکي او کاسې ته ورته بندونو په برخه کې د التهاب له امله سخت خړلري، ددې اختراع له لارې یې کړاواو له دایمي معیوبیت څخه ژغورل کېږي.

صدهي او سکليتي ناروغي

ځينې وخت د سکليتي سيستم يوه برخه زيان وړيني. هډوکي بڼايي درز وکړي او يا مات شي، بندرونه هم زيان ليدلای شي، يو بېخايه شوی بند هغه بند دی چې يو يا ډير هډوکي په کې له خپل ځای څخه بڼسورېدلي وي. د سپرن (Sprain) په نامه د بند يو بل زيان هغه وخت پيدا کېږي چې د ليگامنت يو يا زياتره تارونه ډيرکشن، تاو او يا څيرې شي.

ځينې وخت د مختلفو ضريبو له کبله هډوکي ماتېږي. د هډوکي ماتېدل يوه ډيره مهمه ستونزه ده او بايد ډير ژر يې درملنه وشي. دا نيمگړتيا يو ځانگړی ډاکتر له منځه وړلای شي. له ماتېدو څخه څو ساعته وروسته د مات شوي هډوکي شاوخوا ته وينه پرن کېږي. په دې وخت کې يو شمېر ځانگړې حجرې په مات شوي ځای کې د هډوکو د توکو په جوړولو پيل کوي. د څو راتلونکو اونيو په موده کې پرن وينه له منځه ځي او د هډوکي نوی نسج مات شوی ځای ډکوي: د هډوکو پوکي (Osteoporosis) يو بل ډول ناروغي ده چې د هډوکو د نسج د لږ تراکم او سختوالي لامل گرځي. په دې حالت کې هډوکي کمزوري کېږي او په آساني ماتېږي.



(۵۴) انځور د مات شوي هډوکي ترسيم

د عمر لوړېدل او بې کیفیته خواړه د هډوکو پوکي ډيروي. د دې علت په هډوکو کې د کلسيم او فوسفورس د زېږسي کموالي او له ورزش څخه ډوډه کول دي. بنځي (له پنځوسو کلونو څخه په پورته عمر کې) د نارينه و په پرتله د هډوکو په پوکي اخته کېږي. يو دليل يې دا دی چې د هغوی د بدن د کلسيم او فوسفورس زېږسي د اميدوارۍ په دوره کې مصرفېږي.

لازمه ده چې د زلميتوب او ځوانۍ په وخت کې فرصت له لاسه ورنه کړئ او د منظمو ورزشي تمرينونو او د مناسبو او قوي خوروا له لارې، چې ډول ډول منرالونه او لبنیات ولري، د ژوند په اوږدو کې خپلو هډوکو سختوالی او کلکوالی وساتي.



عضلات

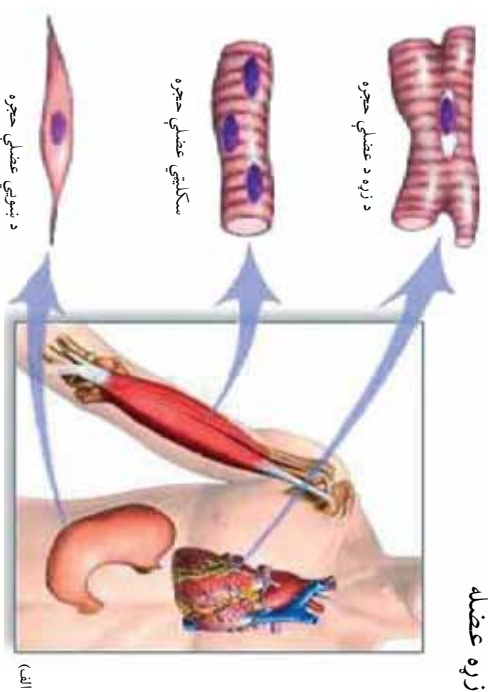
آيا کله مو کوبښښ کړی دی، پرته له دې چې ستاسې د بدن کومه عضله و خوځېږي، يوه شپه گڼېښی؟ دا ناشوني ده. د بدن په ځينو برخو کې عضلي له ارادې پرته کار کوي. مثلاً په مری او کولمو کې د خوروا حرکت د چا په اراده نه تر سره کېږي.

د عضلو جوړښت

عضلي د ایاون په نامه له ځانگړو حجرو یا دعضلي له تارونو څخه جوړې شوي دي، چې یو د بل تر څنګ پرته دي. د عضلي د حجرو په د ننه کې پروټین ډوله نري تارونه شته چې د انقباض یا کیکارې کیدو وړتیا لري. کله چې د عضلي ټولې حجروي کیکارې شتي، عضله هم منقبض کېږي او په نتیجه کې د یو غړي د حرکت لامل گرځي.

د عضلو ډولونه

عضلي درې ډوله دي: مخمطي یا سسکلیتي عضلي، بنوي عضلي او د زړه عضله



(الف)



(هـ) انځور الف: د سسکلیتي بنويه او د زړه دعضلو ډولونه
ب: د سسکلیتي عضلو جوړښت

الف: سکلیټي عضلي: د انسان

سکلیټي عضلي د بدن تقریباً ۴۰٪

وزن جوړوي. سکلیټي عضلي

د حرکت لپاره د بدن په هډوکو

پورې نښتي دي او کولای شي

سټل گونه ډوله حرکت منځ ته

راوړي. کېدای شي دا حرکتونه

د یو ورزش کونکي، خنډیدونکي

یا یو غوسه شوي شخص په څېره

کې ولیدل شي. که وغواړو حرکت

وکړو پیغام له مغز څخه د سکلیټي

عضلو حجرو ته لیږدول کېږي، چې د عضلي

د انقباض لامل ګرځي او په نتیجه کې حرکت منځ

ته راځي. د سکلیټي عضلو حجروي محططي ښکاري

او هره یوه څو هستي لري. سکلیټي عضلي په هډوکو پورې

نښتي دي او د ارتباطي نسجونو څرخن ډوله رشتي، سکلیټي عضلي

په هډوکو پورې نښلوي. دغه رشتي، د پلي (Tendon) په نامه

یادېږي. کله که یوه عضله، چې دوه هډوکي سره نښلوي، لنډه شي

دوه سره (Biceps) عضله د اوږې او ست په هډوکو پورې نښلوي.

کله چې دوه سره عضله انقباض وکړي، ستاسې ست د اوږې خواته

کښېږي. سکلیټي عضلي زیاتره د جوړو په ډول دوه، دوه کار کوي.

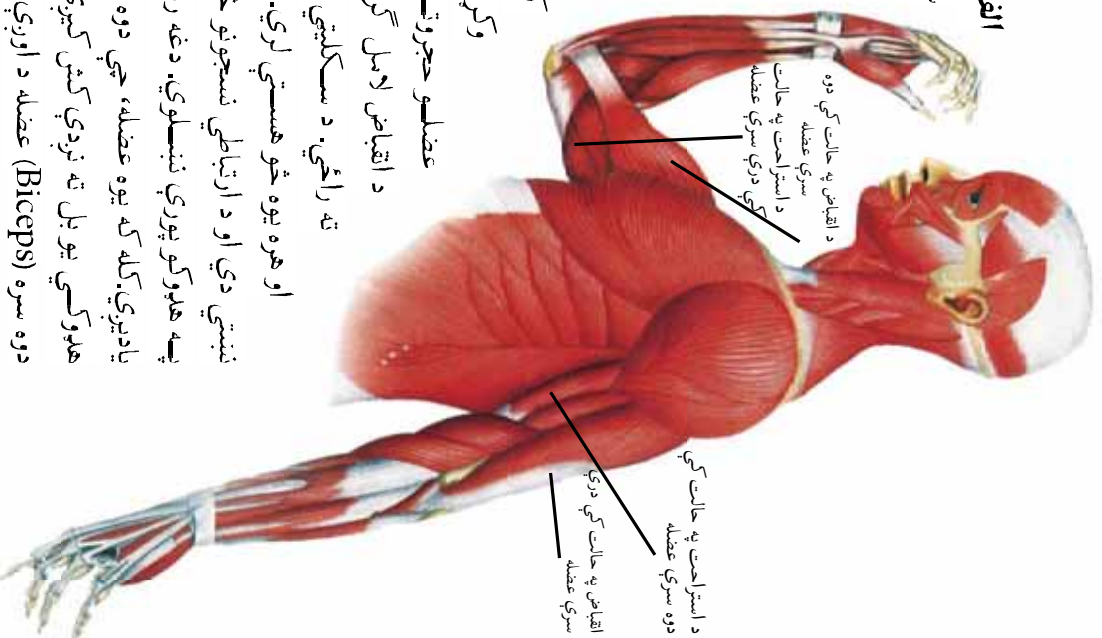
معمولاً د جوړې یوه عضله د بدن یوه برخه کروي، د همدغې جوړې

بله عضله د بدن دغه برخه سموي. هغه عضله چې د بدن یوه برخه

کروي د کروونکي (Flexor) او هغه عضله چې د بدن برخه سموي،

د سمورونکي (Extensor) په نامه یادېږي. د یوې عضلي د اوریدو

د اړتیا په صورت کې ښکاره مخالفه عضله موجوده وي چې وکړای



(۵۱) انځور د ست دوه سرې

او درې سرې عضله

ششي په خپل انقباض هغه کش کړي لکه د (۹-۵) شکل، د ست دوه سره عضله کروونکي او د ست درې سره عضله يوه سمورنکي عضله ده.

ب: بنسټوني عضلي: بنسټوني عضلي د سکليټي عضلي مخططي برخي نه لری. د دې عضلي حجري اوږدي او دوک پورله دی او په هره حجره کې يوازې يوه هسته ليدل کېږي. بنسټوني عضلي په عمومي توگه د پاڼي په بڼه جوړې شوي دي او د هضمي سيستم، د وينې د رگونو او د تنفسي او تکثري مجراوو په ديوالونو کې واقع شوي دي. بنسټوني عضلي د دوو نورو عضلو په پرتله په کراره يا ورو عمل کوي او د لږې انرژۍ په لږولو ډيره موده د انقباض په حالت کې پاتې کېږي. د بنسټوي عضلو له رولونو څخه يو د کولمو په اوږدو کې د توکو لېږدونه او د وينې د رگونو د قطر تنظيمول دي. ددې عضلو انقباض د انسان په کنترول کې نه دی.

ج: د زړه عضله: د شمزۍ لرونکو حيواناتو زړه له دې عضلي څخه جوړ شوی دی، چې په ظاهره نه ستړی کېدونکي بېکاري، دغه عضله په گډه د بنسټوني او مخططي عضلي څښې ځانگړتياوې لري. د هغه د مجراوو جوړښت مخطط او دنده يې غير ارادي ده. د زړه په عضله کې هغه حجري شاملې دي چې يو او بل سره مستعيني دي او دوه هستې لري.

فعاليت



په جوړ شوي سلايه کې تر سپکروسکوپ لاندې د ډول ډول عضلاتو حجري وگورئ او شکلونه يې په خپلو کتابچو کې رسم کړئ.

د عضلاتي فعاليتونو ډولونه: کيداى شي د عضلاتو فعاليت ارادي او يا غير ارادي وي. هغه عضلي چې د هغوى فعاليت د انسان تر کنترول لاندې وي، ارادي عضلي او که د عضلي فعاليت د انسان تر کنترول لاندې نه وي د غير ارادي عضلو په نامه يادېږي.

بښونې او د زړه عضلې د غیر ارادي عضلو له جملو څخه دي. کیدای شي سکلیټي عضلې ارادي او یا غیر ارادي اوسي. د بېلگې په توگه تاسې هر وخت کولای شئ خپلې سترگې واړې او پټې کړئ. لیکن سترگې مو له غوښتنې پرته هم رښېږي.

ورزشي حرکات

منظم تمرینونه ستاسې پر عضلاتي سیستم څه اغیزه لري؟

څه ډول کولای شئ د خپلو عضلاتو وړتیا زیاته کړئ؟

د عضلاتو زور د عضلاتو د رشتو په شمېر پورې اړه نه لري، بلکې د معلوماتو له مخې د رشتو شمېر تر زیږیدو د مخه د مور په نس کې جوړېږي. د عضلې توان د عضلاتي رشتو پېروالی او دا چې په یو وخت کې څومره اندازه اقتباس کوي، اړه لري. پېرې عضلاتي رشتې زیاتره غښتلې دي. منظم ورزش د عضلاتو د پیاوړي کیدو او لویدو لامل ګرځي. بدني روزنه د دې لامل ګرځي چې زموږ بدن له لاندې گټو څخه برخمن شي:

د غښتلو عضلو درلودل:

له غښتلو عضلو څخه موخه د ډېرې غټې او لوڼې عضلې درلودل نه دي. دا بېسټه کوي چې زموږ عضلې د خپلې دندې د ترسره کولو لپاره پوره تیارې ولري. په دې توگه بدني روزنه د عضلاتو د کارونې او د مسمو او اړینو چارو لپاره د چمتو کولو لامل ګرځي. همدارنگه بدني روزنه د عضلاتو د حجم د زیاتوالي لامل ګرځي. د درندو او اوږدو چارو د سرته رسولو لپاره زموږ د بدن توان په دې پورې اړه لري چې څومره ورزش کوو. همدارنگه د ورزش لپاره باید هډه او پوره اراده ولرو. د ورزش په وخت کې زموږ عضلات ډېر اکسیجن ته اړتیا لري، ځکه د ورزش په وخت کې تنفس سخت او چټکېږي. تنفسي عضلې د سخت کار له امله پیاوړې کېږي. ورزش کورنکې کسان د هغو کسانو په پرتله چې لږ ورزش کوي، ورو او

ډېر ژور تنفس کوي.

د بدنې روزني په وخت کې زموږ د زړه ضربان چټک او سختېږي، نو ځکه زموږ د زړه د عضلې وړتيا ډېرېږي. د وينې مقدار چې له هر انقباض څخه وروسته د يو ورزش کونکي کس د زړه څخه وځي د هغو کسانو په پرتله، چې لږ ورزش کوي، ډېر زيات دی. همدارنگه د وينې د دوران د سيستم وړتيا بدن ته د وينې په رسولو کې د ورځني ورزش په اندازه پورې اړه لري.

د عضلاتو(غړو) صدمې

د بدنې روزني هر پروگرام بايد ورو ورو پيل شي. د تمرين ورو پيلول لږ احتمالي زيان لري. د تمرين د سرته رسولو لپاره بايد بدن تود او چمتو شي، تر څو عضلو ته زيان ونه رسېږي. کله داسې پېښېږي چې يوه ارادي عضله په غير ارادي ډول انقباض کوي. دې حالت ته د عضلې خوږېس انقباض ويل کېږي او په روغو کسانو کې معمولاً له درنو ورزشي حرکاتو څخه وروسته پيدا کېږي. لامل يې په عضله کې د لږ وخت لپاره د آکسيجن او غذايي موادو کموالی دی. د ماساژ ورکولو او ورو فعاليت ته ادامه ورکول کېدای شي چې د عضلې خوږېس انقباض لرې کړي.

هغه کسان چې ډېر زيات تمرين کوي بساني د خپلو عضلاتو الياقتو ته زيان ورسوي. په نتيجه کې پلي التهابي کېږي. دغه حالت د پلو د التهاب (Tendonitis) په نامه يادېږي. زياتره زيانمني شوي عضلې د روغتيا لپاره اوږدې مودې استراحت ته اړتيا لري. ځينې وخت خلک کورنيسين کوي چې خپلې عضلې د انابولیک استروئيد (Anabolic steroid) په نامه درملو غښتلي کړي. د اوږدې مودې لپاره د پورټنيو درملو خوړل د زړه، ښي او پښتورگي د خرابېدو لامل گرځي. همدارنگه هغوی د وينې د لوړ فشار لامل هم گرځي. که چېرې دا درمل د هډوکو تر پخواني مخکې وخوړل شي د هډوکو د ودې مخه نيسي.



د پنځم څپرکي لنډيز

- ▶ هډورکي بدن ساتي، منرالونه زيرمه کوي، د حرکت زمينه برابروي او د وينې کرويات جوړوي.
- ▶ بندونه هغه ځايونه دي چې دوه يا له دوو څخه زيات هډورکي په کې يو ځاي کېږي.
- ▶ د سکليتي سيستم په صدمه کې درز، د هډورکو ماتېدل او د ليگامنت د رشتې بې ځايه کېدل يا څيرې کېدل شامل دي.
- ▶ د سکليتي سيستم مختلف ډول صدمې د هډورکو پوکي او سپرن دي.
- ▶ د هډورکو ډولونه عبارت دي له: اوږده، لنډ او پلن هډورکي
- ▶ درې ډوله عضلي عبارت دي له: سکليتي عضلي، بنوي عضلي او د زړه عضله
- ▶ سکليتي عضلي په جوړه ييز ډول کار کوي.
- ▶ سکليتي عضلي منقبض کېږي چې د هډورکو د حرکت لامل وگرځي.
- ▶ منظم ورزش د زړه او د وينې د رگونو د نارغيو مخنيوی کوي او د ورځنيو کارونو د تر سره کولو لپاره زموږ د بدن وړتيا زياتوي.
- ▶ د هډورکو نسجي جوړښت له دوو متراکمو او سفنجي ډولو څخه دي.
- ▶ د متراکمو هډورکو د کانالونو داخلي برخه او د سفنجي هډورکو ژورې د هډورکو د مغزو له نسجونو څخه ډکې دي.
- ▶ بندونه په درې ډوله دي: غير متحرک، نيمه متحرک، او متحرک.
- ▶ د ارتباطي نسج رشتې، چې سکليتي عضلات په هډورکو پورې نښلوي، د پلي په نامه يادېږي.

د پنځم څپر کي پوښتني

- ۱- د متر آکمو او سفنجي هډوکو تر منځ څه توپير موجود دی؟
- ۲- د هډوکو عمده دندې تشریح کړئ؟
- ۳- متحرک بندونه له بېلګې سره واضح کړئ.
- ۴- د عضلو د ډولونو نومونه واخلي او تشریح يې کړئ.
- ۵- عضلي څو ډوله صدهي او زياتونه لري؟ تشریح يې کړئ.
- ۶- د استروويډ اناټولیک درملو خوړل څه زیان لري؟
- ۷- بنويي عضلي د بدن په کومو برخو کې پیدا کېږي؟
- ۸- کریندو کې تشریح کړئ او هم وواياست چې څه چارې تر سره کوي.
په خپلو کتابچو کې د سم ځواب لپاره د (ص) او د ناسم لپاره د (غ) توری ولیکئ.
- ۹- د وینې سره کروبات د هډوکو په مغزو کې جوړېږي. ()
- ۱۲- بنويي عضلي د سکلیټي عضلو او د زړه د عضلي په پرتله ډیر چټک عمل کوي. ()

شپږم څپرکی

عصبي سیستم او حسي غړي

د مځه مو زده کړل چې حسي غړي، لکه سترگي، غوږ، پوزه، ژبه او پوستکي د چاپيريال په هکله موږ ته معلومات راکوي. د چاپيريال د محرکاتو پېژندل د همدغو حواسو په وسيله شوني ده. د حواسو په واسطه موږ کولای شو محرکات وپېژنو او د هغوی په وړاندې غبرگون وښيو. ددې پنځو حسي غړو په واسطه لاسته راغلي پيغامونه د بدن له غړو څخه په ناڅيره توگه تر لاسه شوي اطلاعات او په وينه کې د غدو افرازات ددې لامل کېږي چې د انسان بدن خپل کارونه په سم او رغنده ډول سر ته ورسوي. دغه نظم د عصبي او اندوکرواين سيستمونه رامنځته کوي. دا سيستمونه له کومو برخو څخه جوړ شوي دي او په څه ډول عمل کوي؟

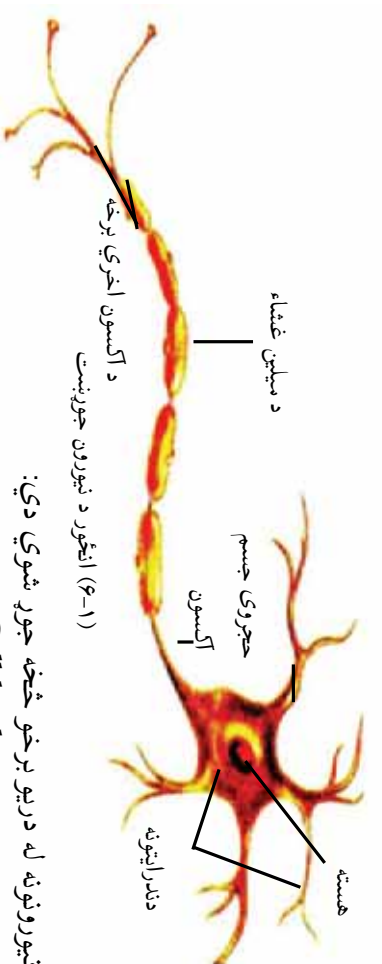
ددې څپرکي په لوستلو به د انسان د عصبي سيستم د جوړښت او د کار له څرنگوالي سره آشنا شئ. مرکزي عصبي سيستم به له محيطي عصبي سيستم څخه جلا کړای شئ. ارادي عصبي سيستم به له غير ارادي عصبي سيستم سره پرتله کړای شئ. د پنځو حسي غړو (اوربدلو، ليدلو، ځکلو، بوټولو او لمس کولو) د جوړښت او د کار د څرنگوالي په هکله به پوهه تر لاسه کړئ او زده به کړئ چې د خپل عصبي سيستم او پنځه گونو حواسو څنگه ساتنه وکړئ. په راتلونکي څپرکي کې به د اندوکرواين له سيستم سره آشنا شئ.

عصبي سيستم (Nervous system)

عصبي سيستم د انسان د بدن تر ټولو مهم او پيچلی سيستم دی چې د هغې په واسطه محيطي عوامل درک او د بدن ټولې دندې اداره او کنټروليري.

نيورونونه (Neurons) د عصبي سيستم د جوړښت او دندې واحد ته نيورون ويل کيږي. نيورونونه، عصبي پيغامونه د بدن مختلفو غړو او نسجونو، لکه عصبي، غدې او نورو نيورونونو ته ليردوي.

د نيورون جوړښت: نيورونونه مختلف ډولونه لري، خو د ټولو جوړښت سره يو شان دی. نيورونونه د نورو حجرو په شان حجروي غشاء، سايټوپلازم او هسته لري. د نيورون هسته په حجروي جسم کې ځای لري او سايټوپلازم يې د هستې په شاوخوا کې پروت دی.



نيورونونه له دريو برخو څخه جوړ شوي دي:

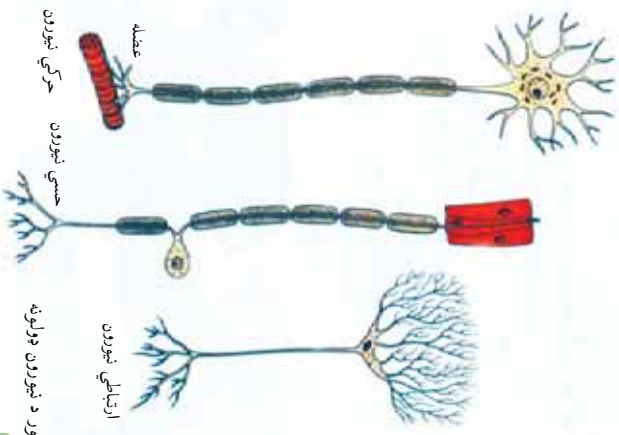
۱- حجروي جسم (Cell body) د نيورون هغه برخه ده چې هسته او سايټوپلازم په کې وجود لري.

۲- دندارايټ (Dendrite): د ونې د شاخونو په شان جوړښتونه دي چې د حجروي جسم څخه منشا اخلي او پيغامونه حجروي جسم ته استوي.

۳- اکسون (Axon): اکسون له حجروي جسم څخه وتلي يوه اوږده رشته ده چې عصبي پيغام د نيورون تر وروستۍ برخې پورې رسوي. د عصبي حجري ډيپري اکسونونه د مېلين (Myelin) په نامه پروټيني او شحمي پردې په وسيله پوښل شوي دي.

د نيورون ډولونه: نيورونونه د هغوی د دندې له مخې په درې ډوله دي:

- ۱- حسي نوروٽونه، له حسي غړو لکه پوستکي څخه اطلاعات نڅاخ او مغز ته رسوي.
- ۲- حرکي نوروٽونه، له نڅاخ او مغز څخه فرمانونه بدن د غړو (عضلاتو) ته رسوي.
- ۳- ارتباطي نوروٽونه، د حسي او حرکي نوروټونو ترمنځ اړيکه ټينګوي.



(۲-۱) انځور د نوروټون وولونه

فعالیت

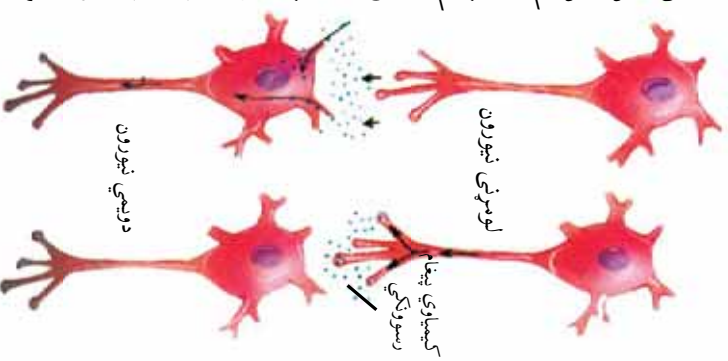


د پورتنۍ شکل په مرسته د نوروټونو جوړښت د هغوی د دندې له مخې یو له بل سره پرتله کړئ.

سیناپس (Synapse): هغه کوچني فضا ده چې د یو نوروټون د آکسون او بل نوروټون د دنداريت ترمنځ وجود لري. په دې فضا کې د پیغام رسونکي آکسون د اخري برخې څخه کیمیاوي توکي ترشح کېږي چې د همدې توکو له لارې، عصبي پیغامونه له یو نوروټون څخه بل نوروټون ته لېږدول کېږي.

د انسان عصبي سیستم

عصبي سیستم له سیلېونونو نوروټونو څخه جوړ شوی دی. نوروټونه په دوامداره توګه د بدن له داخلي برخې او چاپېریال څخه اطلاعات راټولوي او له همغږۍ، تشخیص او تعبیر څخه وروسته ورته ته ځواب ورکوي. نوروټونه په عصبي دستګاه کې څنګه ځای خپل کړی دی؟ څرګه چې په (۲-۲) شکل کې وینئ، د انسان عصبي سیستم له دوو برخو، یعنې



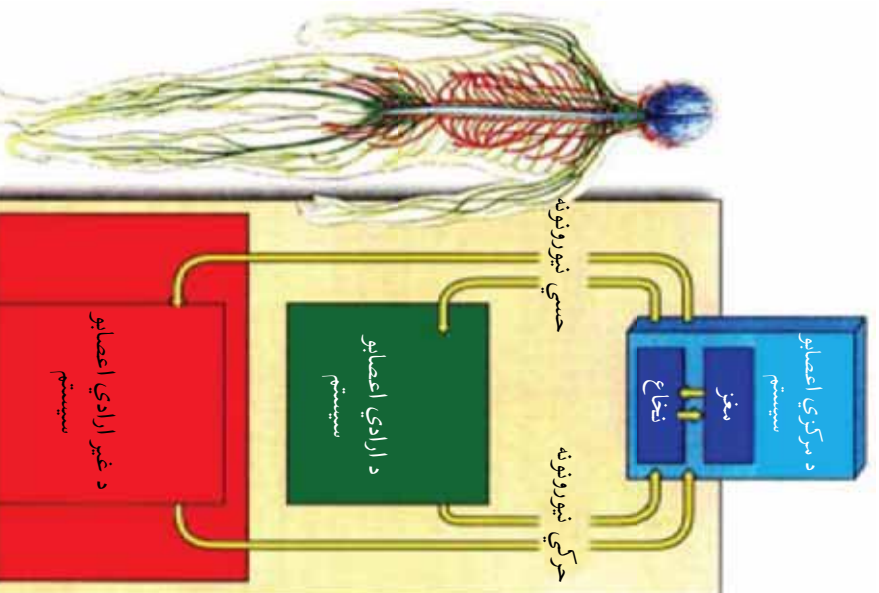
(۲-۲) انځور په سیناپس کې د عصبي پیغام انتقال

مرکزي عصبي سيستم او محيطي عصبي سيستم څخه جوړ شوی دی. په مرکزي عصبي دستگاه کې مغز او شوكي نخاع شامل دي. محيطي عصبي سيستم کې زيات شمېر بېلابېل اعصاب شامل دي. عصب د آکسونونو يا دنډرايتونو او يا د دواړو يوه مجموعه ده. محيطي اعصاب درې ډوله دي

حسي اعصاب، چې حسي نيورونونه دي او له بدن څخه عصبي پېغامونه مغز ته لېږدوي. دويم ډول حرکي اعصاب دي او هغه نيورونونه دي چې له مغز او نخاع څخه عصبي پېغامونه عضلاتو او يا غدو ته لېږدوي. درېم ډول مختلط اعصاب دي چې د نيورونونو د حسي او حرکي ټارونو مجموعه ده.

د مرکزي اعصابو سيستم:

مغز او شوكي نخاع د بدن پر حياتي عملونو باندې د څار (نظارت) مرکزونه دي. يعنې د چاپيريال او د بدن له د ننه څخه اخستل شوي اطلاعات تشخيص او تعبيروي او هغوی ته ځواب ورکوي.



(۱۶) انځور له محيطي اعصابو سره د مرکزي اعصابو تړاو ښيي چې د مرکزي اعصابو سيستم په آبي رنگ، د ارادي اعصابو سيستم په شمين رنگ او د غير ارادي اعصابو سيستم په سور رنگ ښودل شوی دی.

د محيطي اعصابو سيستم

فہمایت

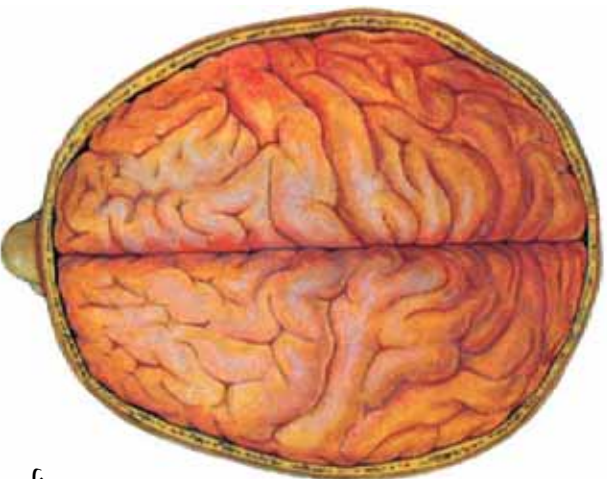


له گچ څخه د مغزو يو مودل جوړ کړئ اوله شکل سره سم يې رنگ کړئ.

مغز

مغز په بدن کې د اطلاعاتو د اخستلو او تفسيرو لپاره اصلي مرکز دی چې د فکر، عاطفې، کړنو، د احساس او حافظې دنده لري. په مغز کې لوی دماغ، کوچنی دماغ او د مغز ساقه شامله کېږي چې د سر په گوپړۍ کې واقع دي.

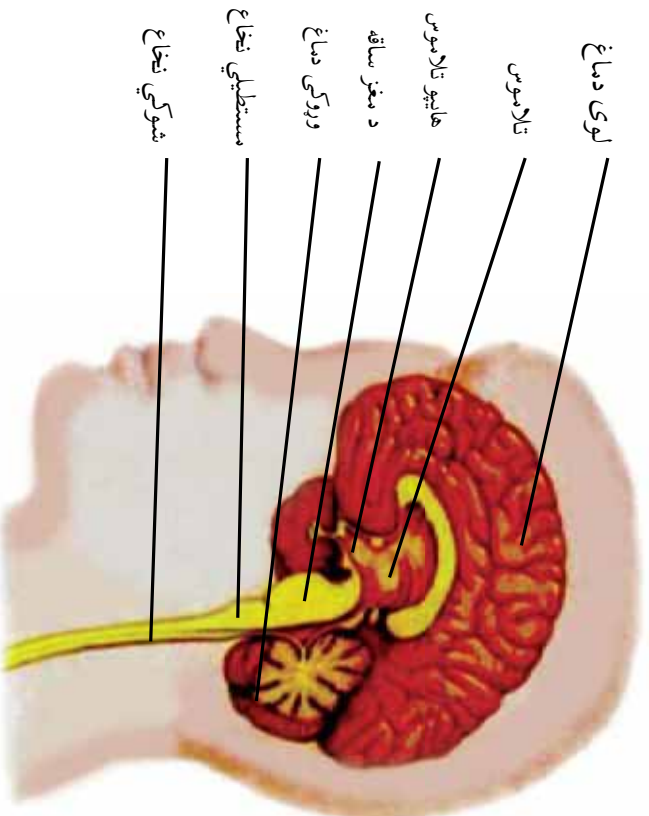
لوی دماغ: دا د مغز ډېره لويه برخه ده چې پرمخ يې زياتې لورې او ژورې ليدل کېږي. دماغ د مېخي له خوا نه ښاخولته د يوې لويې ژورې په وسيله په دوو کېټو او نېسيو برخو وېشل شوی دی. په معمول ډول کېټه نيمه کره حسې پيغامونه د بدن له نېسي برخو څخه اخلي او د هغوی حرکتونه کنټرولوي او برعکس د لوی دماغ نېسي نيمه کره د بدن له کېټې برخې څخه پيغامونه اخلي او د هغوی حرکتونه کنټرولوي. لوی دماغ د زده کړې، توان، حافظې او ادراک دندې لري.



(۶-۵) انځور د لوی دماغ جوړښت

د لوی دماغ په نیمو کرو کي د عصبي پښاهمونو د لېږدوني مسهم پیاوړي کورنکي مرکزونه ځای لري چي د مغز د مختلفو برخو ترمنځ اطلاعات لېږدوي. د دې مرکزونو له جملو څخه تالاموس دی. حسي اطلاعات د بدن له مختلفو برخو څخه تالاموس ته ټولېږي، پیاوړي کېږي او د لوی دماغ د قشر اړوندو برخو ته لېږدول کېږي. تر تالاموس لاندې هاپیمو تالاموس واقع دی چي د بدن ډیري حیاتي فعالیتونه لکه د زړه ضربان او تنفس تنظیموي. هاپیمو تالاموس د لوړې، تندې او د بدن د تودوخې د تنظیم او حس کولو مرکز دی. همدارنگه د هورمونونو د ترشح کونکو غدو فعالیت تنظیموي.

کوچنی دماغ: د لوی دماغ په لاندني برخه کې د مغز د ساقې ترشا کوچنی دماغ موقعیت لري چي له دور نیمو کرو څخه جوړ شوی دی. کوچنی دماغ د بدن د تعادل د حالت او حرکاتو د هم غږې ډېر مسهم مرکز دی او د دې عملیو د سرته رسولو لپاره له عضلو، بندونو، پوستکي، سترگو او غوږونو څخه اطلاعات ترلاسه



(۱-۲) انځور د مغز مختلفې برخې

کوي. بر سسیره پر دی لوی دماغ او نخاع د بدن حرکتی پیغامونه کوچني دماغ ته لیردوي او د بدن د غړو د حرکت د سمبندو لامل ګرځي. کوچني دماغ ته زیان رسېدل د بدن د غړو د نورمالو حرکتونو د کنترول د لاسه ورکولو لامل ګرځي.

د مغز ساقه: د لوی دماغ په لاندني برخه کې د مغز ساقه واقع ده چې له یوې خواته شموکي نخاع او له بلې خوا نه په لوی دماغ او کوچني دماغ پورې نښتي ده. د مغز په ساقه کې مستطيله نخاع (Medulla Oblongata) واقع ده چې د تنفسي، هضمي او د زړه د فعالیتونو په تنظیمولو کې رول لري.

شوکی نخاع (حرام مغز):

له مستطيلي نخاع څخه تر مالا پورې د مالا د تیر په کبريکي موقعیت لري. شموکي نخاع مغز د محیطي اعصابو په دستګاه پورې نښلوي. مغز اطلاعات او پیغامونه د شوکي نخاع له لارې تر لاسه کوي. همدارنګه د بدن د حیاتي عملونو د کنترول لپاره د نخاع له لارې فرمانونه لیردوي. شوکي نخاع عصبي رشتو پورې نښتي ده. د شوکي نخاع هر یو عصب یوه بطني او یوه ظهري رشته لري. بطني رشته خوځېدونکي نیورونونه لري چې عصبي پیغام له مرکزي عصبي دستګاه څخه عضلاتو او غدو ته لیردوي. ظهري رشته حسبي نیورونونو لري چې اطلاعات له حسبي آندرو څخه مرکزي عصبي دستګاه ته ورکوي. شوکي نخاع د پیغام لیردولو بر سیره د بدن د ځینو غیر ګونونو مرکز هم دی.

غبرګون محرکو ته د عضلو له ناڅاپي او غیر ارادي ځواب څخه عبارت دی. کله چې خپلي پښې له تشکل سره سم ځورندې ونیسې، که د زنگون لاندې پلې ته ضربه ورسیري پښه په ناڅاپي توګه مځي ته ټوپ وهي. په پلې باندې وارده شوې ضربه د وړانه له مځني عضلي سره نښتي حسبي نیورون تحریکوي. حسبي نیورون عصبي پیغام نخاع ته لیردوي او اړوند حرکتی نیورون تحریکي او په پایله کې د وړانه د مځي عضله منقبض کيږي او پښه په چټکۍ پورته خواته ټوپ وهي. په همدې ډول حسبي نیورون په

د غیر ارادي اعصابو (خود کاره) سیستم: د زړه او بنویو عضلو د اقتباس تنظیم او همدارنگه د غدو د فعالیت تنظیم په اتومات ډول تر سره کيږي او زموږ له کنترول څخه بهر دی. دغه عملونه د غیر ارادي اعصابو له خوا تنظیميږي.


پر عصبي سیستم د روزدي (اعتیاد) کېدو اغېزه

روزدي کورنکي توکي د عصبي سیستم فعالیتونه بدلوي او په حس کولو، تشخیص او تعبیر کولو او بهرنیو محرکو ته په ځواب ورکولو کې اغېزه لري. ځینې یې د عصبي سیستم د فعالیتونو چټکتیا زیاتوي او ځینې نور هغه ټیټوي، خو په هر ډول چې وي بده اغېزه لري. الکول دغه فعالیتونه راټیټوي. تصور وکړئ که یو شخص چې الکول یې مصرف کړي وي، د موټر د چلولو په وخت کې یو ناڅاپه یو تېرېدونکی شخص وږیني او وضواري چې ودریږي، خو نشي کولای دا کار په خپل وخت تر سره کړي. په دې صورت به څه پېښه منځ ته راشي؟ مغزو ته د ځینې روزدي کورنکو توکو د ننوتلو له امله کیمیاوي پیغام رسوزنکي ډېر تولیدیږي. ځینې اعتیاد راوړونکي توکي ددې لامل ګرځي چې کیمیاوي پیغام رسوزنکي ډېره موده په سیناپسي فضا کې پاتې شي او دویم سیناپسي نیورون زیاتره تحریک کړي. ځینې روزدي کورنکي توکي په تدریجي ډول د کیمیاوي پیغام رسوزنکو ځای نیسي.



آیا معتاد شخص کولای شي چې خپل عادت پریري؟ څنگه؟





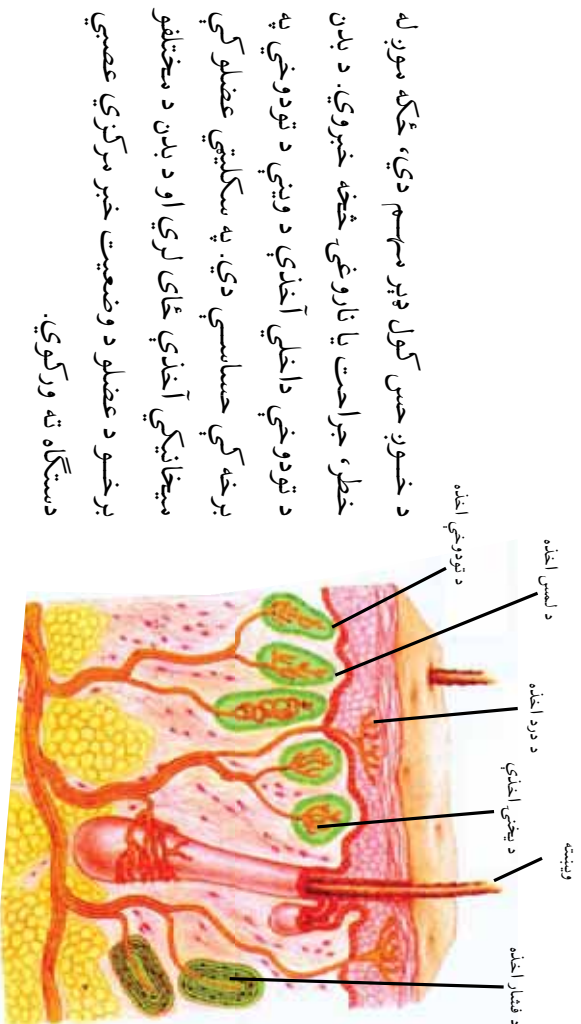
حسي غوري

حسي آخذي محرکونه تشخيص يا پېژني او د هغوی اغيزه په عصبي پيغام بدلوي او د عصبي رشتو په وسيله يې د مرکزي اعصابو سيستم ته لېږدوي، چې هلته تعبير او تشخيص شي. ويري آخذي په حسي غوکي لکه: سترگي، پوستکي، پزه، غوږ او ژبه کې راټولي شوي دي. لاندې جدول د انسان په بدن کې د حسي آخزو د ډولونه ښکاره کوي.

د آخذي ډول	محرک	د حسي غوکي ځای
تودوخه	د چاپېريال يا د بدن دننۍ تودوخې تغيير	پوستکي
خوږ (درد)	نسجونه ته صدمه او زيان رسېدل	د بدن ويري نسجونه او غوري
مېخانېکي	خوږېدل، فشار او اهتزاز	پوستکي او غوږ
نوري	رڼا	سترگه
کيمياوي	کيمياوي مواد	ژبه او پزه

پوستکي

د خوږ، تودوخې، سړېښت او د مېخانېکي آخذي لمس او فشار په مقابل حساسيت زموږ د بدن په پوستکي کې ځای لري. د آخذي د يو يا څو نيورونونو ځانگړي دندارايونه دي چې د محرک اغيزه په عصبي پيغام تېرېدوي. که چېرې مختلف محرکونه دوره سخت شي چې نسجونه ته د صدمې احتمال منځ ته راوړي لکه شديده تودوخه يا سړېښت او فشار يا ضربه د خوږ آخذي هم تحريکوي.



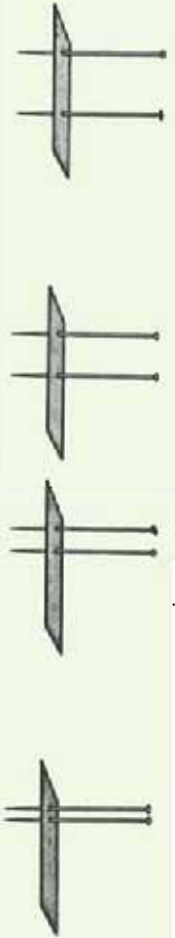
(۲۶۸) انځور د بدن د پوستکي جوړښت

د خړور: حس کول ډیر مهم دي، ځکه مور له خطر، جراحت یا ناروغي څخه خبروي. د بدن د ټوډوڅي داخلي آځنډي د ویني د ټوډوڅي په برخه کې حساسي دي. په سکلتی عضلو کې میخانیکي آځنډي ځای لري او د بدن د مختلفو برخو د عضلو د وضعیت خبر مرکزي عصبي دستگاه ته ورکوي.



فنايیت

د پوستکي د حساسیت تعینبول
د اړتیا وړ سامان او توکي: د مقوا کاغذ، سچان، خط کش او بیاتي.
 د مقوا کاغذ د ۱۳×۱ سانتي متر په اندازه پري کړئ. د مقوا په هره پاڼه کې دوه دانې سنجاقونه د ۸،۴،۲ او ۱۲ میلی متره وړاندې جوخ کړئ. د یو ټورلکیموال سترګي وټرئ او د یوه یا دواړو سنجاقونو څوکي د هغه د لاس په شا باندې کېږئ. تری وپوښئ، چې څو څپکي (یوه یا دوه) حس کوي. په همدې ډول د مقوا څلور واړه سنجاقونه د لاس په شا، وړغوي، د گوتو څوکو، مت او اورښیر باندې کېږئ او نتیجه یي ثبت کړئ. لاندې پوښتنو ته ځواب ورکړئ.
 ۱- د پوستکي په آرسینب شوي ځایونو کې کومه برخه د تماس په مقابل کې ډیر حساسیت لري؟
 ۲- آیا د ډیر حساسیت پر دلیل پوهیږئ؟



(۲۶۹) شکل د مقوا او سنجاقونو ټوټي

د پوستکي پیوند (Skin grafting): نن د سنجو سوځېدلو له امله، په ځانګړي توګه د مخ په سوځېدو کې، په آسانی د ناروغ له پوستکي څخه د پیوند لپاره استفاده کېږي. د بیلګې په ډول د ناروغ

له مست خڅه پوستکي اخلي او د هغه پر مخ يې پيوند وي. د پيوند د ځای او د پيوند شموي برخي وينسته ډوله رگونه ډير ژر يو له بل سره اړيکه ټينگوي او د ويني بهير يې له لويو رگونو سره يو ځای کېږي او اخيستل شوي برخه ډير ژر ترسيمېږي.

سترگه: مور په سترگه باندې رنگونه جلاکو، فاصلي ټاکو او د شيانو بيلابيلي برخي او بڼکلي حرکتونه يو تر بله توپير وو. د سترگو کره درې پردي لري چې له بهر څخه دننه، خوا ته، صلبه، مشيميه او شبکيه نومېږي.

د صلبې پرده: د سترگو د کرې پوښونکې پرده ده، سپين رنگ لري، مخکينۍ راولي او شفافه برخه يې قرنيه نومېږي. نور په آسانه ورڅخه تيرېږي.

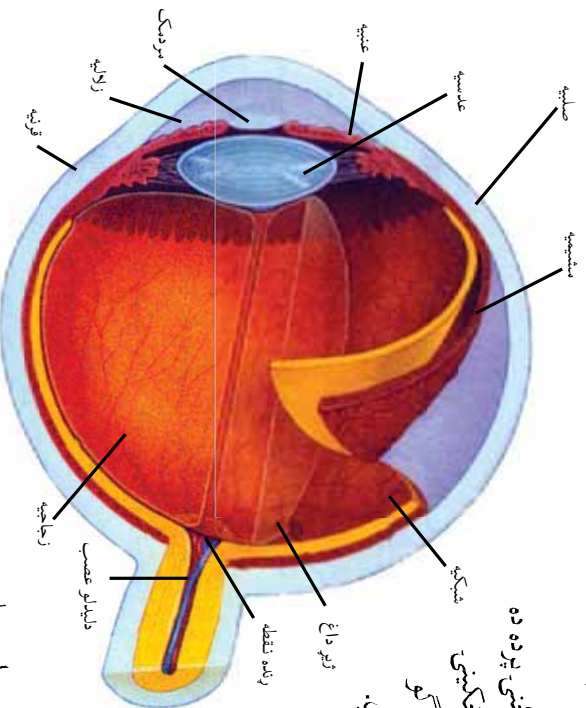
د مشيمې پرده: د سترگې منځنۍ پرده ده

د صلبې لاندې واقع ده د مشيمې مخکينۍ برخه چې رنگه حجرې لري او د سترگو رنگ تعينوي د عنبې په نوم يادېږي.

د عنبې په مرکزي برخه کې سوري څخه د سترگې د کسې Pupil څخه عبارت دی. د کسې شاته، محدبه مشيمې عضلي د سترگو د کسې د سوري، د تنگېدو او پراخېدو لامل گرځي.

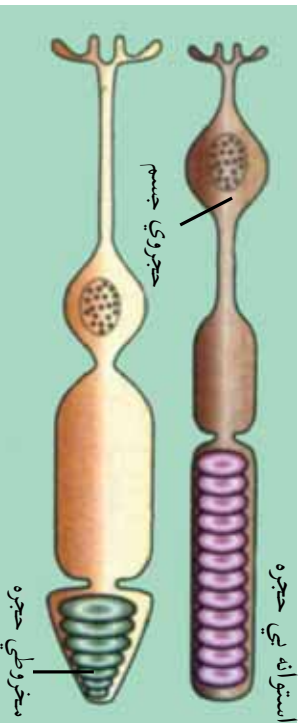
د شبکې پرده: داد سترگې نننۍ او حساسه پرده

رڼا د سترگو له کسې څخه تيرېږي او په عدسې لگېږي چې د هغې تر شا موقعيت لري. عدسې تصوير د شبکې پر ناڅکي پردي، چې د سترگو دننۍ برخې پرده ده، په چپه او اصلي شي څخه کوچنۍ ډول تشکيلوي. دا تصوير د ليدلو د عصم په وسيله مغز ته لېږدول کېږي. مغز کولای شي چې دغه تصوير په رښتيني بڼه وښيي. شبکې دوه ډوله مخروطي او استوانه يي حجرې لري چې استوانه يي حجرې په ننني (ضعيفي) رڼا او مخروطي حجرې په قوي رڼا ډيرې تحريکېږي. مخروطي حجرې مور ته د رنگ او د شيانو د



(۲۰۱۰) انځور د سترگې جوړښت

ظریفو جزئیاتو د لیدلو ځواک راګوري، د عدسسي شاته فضا د زجاجي په نامه رڼي مادې ډکه کړې ده، د عدسې د مخي فضا د زلالیه په نامه شفافې مادې ډکه کړې ده چې له وېښته ډوله رګونو څخه ترشح کېږي. هغه ځای ته روڼدېکي ویل کېږي چې د لیدلو عصب له شسبکې څخه خارجېږي، که چېرې تصویر پر دې ټکي ولوېږي د لیدلو وړ نه وي؛ ځکه چې نورې آندې (مخروطي او استوانه یي حجری) په هغه ځای کې وجود نه لري.



(۲-۱۱) انځور مخروطي او استوانه یي حجري

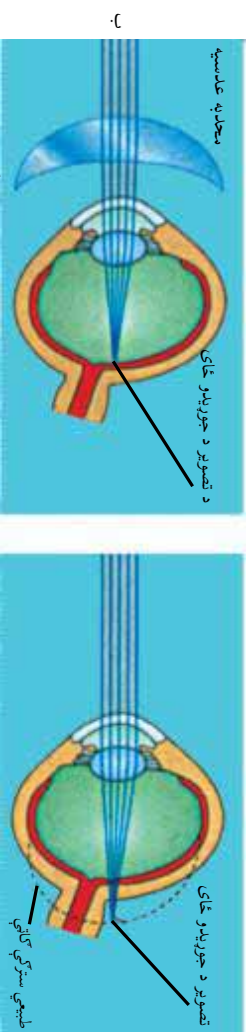
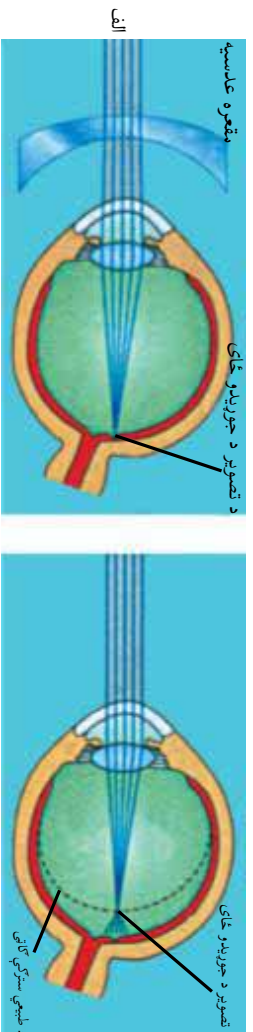
فعالیت



د اړتیا وړ سامان او توکي: د غوښي سترګه او د تسلیخ لکس.
تګلاره: د سترګې بهرنۍ برخه وګورئ او کوښښ وکړئ چې د سترګې د کرې د مخ عضلې له وازدې څخه تر جلا کېدو وروسته وګورئ. همدارنګه صلیبه، قرنيه او د لیدلو عصب مشاهدو کړئ. د تسلیخ د چرې په وسیله قرنيه د صلیبې د نښتې له ځای لږ شاته په ورو سوري کړئ. هغه مایع چې خارجېږي زلالیه ده.
 د سترګې د کرې شاو خوا پرې کړئ، عدسیه له زجاجیه مایع سره چې د جلي (سرنښناک) حالت لري خارجېږي، د سترګې د کرې دننه وګورئ، زجاجیه له زلالې سره پرتله کړئ.



د سترگو سستونيزي: د عمر له زياتېدو سره بنسټايي چې د سترگو عدسې تیاره شي او ورو ورو د سترگو ديد کم شي. دې ناروغي ته آب مرواريد (Cataract) وايي چې د جراحي په وسيله عدسې باسي او د هغه پر ځای مصنوعي عدسې اچوي. که د سترگو د کرې قطر له اندازه څخه ډېر لوی شي، د ليرې شیانو تصویر د شبکې په مخ کې جوړېږي، په نتیجه کې شخص نشي کولای چې ليرې شیان په واضح ډول وويني او د ليرې ليدلو په ناروغي اخته وي چې د مقعرو عدسې عینکو ته اړتیا لري. که د سترگو کره له حده ډېر کوچنۍ وي، د نږدې شیانو تصویر د شبکې نشاته جوړېږي چې شخص نږدې شیان په واضح ډول نشي ليدلای او د نږدې ليدلو په ناروغي اخته وي او د محدبو عدسې عینکو ته اړتیا لري.



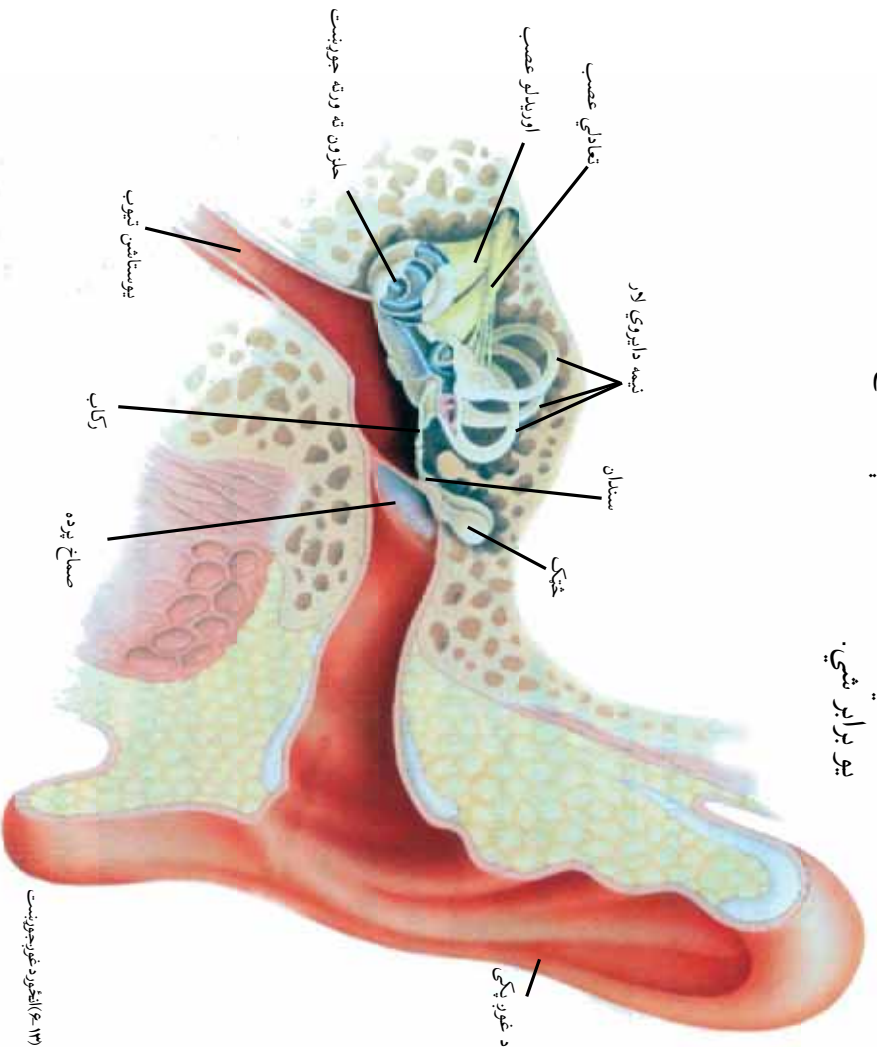
(۱-۱۲) انځور الف د سترگو نږدې ليدل به ليرې ليدل او د عینکو په وسيله د هغوی لري کول

څوړ
څوړ صوتي موجونه پر عصبي پيغامونو بدلوي او د مغزو د اورېدلو مرکز ته يې لېږدوي. برسېره پر دې د څوړ څېنې برخې د بدن د تعادل په ساتنه کې رول لري. څوړ له دريو برخو يعنې بهرنۍ، منځنۍ او داخلي برخو څخه جوړ شوی دی.

بهرنۍ څوړ: په بهرني څوړ کې د څوړ پکې او د هغې مجرازي

شاملي دي چي صوتي موجونه اخلي او منڇني غور ته بي لبرودي. د غورد مسجل په دننه کي نري وينستان شته چي هوا پاڳوي. همدا رنگه د مسجرا د نښي غداي موم ډوله توکي ترشح کوي چي غور ته د بهرنيو توکو د ننوتلو مخنيوي کوي. د صماخ پرده، بهرني غور له منڇني غور څخه بيلوي. صوتي موجونه د صماخ پر پرده لگيري او هغه په اهتزاز راولي.

منڇني غور: د صماخ تر پردي شاته منڇني غور موقعيت لري چي په هغه کي دڅټک، سندان او رکاب په نامه دري کوچني هډوکي شته. دغه هډوکي صوتي موجونه پياوړي کوي او داخلي غور ته بي لبروي. يوسناتشمن تيوب (Eustachian tube) منڇني غور له کومي سره نښلوي چي د صماخ د پردي د دواړو خواوو فشار يو برابر شي.



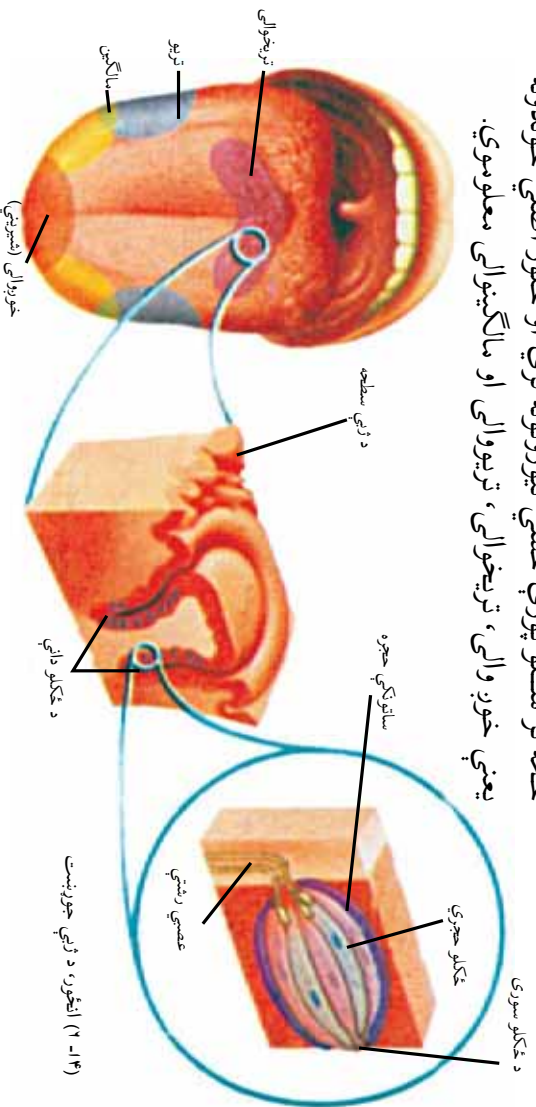
(۱۳) انځور د غور جوړښت

داخلي غوز: داخلي غوز دوي برخي لري. يوه برخه يې حلزوني او بله يې نيم دايروي سوري دي. د غوز حلزون د کاناډ په منځ کې د بابه لرونکي حجرو په نامه يو ډول سيخاينکي آخذي دي چې شاوخوا يې له يو مایع څخه ټکي دي. دا مایع د منځني غوز د هډوکو له خوځېدو سره په رېښو (اهتران) راځي. د مایع رېښل د مژک لرونکو حجرو د تحریک لامل کېږي. دا تحریک د عصبي پېغامونو په ډول د اورېدو د عصم له لارې مغزو ته رسېږي. برسېره پر اورېدلو غوز د بدن د تعادل په ساتنه کې هم اهمیت لري. په داخلي غوز کې درې نيم دايروي سوري شته دي چې يو پر بل باندې عمود دي. د هغې د داخلي سيخاينکي آخذي د سر د موقعیت د بدلون له امله تحریکېږي. کله چې شخص ځای په ځای کېږي ددې سوريو مایع خوځېږي او ددې حجرو بابه کېږي، عصبي پېغامونه تولید او مغز ته لېږدول کېږي، نو ځکه ماغزه کولای شي چې د بدن د موقعیت خوراوي وټاکي. ددې لپاره چې غوز د بدن د اورېدو او تعادل حس دی، هغه عصم چې له غوزونو او مغزو سره اړیکه لري، هم د اورېدو او تعادل له دوو ډولونو څخه جوړ شوی دی.

د غوز بې نظمي: کله چې د صماخ پردې ته دروند او ناڅاپي غږ، لکه د چاودنې غږ يا درنې ضربې غږ، ورسېږي په اورېدو کې گډوډي (بې نظمي) منځ ته راځي. همدارنگه د غوز د سوري موم ډوله ترشحات بڼايي کلک او وچ شي او د صماخ د پردې مخ وپوښوي چې په اورېدو کې گډوډي راولي. بل ډول اختلال د حسي عصم له امله دی. په دې حالت کې د صوتي امواجو له نشتروالي سره سره په غوز کې په پرله پسې ډول د زنگ غږ اورېدل کېږي. ددې گډوډۍ اصلي علت تر اوسه معلوم نه دی. په ماشومانو کې د ډېرې مودې لپاره د غوز عفوني کېدل بڼايي د کلمو په اورېدو کې زیان رامنځته کوي. که د غوز دا عفونت د ژوند په څو لومړيو کلونو کې لېږي نشي، بڼايي د عمر تر پایه دا گډوډي پاتې شي. هغه خلک چې سم نشي اورېدلای د غوز د لوړېدو لپاره د اورېدلو آله کاروي.

ژبه

د خوړند د معلومولو په زرگونه کوچني دانې (Taste buds) د ژبې پریڅ ځای په ځای شوي دي. هره دانکه کیمیاوي توکو له پنځوسو څخه تر سسلو پورې حسي نیورونونه لري او څلور اصلي خوړندونه یعنې خورز والی، ترپخوالی، تیروالی او مالګینوالی معلوموي.



د ژبې څوکه له خوړوالي، شواړوالي له تیروالي او مالګینوالي او وړوستی برخه یې له ترپخوالي سره ډیر حساسیت لري. د خولې په لارو کې د خوړو د مالیکولونو د حلېدو له امله آندزوي حجرې تحریکېږي چې په نتیجه کې یې عصبي پیغامونه تولید او مغز ته لېږدول کېږي.

فعالیت



په ژبه کې د ځکلو د برخو ټاکل

د اړتیا وړ سامان او توکي: نیکر، څاشکی څښونکی، مېله، سرکه، د مالګې ۱۰ فیصده محلول، د بورې ۵

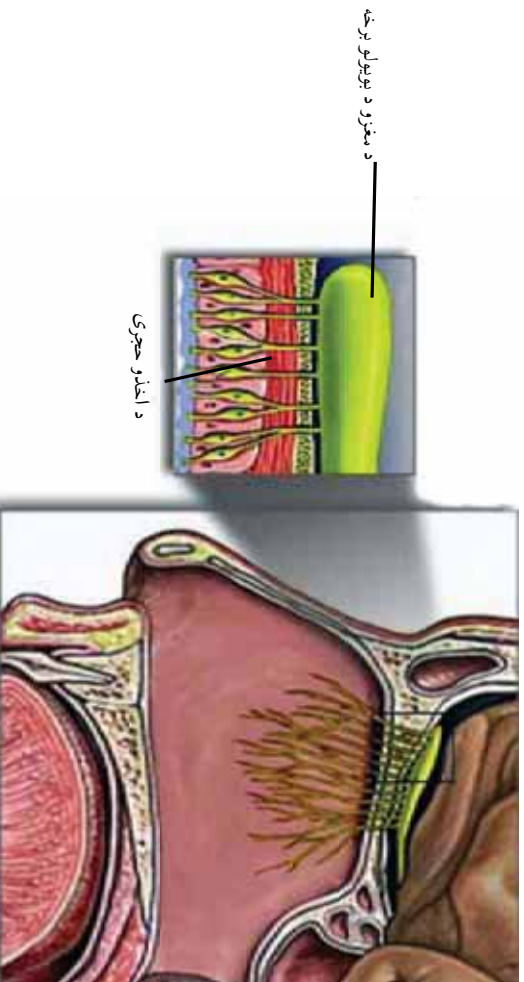
فیصده محلول او اسپرین.

ګونلاوه: په یو پاک نیکر کې له یوې برخې سرکې سره ډوډې برخې اوبه حل کړئ او د مېلې په وسيله یې د یو چا د ژبې په مختلفو برخو کې (ځوکه، څنډو، منځنۍ برخه (مرکز) او وروستی برخو په داسې حال کې په ترتیب

وڌڻوڙي جي سترگي ئي ٽول شسوي ري. هغه شخص دي د هر څاڻڪي احساس وليکي. د ماڻگي ۱۰ فيصده محلول جوڙ او په همدئي ڊول عمل وکړي. اسپرټين په اوبو کي حل کړي، جي تريخ خوند پيدا کړي. د بوري د ۵٪ محلول جوړ کړي جي خوږ خوند ولري او د لومړني عمل په شان عمل وکړي. ټولسه شوي نتيجي وليکي. پام وکړي جي له هر آزمائښت څخه وروسته، سبله پاکه پريميچل شي.

پزه

کيمياوي آڅڼي جي بوي تشخيصيوي د پزي د تش ځای په پاسني برخه کي ځای لري. په هوا کي کيمياوي ترکيبات د بويولو (شسامه) آڅڼي تعريکوي. دا حجري له تحريک څخه وروسته عصبي پيغامونه توليد او په مغزو کي ئي د شامعي مرکز ته ليردوي. د بويولو حس د خوږو د خوند پر پوهېدو اغېزه لري. د بيلگي په توگه کله جي په والگي او يا زکام اخته اوسو داسي معلومېږي جي خواره اصلاً خوند نه لري.



(۹-۲۱) اغڙو د بزي کيمياوي آڅڼي



د شپږم څپرکي لنډيز

- ▶ نيورونونه د عصبي سيستم د جوړښت او دندې واحدونه دي چې د دندې له مخې درې ډوله دي.
- ▶ د انسان عصبي سيستم له دوو اصلي برخو، مرکزي او محيطي اعصابو څخه جوړ شوي دي.
- ▶ د نيورون د حجروي جسم څخه دوه ډوله رنشتي، يو آکسون او بل دنداريت جوړ شوي دي.
- ▶ هغه ځای، چې يو نيورون له بل نيورون سره اړيکه نيسي، د سيناپس په نامه يادېږي.
- ▶ د مرکزي اعصابو سيستم له مغز او شوکي نخاع څخه جوړ شوی دی.
- ▶ مغز کې لوی دماغ، کوچنی دماغ او د مغز ساقه شامل دي.
- ▶ شوکي نخاع، د ځينو غبرگونونو مرکز دی، لکه: تر ښکته د لاندې پلي غبرگون.
- ▶ مغز تحليلونکی مرکز دی چې د فکرونو، عاطفې، کړنو، درکولو، احساس، قضاوت او حافظې دندې په څاره لري.
- ▶ د محيطي اعصابو په سيستم کې حسي او حرکي دوي برخې شاملې دي چې په ۳۱ جوړو نخاعي عصبو او ۱۲ جوړو مغزي عصبو پورې اړتيا لري.
- ▶ د بدن غوړي لکه سترگه، غوړ، پزه، ژبه او پوستکي شواړخوا چاپيريال څخه موز ته وپر اطلاعات رااکوي. په دې ډول چې د هغوی هر يو د چاپيريال عوامل په عصبي پيغامونو تبديل او مغز ته يې لېږدوي.
- ▶ د سترگو کره درې پردې (صلبېه، ششيمه او شبکيه) لري.
- ▶ په شبکيه کې د نوري آندو مخروطي او استوانه يي حجروي دي.
- ▶ داخلي غوړ دوي برخې (حلزونې او نيم دايروي سوري) لري چې لومړۍ برخه په اورېدلو د دويمه برخه د بدن په تعادل کې رول لري.
- ▶ د کيمياوي توکو حسي نيورون د ژبې د ذائقې په ډاډاکو (Taste buds) کې ځای لري.

د شپږم څپرکي پوښتنې

۱. ظهري عصبي رشتي له بطني رشتو سره جلا کړئ.
۲. د تلاموس او هاپيو تلاموس دندې وليکئ.
۳. يو نيورون رسم او ونوموئ.
۴. د صحيح ځواب وټاکئ او په خپلو کتابچو کې يې وليکئ.
صحيح ځواب هغه برخه چې عصبي پيغام اخلي، عبارت دی، له:
الف: آکسون ب: حجروي جسم ج: دنداريتونه د: ميلينين
۵. ته زيان رسېدل د بدن د غړو د نورمال حرکتو د کنټرول له لاسه ورکولو لامل کېږي.
الف: لوی دماغ ب: کوچنی دماغ
ج: د مغزو ساقه د: شوکي نخاع
۶. د دره، تودوخې او سپيڅليکي آخذي زموږ د بدن په کې دي.
الف: پوستکي ب: ژبه
ج: غوږ د: عنبیه
۷. لاندي جملي په مناسبو کلمو تکميل او په خپلو کتابچو کې يې وليکئ.
..... د بدن د تعادل په ساتنه کې اهميت لري.
۸. د مغزو په ساقه کې ځای لري چې د هضمي سيستم د فعاليتونو د تنظيمولو مرکز دی.

د اندوکراین سیستم (Endocrine System)

دا ثابتہ شوي ده، جي د يو سازمان د ټيڪاو (ثبات) او د هغبي د موخو په ترلاسه کولو کي، ډېر مهم او اغيزمن عوامل، د هغه سازمان د غړو ترمنځ همغږي او اتحاد دی. د غړو ترمنځ د همکاري او همغږي نښتوالی د هغه سازمان د موخو د نه تر سره کېدلو لامل ګرځي.

د انسان په بدن کي د هغه د داخلي پېچلتيا په پام کي نيولو سره د بېلابېلو سيستمونو ترمنځ په خپل وخت او ځير سره د همغږي او همکاري شتون اړين دی. د بدن د مختلفو سيستمونو او غړو ترمنځ همغږي د عصبي او اندوکراين د سيستمونو له خوا برابريږي. د اندوکراين سيستم د بدن فعالیتونه د هورمون په نامه د کيمياوي توکو له لاري تنظيموي جي د عصبي تنظيم په پرتله د هغه د عمل چټکتيا لږه ده.

آيا تراوسه مو فکر کړي ولسي د ډار او هيچان پر مهال ستاسي د زړه ضربان زياتيږي او رنگ مو تغيير مومي؟ يا د شکرې په ناروغۍ د اخته کېدلو علت څه دی؟

تاسي ددې څپرکي په مطالعي او زده کړي کولای شئ دې ډول پوښتنو ته ځواب ورکړئ او له يو شمېر هورمون توليدکو غدو سره، لکه د نخاعيه يا هائيپوفيز، هائيپوتالاموس، تايرايډ او ادرينال سره آشنا شئ او د اندوکراين د فعالیتونو په کنترول باندې پوه شئ.



د اندوکرالین سیستم

د اندوکرالین سیستم د یو زیات شمیر کوچنیو غدو مجموعه ده چې د بدن په ټولو برخو کې خپری شوي دي. نوموړي غدې د هورمون په نامه توکي ترشح کوي. هورمون کیمیاوي مواد دي چې د اندوکرالین په حجرو کې تولید او د وینې په وسیله د بدن په ټولو برخو کې حرکت کوي چې ترڅو تر پام لاندې حجروي ته ورسېږي. هغه حجروي چې هورمون پکې اغیزه کوي د هدف د حجروي په نامه یادېږي. هره حیره یوازې د یوځانگړي ډول هورمون په وړاندې غبرگون ښکاره کوي. د حجروي غبرگون په ځانگړو آندو پورې، چې په هغې کې ځای لري، اړه لري. هغه حجروي چې آندې نه لري د هورمونونو په وړاندې هیڅ ډول غبرگون نه ښکاره کوي.



(۷-۱) انځور د تایراید غده

هورمونونه چې له هغوی څخه ترشح کېږي په مستقیم ډول د وینې بهیر او یا د حجروي په شراوخوا مایع کې توپیري، او د وینې د بهیر په وسیله د هدف حجروي ته رسېږي او هلته د هدف په حیره کې د عمل د سر ته رسولو لامل ګرځي. د اندوکرالین د غدو برعکس، نورې غدې، چې د اګزوکرالین (Exocrine) په نامه ځانگړې مجرا یا کانال لري او د نوموړو کانالونو له لارې مواد د بدن د حجرو دننه یا دباندې چاپیریال ته لېږدوي. لکه د خولو(عرق) غدې، لعابیه غدې او هضمي غدې. ځینې غدې لکه پانکراس هم اندوکرالین او هم اګزوکرالین دي. اندوکرالین د ننه ترشح کوونکي او اګزوکرالین بهر ته ترشح کوونکي غدې دي. د اګزوکرالین برخه د غذایي موادو د هضم لپاره انزایموه ترشح کوي، په داسې حال کې چې د اندوکرالین برخه دوه ډوله هورمونونه ترشح کوي چې په بدن کې د ګلوکوز کچه تنظیموي.



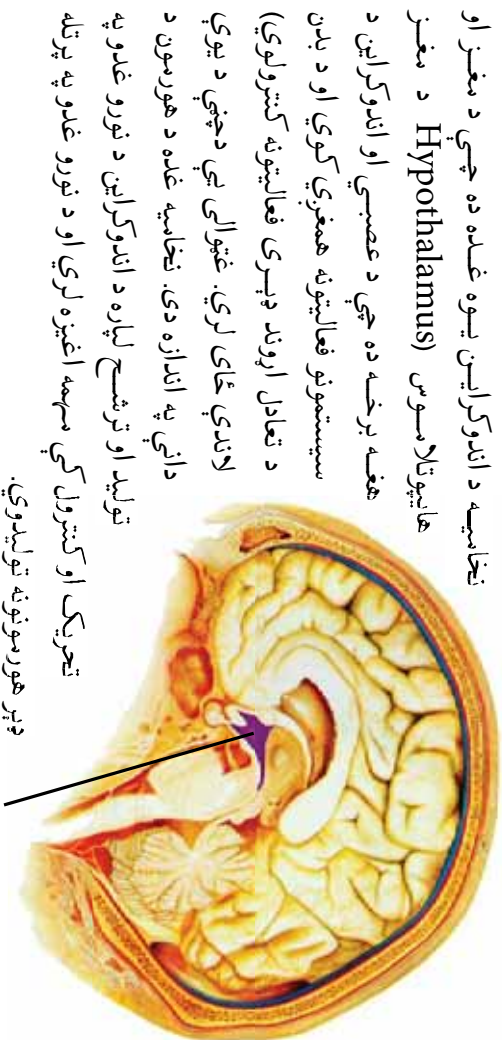
(۷-۲) انځور د ادریال د غدې جوړښت او موقعیت



(۷-۳) انځور په ښځینه جنس کې د تخمدانونو جوړښت



د هاپيوفيز يا نخامي غده (Pituitary Gland)



نخاميه د اندوڪراين يوه غده ده چې د مغز او

هاپيوټالاموس (Hypothalamus) د مغز

هغه برخه ده چې د عصبي او اندوڪراين د

سيستمونو فعاليتونه همغږي کوي او د بدن

د تعادل اړوند ډېری فعاليتونه کنټرولوي)

لاندي ځای لري. غټوالی يې دچټي ديري

داني په اندازه دی. نخاميه غده د هورمون د

توليد او ترشح لپاره د اندوڪراين د نورو غده په

تحريك او كنترول كې سهمه اغيزه لري او د نورو غده په پرتله

ډېر هورمونونه توليدوي.

هاپيوټالاموس

(۲۰۴) انځور هاپيوټالاموس

نخاميه غده مختلف هورمونونه جوړوي چې د هغې سهم هورمون

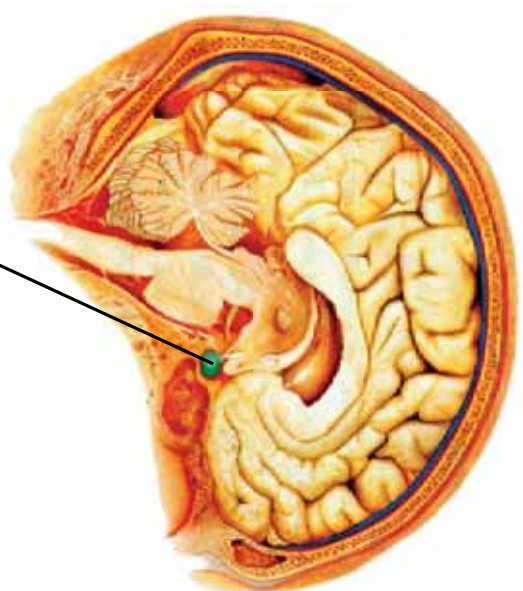
د ودې هورمون دی. د ودې هورمون د بدن د ودې لامل ګرځي.

او د بدن پر ټولو حجرو باندې اغيزه کوي، خو هډوکي او عضلي د

هغې اصلي هدف دي. د ودې هورمون په خوب کې زيات ترشح


کېږي او وينې ته رسېږي. د عمر په زياتېدلو سره د دې هورمون

ترشح کمېږي. د ودې او غټېدو په وخت د نوموړي هورمون



نخاعیه غده
(۷-۵) انځور د هاپیوفیز یا نخاعیه
غده

تر کچې زیاته ترشح د غیر نورمالې وډې او د ونې (قند) د جیګوالي لامل ګرځي. له ټاکلې کچې څخه لږه ترشح د لږې وډې سبب کیږي او د ټیټې ونې د پاتې کېدو لامل ګرځي.



(۷-۶) انځور تر ټاکلې کچې د زیات او تر ټاکلې کچې لږ ترشح اغېزه د وډې د هورمون څرګندوي.

د تاثیر اید غده (Thyroid Gland)

د تاثیر اید غده د غاړې د منځه او د حنجري په منځ کې واقع ده او د H په بڼه لیدل کیږي. د (۷-۱) شکل. د تاثیر اید غده داسې هورمونونه

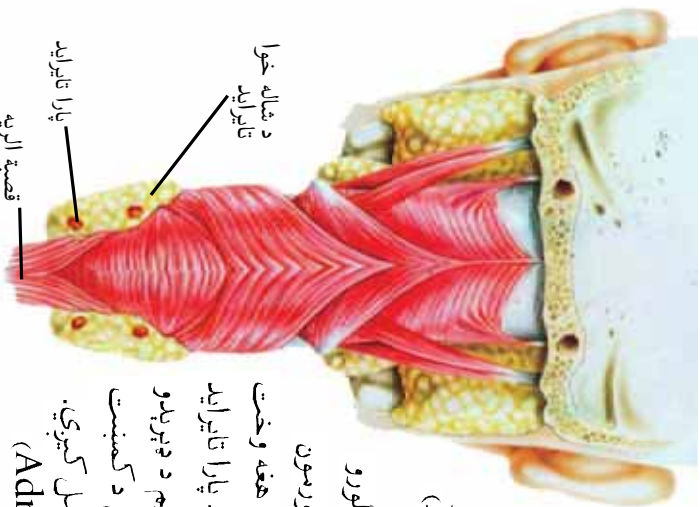
جوروی چي د بدن د سیتابولیزم چټکتیا تنظیموي.که په خورو کي د ایودین اندازه لږه شي د تاثیرید د غددي حجم زیاتیري او دغه حالت د جافور (Goiter) په نامه یادیري. ددی لپاره چي د جافور په ناروغی اخته نشو باید له ایودین لرونکي مالگي څخه استفاده وکړو.



(۷۸) انځور په جافور باندی اخته ماشوم: بکارا کوي

په ماشومانو کي د تاثیرید د هورمون کمښت د ذهني او فزيکی ودې د درېدلو لامل گرځي او په لویانو کي ددې هورمون کمښت د گنگسیت او د پوستکي د وجوالي لامل گرځي. که په لویانو کي د تاثیرید هورمون ډېر ترشح شي کیدای شي په خوب کي د عضانیت او بی نظمی لامل شي. د تاثیرید د هورمونونو له ډلي څخه د تایروکسین (Thyroxin) هورمون دی چي له خورو څخه د انرژي آزادول کنترولوي. که چیري د تاثیرید غده له ټاکلي کچي څخه د تایروکسین زیات هورمون ترشح کړي، په لویانو کي د بدن د سیتابولیزم د زیاتېدو لامل گرځي او په بدن کي د تودوخي د کچي د چگېدو له امله ډیره خوله راوړي.

۱- سیتابولیزم د کیمیاوي تعاملاتو له مجموعي څخه عبارت دی چي په یو ژوندي جسم کي تر سره کیري. د سیتابولیزم په باره کي په لسم ټولگي کي پوره معلومات درکول کیري.



د پارائیرایډ غده (Parathyroid gland)

د پارائیرایډ غده د تیرایډ د غددي ششاهه د څلورو کوچنیو غوټو په بڼه موقعیت لري. د پارائیرایډ هورمون په بدن کې د کلسیم اندازه کنټرولوي. دا هورمون هغه وخت ترشح کېږي چې په وینه کې کلسیم لږ شي. د پارائیرایډ د غددي له حده زیات فعالیت په وینه کې د کلسیم د وپړېدو او په هډوکو او غاښونو کې د کلسیم د زېرمې د کمښت لامل کېږي او د هډوکو د کمزورتیا او ماتېدو لامل کېږي.

د ښتورگي دپاسه غددي (Adrenal Glands)

دا غددي د هر پښتورگي دپاسه ښتې دي او مختلف هورمونونه ترشح کوي. لکه چې په شکل کې یې وینئ دا غددي له دوو مرکزي او قشری برخو څخه جوړې شوي دي. د مرکزي برخې هورمون، چې د ادرینال په نامه یادېږي، د ډار، هیجان یا د جگړې او د ټېټې په وخت کې، مثلاً د وحشي حیواناتو د حملې په وخت او یا له آرمونې څخه څو شیبې مخکې، ترشح کېږي او د زړه د ضربان د جگېدو، د تنفس د زیاتېدو او د رنګ د تغیر لامل ګرځي. قشری برخه د Noradrenalin په نامه هورمون ترشح کوي چې په وینه کې د گلوکوز د تنظیم لامل ګرځي او د ډار په وخت کې د گلوکوز کچه وپړوي او د بدن د ځواک د زیاتېدو لامل کېږي.

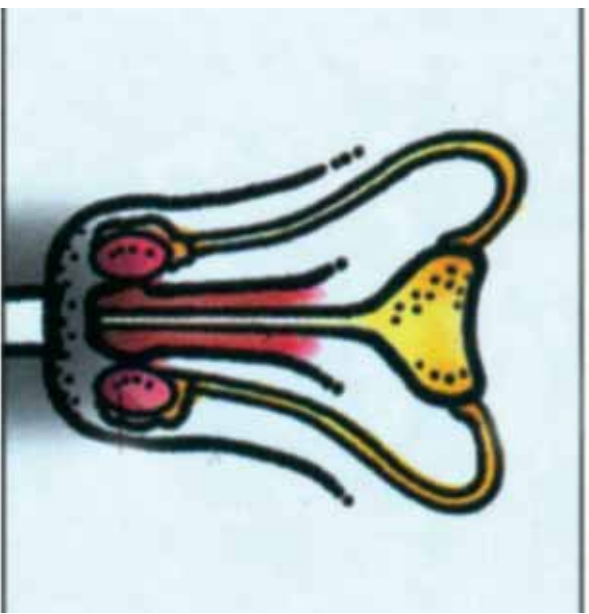


فعالیت

د بدن د بیلابیلو غړو او سیستمونو تغیر د ناڅاپي ډار او اضطراب په وخت کې وځپړي.

جنسي غددي (Sexual glands)

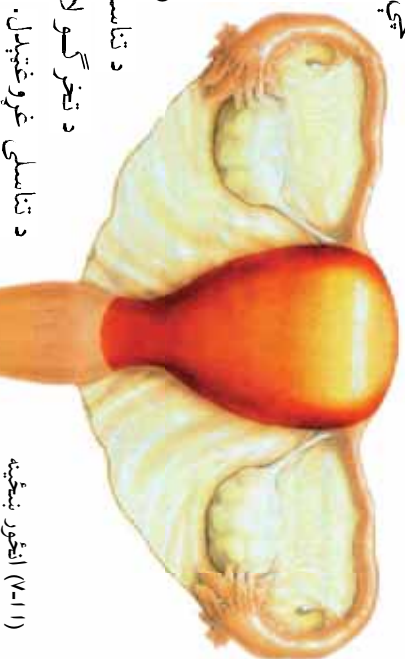
تخمدانوزنه او خصمي گايټوزنه جوړوي او هغه هورمونونه ترشح کوي چي د تکثري سيستم فعاليتونه او د جنسيت ځانگړتياوي تنظيموي. په بنځو کي تخمدانونه د استروجن (Estrogen) او پروجسترون (Progesterone) هورمونونه او په نارينه کي خصمي د تستوسترون (Testosterone) هورمون ترشح کوي. په بنځو کي د استروجن هورمون د هغوي د بالغېدو او د بنځينه صفاتو د منځ ته راتلو لامل کيږي، په داسي حال کي چي د پروجسترون هورمون د اميدوارۍ لپاره رحم چمتو کوي او د بدن تودوخه تنظيموي.



(۷-۱۰) انځور نرينه جنسي غده


که چيري په بنځو کي د پروجسترون هورمون لږ شي، بنځينه ځانگړتياوي پر نرينه ځانگړتياوو بدلېږي او په بنځو کي د بېړي د ودې لامل کيږي. همدارنگه په نارينه وکي که د بلوغ پر مهال د تستوسترون هورمون، چي د خصميو په وسيله توليدېږي، تر ټاکلي کچي څخه لږ ترشح شي، بنځينه ځانگړتياوي رابرسېره کيږي. په دې حالت کي د نارينه غبر نري کيږي او تيو نه بي غټيږي. جنسي غددي د بلوغ تر وخته فعاليت نه کوي. کله چي د نارينه او بنځينه جنسي غري،

يعني تخمدانونه او خصمي په فعاليت پيل وکړي، په شخص کي ځيني ځانگړتياوي، لکه د بدن په ځينو برخو د وينستانو راوتل، (د بېړي او بړبت وتل، د تناسلي غړيو په شاوخوا وينستان، د تخرگو لاندې او پر تتر د وينستانو ختل)



(۷-۱۱) انځور بنځينه جنسي غده

په همدې ډول په نچونو کې د هغوی ځانگړتياوې د بلمو د دورې په پېلېدو سره د تيرونو غټېدل د شونډو پړسېدل او لږ غټېدل او تر ټولو سرمه د مياشتني عادت پېلېدل دي.



د پانکراس غده (Pancreatic Gland)

پانکراس يوه کریمې يا گلابي رنگه غده ده چې تر معدې لاندي تش ځای کې موقیعت لري او له دوو ډولو نسجونه څخه جوړه شوې ده:

۱- هغه نسجونه چې هضمي انزایم ترشح کوي او د خوړو په هضم کې مرسته کوي



(۷-۱۶) انځور د پانکراس غده

۲- هغه نسجونه چي د انسولين او گلوکاگون په نامه دوه دوره هورمونونه ترشح کوي.

انسولين (Insulin)

هغه هورمون دی چي په وينه کي د گلوکوز کچه تنظيموي؛ يعني د اړتيا په وخت کي په وينه کي د گلوکوز کچه ټيټوي. دغه راز انسولين ځيگر تحريکوي چي گلوکوز په گلايکوجن يا حيواني نشايستي بدل او زېرمه ئي کړي. د گلوکاگون هورمون د انسولين پر خلاف د اړتيا په وخت کي د گلوکوز کچه لوړوي. په دې ډول چي نورموري هورمون په ځيگر کي زېرمه شوي گلايکوجن په گلوکوز تبديلي او د ځيگر حجروي مجبوروي تر څو هغه گلوکوز چي د گلايکوجن په بڼه زېرمه شوی و، آزاد کړي.

که چېرې د انسولين مقدار لږ شي په وينه کي د گلوکوز مقدار لوړيږي او د شکر کي ناروغي منځ ته راځي. په لومړيو مرحلو کي کولای شو چي د غذايي ځانگړي رژيم په اخيستو او ورزش د ناروغي د پرمختگ مخه ونيسو. که د يو شخص په وينه کي د گلوکوز مقدار له عادي کچي ډېر شي شخص د شکر کي په ناروغي (Diabetes) اخته کيږي. د شکر کي په ناروغي اخته کسان د تندي احساس کوي او ډېرې اوبه څښي چي له امله ئي تشبي بولي زياتيږي. د شکر کي په ناروغي اخته شخص د ناروغي په وروستي پړاو کي ډنگر او بي حوصلي وي او د ليدلو ځواک ئي لږيږي. د ټاکلي اندازې د انسولين په پيچکارۍ په وينه کي د گلوکوز اندازه کنټرولېدای شي.

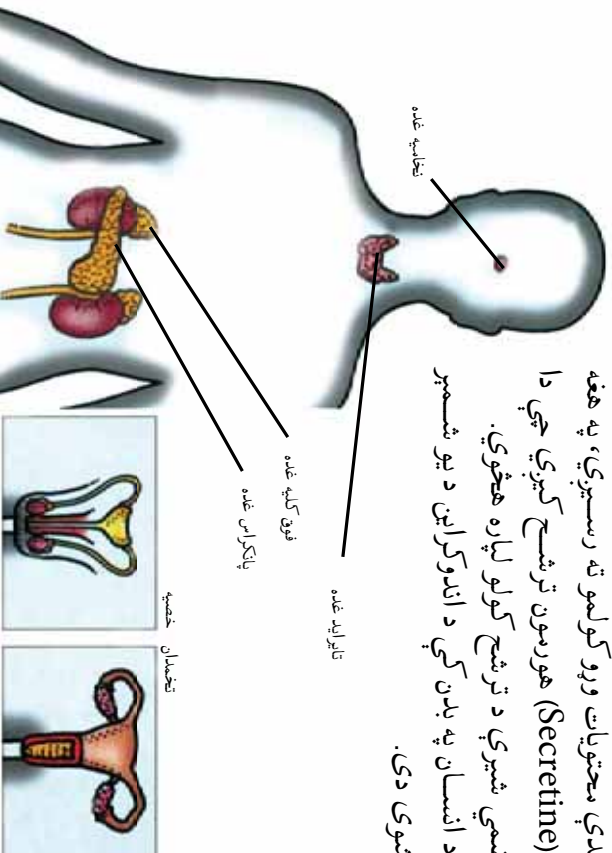
د گلوکاگون هورمون (Glucagons)

هغه هورمون دی چي په پانکراس کي توليديږي او د انسولين پر خلاف عمل کوي. يعني گلايکوجن په گلوکوز بدل او په وينه کي د گلوکوز کچه لوړوي.



د معدي او د کولمو د دېوال هورمونونه:

د اندوکرواين حجرو په هضمي کانال کې هم وجود لري. د بېلاګي په دوران: گسټرين (Gastrine) هغه هورمون دی چې د معدي په دېوال کې توليدېږي او په معده کې د مالګې د تيزاب د ترشح لامل کېږي. ګله چې د معدي محتويات وړو کولمو ته رسېږي، په هغه ځای کې د سسکريټين (Secretine) هورمون ترشح کېږي چې دا هورمون پانکراس د هضمي شيرې د ترشح کولو لپاره هڅوي. په (۱۳-۷) شکل کې د انسان په بدن کې د اندوکرواين د يو شمېر څلور موقعيت ښودل شوی دی.



(۷-۱۳) انځور د انسان په بدن کې د اندوکرواين د غدو موقعيت



د اووم څپرکي لنډيز

- ▶ اندوکرکړاين په سيستم کې يو شمېر غددي تشاهلي دي چې هورمونونه ترشح او وينې ته يې تيوبي ترڅو د بدن بېلابېلو برخو ته ورسېږي.
- ▶ هايپوتالاموس او د نخاعيه غددي د زياترو هورمونونو د جوړښت عمده کنټرولونکي مرکزونه دي.
- ▶ د تايرايډ په غده کې د آیودين کمښت د جاجور د توليد لامل کېږي.
- ▶ د پارائيرايډ غده په وينه کې د کلسيم مقدار تنظيموي.
- ▶ د ادرينال غددي د پېنټوگرگو دپاسه پرته او له دوو برخو څخه جوړې شوي دي: يوه مرکزي برخه او بله قشرې برخه.
- ▶ د پانکراس غده د انسولين هورمون توليدوي او نوموړی هورمون په وينه کې د گلوکوز مقدار ټيټوي.
- ▶ تخمدانونه د استروجن او پروجسټرون هورمونونه توليدوي، حال دا چې خصمي د تستوسټرون هورمون توليدوي. دغه هورمونونه د کمپټونو په جوړولو او د جنسي ثانوي ودې د تحريک لکه په ښځو کې د تيمونو غټېدل او په نارينه وو کې د بربټ او د بېړۍ په ختلو کې اغيزه لري.
- ▶ گسټرين د معدې د دېوال هورمون دی چې د ماگي د تيراب د تحريک لامل گرځي او سکرټين د وړو کولمو د دېوال هورمون دی چې د پانکراس غده تحريکوي ترڅو هضمي شيره ترشح کړي.

د اووم څپر کې پوښتني

سم ځواب وټاکئ او په خپلو کتابچو کې يې وليکئ.

- ۱- د..... غدې د نورو هورمونونو ترشح کنټرولوي.
الف- پانکراس او د تايرايډ غده
ب- هاپيو تلاموس
ج- د ادرينال غده او پانکراس
د- هاپيو تلاموس او د نخاعسي غده
- ۲- انسولين سبب کېږي چې:
الف- په وينه کې د گلوکوز کچه لوړه شي
ب- په وينه کې د گلوکوز کچه ټيټه شي
ج- اضافي مواد آزاد شي
د- جاغور توليد نشي

تشرېحي پوښتني:

- ۳- د شکرې د ناروغۍ علت شرح کړئ.
- ۴- د انډوکراین د سيستم دندې توضیح کړئ.
- ۵- که د ودې هورمون له ټاکلې کچې څخه ډېر يا لږ شي، څه واقع کېږي؟
- ۶- ولې د هيجان په وخت کې د زړه ضربان ډېرېږي او د انسان رنگ بدلون مومي؟

۱۴م ڇپر کی

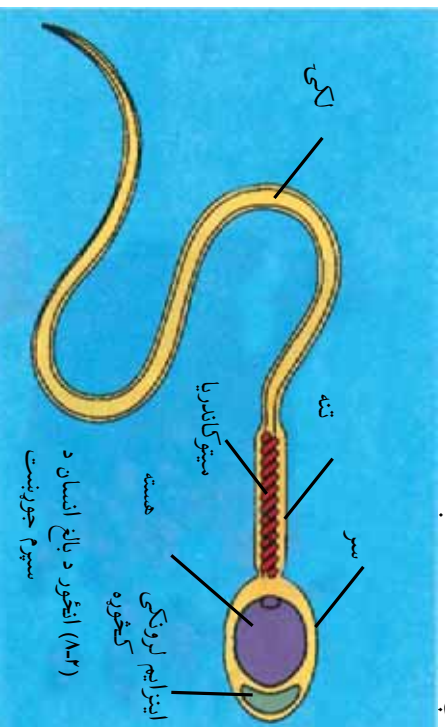
تکثري سیستم

ڊیری خلک د خپل د تناسلي فعالیت او د مثل د تولید په اړه ډېر لږ او لوږني معلومات لري، چې دا هم خطرناک او هم د تاسف وړ دی؛ ځکه چې هر یو زموږ او تاسي په وار وار دې پوښتنې سره مخامخ شوي یو چې: موږ په کومو شرایطو او څه وخت د اولاد خاوندان کیږو؟ د تکثر د عمليې اصلي موخه عبارت ده له: د سپرم او تخمي او یو بل سره د هغوی یو ځای کیدل، د جنین وده او نړۍ ته د ماشوم راوړل. د تکثري سیستم غړي، غدې او هڅې د یو ځای کیدو څخه تقریباً ۹ میاشتي ورسپلي دي. د سپرم او هڅې د یو ځای کیدو څخه تقریباً ۹ میاشتي وروسته، یوه مور خپل ماشوم نړۍ ته راوړي. څه ډول د انسان په بدن کې سپرم او هڅې جوړیږي؟ په تېر څپرکي کې تاسو د بدن له مختلفو هورمونونو له هغې جملې څخه د جنسي هورمونونو سره، چې له جنسي غدو څخه ترشح کیږي، آشنا شوي یاست. په دې څپرکي کې تاسي د نسجې او نارینه د تکثري عمده جوړښتونو او د هغوی د دندې، د سپرم او هڅې د تولید، الفاح او د امیدواری دپړاوونو او د التراسونو د عکس اخستلو سره آشنا کیږئ. همدارنگه د جنسي ناروغیو له زیانونو څخه خبریږي او ځان ساتلای شي.

بڼه جوړښت کي زيرمه او پخيزي او د حرکت ځواک تر لاسه کوي. د تحريک په وخت کي له نورو مجراوو څخه د تيريدو وروسته د تشو بولو له لاري څخه بهر ته وځي. سپرمونه د تشو بولو له مجرا وو څخه د تيريدو پر مهال له هغې مایع سره، چي د پروستات د ځانگړي غددي څخه ترشح کيږي، يو ځای کيږي. سپرمونه د دغه مایع له شستو موادو څخه تغذيه کوي. همدارنگه دغه مایع د سپرمونو په خوځېدلو کي هم مرسته کوي.

د رسيدلي (بالغ) سپرم جوړښت: څرنگه چي د (۸-۲) په شکل کي ښودل شوي دي. د بالغ سپرم يوه حجره له درې برخو (سر، تنې، او لکي) څخه جوړه شوي ده.

د سپرم د سر په برخه کي يوه هسته او لږ سايتوپلازم شته. همدارنگه د سپرم د سر په پاسني برخه کي د انزايمونو درلودونکي کڅوړه موجوده ده چي هغوی د هگي باندني پوښ تخريبيوي او سپرم سره مرسته کوي چي د هگي د ټنه ننوځي او د هغې سره القاح وکړي. منځني ياد تنې برخه، ډېر مایټوکانډرياوي لري او د سپرم د خوځېدو لپاره لازمه انرژي چمتو کوي، تر څو د بنسټيزه تکثري سيستم د ټنه برخي ته ځان ورسوي. د القاح په عمل کي يوازي د سپرم سر د هگي (تخمي) په د ټنه ننوځي. د سپرم د حجرې لکي يوه څوآکسېنه متروکه ده چي په خپلو خوځېدو سپرم وړاندي پورې وهي. د سپرم د خوځېدلو لپاره انرژي د ميتوکانډريا په وسيله چي د سپرم په ټنه کي شته تر لاسه کيږي.

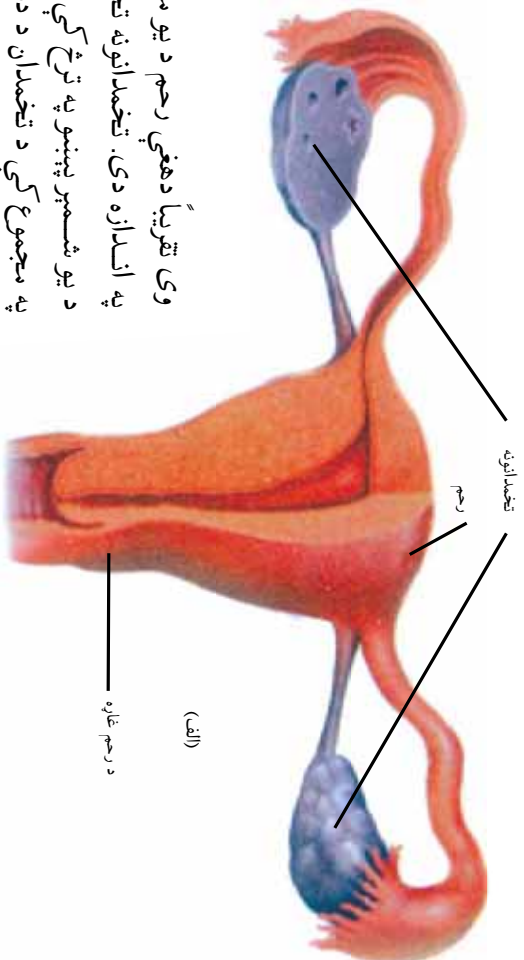


بښځينه تکثري سيستم

بښځينه تکثري سيستم چه په (۸۳) شکل کې نمودل شوي دي، د جنسي هورمونونو او هگي د توليد، د القاح شوي هگي او جنين ودې او روزني او په پای کې د ماشوم د زېږېدلو دندې په څاره لري. دوه تخمدانونه، چې د چرگي د هگي بڼه لري د نس د تش ځای په د ننه کې ځای لري. تخمدانونه د هگي توليدونکي غړي دي. همدارنگه تخمدانونه، بښځينه بنسټيز جنسي هورمونونه چې استروجن (Estrogen) او پروجسټرون (Progesterone) څخه عبارت دي هم توليد وي. دا هورمونونه د هگي آزاديدل تنظيموي او بښځينه ځانگړي صفتونو ته وده ورکوي.

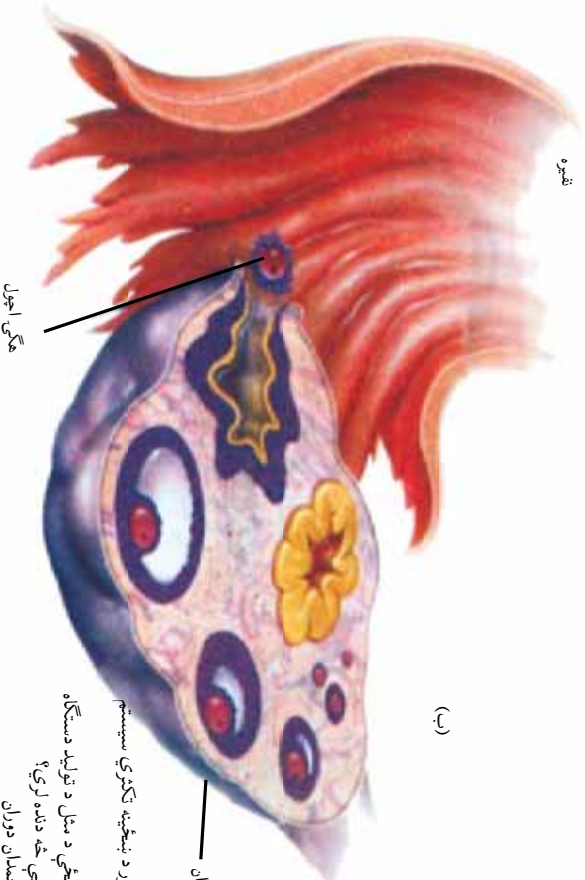
د زېږېدنې په وخت کې د نوي زېږېدلي ماشوم تخمدانونه معمولاً په مجموعي توگه د دوو ميليونو په شاوخوا کې نارسېدلې هگي لري. د بلوغ په وخت کې په هره مياشت کې يواځې يوه هگي بالغ کيږي. د بښځينه جنس د ژوند په اوږدو کې، يواځې ۴۰۰۳۰۰ پورې هگي بالغ کيږي. نوري نارسېدلې هگي د بالغېدو پرته غير فعالېږي بښځينه بالغه جنسي حجره، هگي (ovum) نومېږي. د هگي کچه (اندازه) د سپرم څخه ډيره لويه ده. آن تردې حده چې هگي د عادي سترگو په وسيله هم د ليدلو وړ ده.

په هر و ۲۸ ورځو کې يو ځل يوه هگي له يو تخمدان څخه آزادېږي او نفيري (Fallopian tube) ته ننوځي. هر يو تخمدان د نفيري په وسيله رحم ته لری نفيره هغه لاره ده چې هگي د تخمدان څخه د رحم په لور خوځېږي. د نفيري د ديوال بښوي عضلي په وار سره متقبض کيږي تر څو چې هگي د رحم په لور خوځېږي. له نفيري څخه د هگي تېرېدل معمولاً له ۳ تر ۴ ورځو پورې وخت نیسي. که هگي د ۴-۸ ساعتونو په موده کې القاح نشي، د القاح کېدلو ځواک له لاسه ورکوي او تخريبيږي. په معمولي توگه د القاح تر سره کېدل په نفيره کې صورت مومي. د القاح څخه وروسته، زايگوت (Zygote) جوړيږي او رحم ته ننوځي. رحم يو عضلاتي او منځ تشي غړی دی او کله چې بښځه اميداره نه



(الف)

وی تقریباً دهغي رحم د یو موټي په اندازه دی. تخمدانو په تخمي د یو ششمېر پېښو په ترڅ کې چې په مجموع کې د تخمدان د دوران په نامه یادېږي، چمتو او ازاد وي. تخمدان څخه د یوې هگي آزادیدل، تخمه گذاری (Ovulation) نومېږي. د تخمدان د دوران موده په اشناصو کې او هم په مختلفو دورو کې سره توپیر لري. اما د معمول په ۲۸ ورځي وخت نیسي.



(ب)

(۸۳) انځور د پنځمې لکړي سیستم جوړښت:
الف: د پېښې د مهل د تولید دستګاه هره برخه یې څه دنده لري؟
ب: د تخمدان دوران

د حیض دوران

د بلوغ تر ۳۵ کلنۍ پورې د بنسټو په تکراری سیستم کې میاشتي تغییرات راځي. یو شمېر ځانګړتیاوې شته، چې دا تغییرات د بنسټي بدن امیدوارۍ ته چمتو کوي او د حیض د دوران په نامه یادېږي. له رحم څخه د وینې او نسج توتو د وتلو لومړۍ ورځ د حیض د دورې لومړۍ ورځ شمېرل کېږي. وینه تقریباً ۵ ورځې دوام کوي کله چې د حیض دوره پای ته رسېږي د رحم دیوال پندېږي. هګۍ اچول یا د هګۍ آزادېدل تقریباً د حیض د دورې په خوارلسمه ورځ پېلېږي. که چېرې هګۍ په ټاکلي وخت کې انقاح نشي، حیض شروع او هګۍ خارجوي. او دوران بیا شروع کېږي چې معمولاً ۲۸ ورځې وخت نیسي.

انقاح (Fertilization): دجنسي یو ځای کېدو په وخت کې په میلوټونو سپرمونه د بنسټي د مثل د تولید دستګاه ته ننوځي. د انقاح لپاره لږ تر لږه یو له دغو سپرمونو څخه د بارداری وړ هګۍ له پوښ څخه باید تېر شي. ډاکار دومره په آسانۍ نه تر سره کېږي؛ ځکه سپرمونه تخمې ته د رسېدو پورې له ډېرو خنډونو سره مخامخ کېږي. سر بیره پردې هګۍ د آزادیدو وروسته یواځې د محدودې مودې لپاره د تغیري په کانال کې پاتې کېږي او د بارداری وړ وي. **امیدواري (Pregnancy):** څرنگه چې مخکې وویل شوه میلوټونو سپرمونو له جملې څخه یواځې د هغوی څوسوه محدود شمېر د تغیري په لوري لاره پیدا کوي. د هغوی له جملې څخه یواځې څو دانې سپرمونه د هګۍ په شا او خوا تاوېږي او د معمول په توګه یواځې یو سپرم د هګۍ په د ننه ننوزي. د دې پېښې سره جوخت د هګۍ په شاوخوا یو پوښ جوړېږي، تر څو چې هګۍ ته د نورو سپرمونو د ننوتلو مخنوی وکړي. کله چې د سپرم هسته د هګۍ سره یو ځای شي، هګۍ انقاح کېږي. انقاح شوي هګۍ د تغیري څخه د رحم په لوري ځي. دغه سفر ۵ تر ۶ ورځو پورې وخت نیسي. د دې سفر په وخت کې زایګوت د حجروي ویش په لوري ځي او څو وارې ویشل کېږي. له انقاح څخه د یوولسو څخه

تر دولسو ورغو وروسته، زاځوت د يو ڪوچني پنډوسڪي په بڼه کيږي چې د جنين (Embryo) په نامه يادېږي. جنين ځان د رحم په دېوال نېنلوي او په هغه ځای کې ځای نيسي. د شپږمې ورځې په پای کې د نېنلېدو عمل بشپړ او پنځه امېدواره کېږي. د نېنلېدو د عمل څخه وروسته، جوړه (Placenta) په ودې پيل کوي. جوړه د توکو د دووخواوو د تبادلې ځانگړې غړې دی. جوړه د وينې د رگونو يوه شبکه لري چې د رشيم لپاره د مور له وينې آکسيجن او غذايي توکي تر لاسه کوي. همدارنگه کوم فاضله توکي چې د جنين په وسيله توليدېږي، د جوړې له لارې څخه خارجېږي. د مور وينه او د رشيم وينه په جوړه کې ډېر نږدې جريان مومي، لکن د نورمال په ډول هغوی يو بل سره نه يو ځای کېږي.

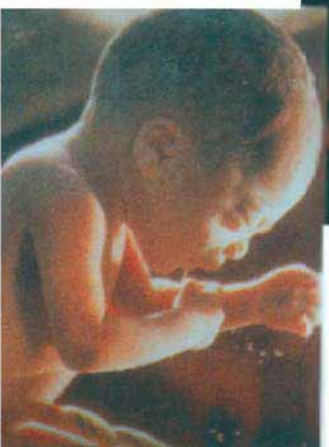
د غير گوني زېږېدل (Multiple birth): په معمولي ډول په هره مياشت کې يواځې يوه هگي له تخمدان څخه آزادېږي. اما کله شونې ده چې دا شمېر دويا دريو ته ورسېږي. په يو وخت کې د دې هگيو الفاح کېدل د غير گوني او يا څو گوني د پيدا کېدلو لامل گرځي چې يو بل سره غير مشابه دي. آيا ناسي تر اوسه مشابه يا يو شان غير گوني ليدلي دي؟ ځينی وخت آن مور او پلار بنسلي د غير گونو د جلا کولو ستونزه ولري. مشابه يا يو شان غير گوني د يوې هگي او يو سپرم د الفاح کېدو حاصل دی. په دې حالت، محکمې له دې چې د نېنلېدو عمل تر سره شي، دوي ډلې حجرې منځ ته راځي. هره ډله يو ماشوم منځ ته راوړي. مشابه غير گوني د ارثي په لحاظ سره يو شان دي. انسانان کولای شي څلور گوني، پنځه گوني او يا تر هغه ډېر نږی ته راوړی دا ډول څو گونو ماشومانو زېږول ډېر کم واقع کېږي.



فعايت

زده کوونکي په خپلو خپلوانو او يا نورو اشخاصو کې مشابه او غير مشابه غير گوني پيدا کړي. د هغوی په اړه دې معلومات راټول او د تورگي په منځ کې دې وړاندې کړي.

له نطفې څخه تر جنین پورې: د درېیمې ازني په پای کې، نطفه ۲ ملي متره اوږدوالی لري او د امینون (Amnion) په نامه د یوې نازکې پردې په وسیله را ټاو شوي وي. امینون د یو ډول مایع څخه ډک وي چې د زیان او ضربه څخه د جنین ساتنه په غاړه لري. د پنځمې اونۍ په دوران کې د نامه بند جوړیږي. دنامه بند، جنین د جوړې سره نښلوي. په دې مرحله کې، زړه، مغز او نور غړي او د وینې رگونه په جوړېدلو پیل کوي او په چټکۍ سره وده کوي. په پنځمو او شپږمو اوښو کې سترگې او غوږونه جوړیږي، او شوکې نخاع په وده پیل کوي. په شپږمه اونۍ کې کوچنۍ جانې جوانې بسکاره کیږي. دغه جوانې لاسونه او پښې دي. په نهمه اونۍ کې جنین په ورو او ضعيفو خوځېدلو پیل کوي او د ۱۱ او ۱۲ اوښو ترمنځ څخه وروسته جنین Embryo د (Fetus) په نامه یادېږي. په دیارلسمه اونۍ کې د جنین د مخ بڼه انسان ته ورته والی پیدا کوي. په اتلسمه اونۍ کې د داسې حرکاتو په سرته رسولو پیل کوي. چې مور هغه حس کوي. تر څلور ویشتمې اونۍ پورې د جنین اوږدوالی د ۲۵ څخه تر ۳۰ سانتي متره پورې رسېږي. د زېږېدنې څخه مخکې، جنین لږ څه رحم ته نښکته راځي او په معموله توګه سر د رحم د غاړې په خوا کې ځای نیسي.



(۸-۳) انځور د جنین د ودې پړاوونه

زیربیلانه:

په اووه دېر ششمو او اته دېر شسمو اونیوکي، جنین په کاله توگه وده کړي ده، معمولا د امیدواری یوه کاله دوره تقریبا ۴۰ اونۍ وخت نیسی. په واقعي توگه کله چې زیربیلانه پیل کیږي، د مور رحم د عضلو په یو لړ اقتباضاتو پیل کوي، چې د زیربیلاني د درد په نامه یادېږي. معمولا دغه اقتباضات جنین لاندې بنویوي او د ماشوم له زیربیلو څو شمېي وروسته جوړه هم خارجېږي.



سونوگرافي: د سونوگرافي تصویر اخستلو څخه په معموله توگه په امیدوارو بنځو کې گټه اخستل کېږي. په دې طریقه کې د الٹراسونډ د څپو په مرسته د بدن داخلي برخې لیدل کېږي، چې د هغوی په مرسته د جنین غټوالي، د ماشوم جنسیت او عمر ټاکل کېږي. همدارنگه د جنین روغتیا، لکه د زړه خوځیدل هم د سونو

گرافي له لاري تر سره کېږي. تر ششيمتي ميلادي پيرۍ پوري له جراحي پرته د بدن د داخلي غړو مطالعه يوازې د X وړانگو له لاري کيده، خو اوس د سمونو گرافي له عکسونو څخه د يوې بې خطره وسيلې په توگه زيات کار اخيستل کېږي. د نس دننه نورو غړو لکه زړه، پښتورگو، تناسلي غړي او نورو څخه هم د سمونو گرافي په واسطه عکس اخيستل کېږي.

د جنسي يو ځای کېدلو د لاري د ناروغيو ليرود بدل: داسې ناروغي شته چې له يو ناروغ شخص څخه د جنسي يو ځای کېدو پر مهال روغ شخص ته وليږدول شي. په دې ناروغيو باندې هر کال زيات شمېر خلک اخته کېږي. د دې ناروغيو له جملې څخه سموزاک، سفليس، ايدز او نور دي. د ايدز ناروغي د نورو څخه خطرناکه او وژونکې ده ځکه چې تر اوسه پورې هغې ته معمولي دارو پيدا شوي نه دي.

ايدز (AIDS): ايدز په ۱۹۸۰ کال کې وپېژندل شو. تر اوسه د پخوسو (۵۰) ميلونو پورې انسانان په ايدز اخته شوي دي چې د هغو جملو څخه ۱۲ ميلونه يې مړه شوي دي. د ايدز د ناروغي عامل د (HIV2) په نامه يو ويروس دي. دا ويروس د سپينوکروياتو پر يو ځانگړي گروپ باندې حمله کوي. په نتيجه کې د وخت په تېرېدو د بدن دفاعي ځواک لږکېږي. په پای کې د يوې ساده ناروغي په اخته کېدلو سره خپل ځان له لاسه ورکوي. په حقيقت کې د ايدز ويروس د وينې د سپينوکروياتو په تخریبولو سره د ناروغي منځ ته راوړونکو باکتریاوې، ويروسونه او فنجي گانې ته د فعاليت زمينه برابروي. HIV د وينې او د تناسلي کانالونو د مصاحبي پردو څخه بدن ته ننوځي.

د ايدز نښې: بدن ته د ايدز د ويروس د ننوتلو د وخت څخه د ايدز د ناروغي د نښو تر ښکاره کېدو پورې ښايي له څو ورځو څخه تر څو کلونو (لسو کلنو پورې) وخت ونيسي. سره له دې چې شخص په دې مسوده کې ظاهراً ناروغ نه دی، خو د ويروس ليرودنکي دي او کولای شي نور خلک په ويروس ککړ کړي. د HIV تشخيص

۱-Acquired Immuno Deficiency Syndrom

۲-Humain Immuno Deficiency

پیراځي د وینې د آزمايښت د تر سره کولو له لارې شمونې دي.
بدن ته د ایدز د ویروس د ننوتلو لارې: د انسان بدن ته د ایدز د ویروس ننوتل د درې لارو څخه شمونې دي.

۱- د ایدز په ویروس باندې د ککړو وینو زرقول او یا د هغو تېرو او پړې کوونکو توکو کارول چې د ایدز په ویروس باندې په ککړو وینو ککړ وي، لکه د پیچکاری د سرنج ستنه، د بریږي خړیلو چاره او خال وهلو وسایل.

۲- د جنسي تماس له لارې په ویروس باندې له ککړ شخص څخه روغ شخص ته ویروس لېږدېدل.

۳- د ایدز په ویروس باندې له ککړې مور څخه د هغې ماشوم ته د امیدواری او شېډو ورکولو په وخت کې د ویروس لېږدېدل. څېړنو څرگنده کړې چې د ایدز ویروس د هوا، اوبو، خوړو، لاس ورکولو، څیرې کولو، مځ ښکلولو او ښکولو له لارې له ککړ شخص څخه روغ شخص ته نه لېږدول کېږي.



۱- د بدن له مایعاتو څخه کوم یو کولای شي چې HIV ولېږدوي؟ کوم مایعات نشي کولای؟

۲- آیا د وینې لېږدول د HIV د لېږدولو لامل کېدای شي؟

۳- آیا د نیشه یې توکو پیچکاری کول پر HIV د ککړېدو لامل کېدای شي؟

د ایدز درملنه: ایدز هغه ناروغي ده چې تر اوسه پورې قطعي علاج نلري، خو مختلفو دواگانو په کارولو سره کوښښ کېږي چې د ناروغۍ د پرمختګ او د ویروس د فعالیت مخه ونیول شي. له کومه ځایه چې بشر توانېدلی چې ځینو سرګوني عفوني ناروغیو ته واکسین جوړ کړي. څېړونکي په دې هڅه دي چې د ایدز لپاره هم واکسین جوړ کړي، اما د ډېرو هڅو سره تر اوسه بریالي شوي نه دي. ځکه د مګرې د ایدز ناروغي د اخته کېدو د مخنیوي یوازینۍ لاره، زده کړه او له هغو کړنو څخه ډډه کول دي چې مور په دې ویروس ککړوي. مور د خپل روغتیا په وړاندې مسؤول یو او باید له هغه څخه ساتنه وکړو. دا زموږ دنده ده چې ځان د ناروغۍ له اخته کېدونه وساتو او د خپل ځان او نورو د صحت او روغتیا په فکر کې واوسو. نوځکه هر شی او هر څوک چې زموږ روغتیا

د خطر سره مخامخ کوي (نه) وړايو. بايد د خطر څخه وکو کړنو ته لکه نا مشر وعو جنسي اړيکو، نې بندو بارۍ، د سگرت خښولو او نورو نشئه را وړونکو موادو ته (نه) وړايو. په ايډز باندې اخته شخص د تداوی او لارښوونې مرکزونو ته مراجعه وکړي.



فعاليت

- ۱- ويل کيږي چې د هغو اشخاصو خطر چې د بې ښې ککړتيا په مرحله کې دي د هغو اشخاصو څخه چې ښې لرونکي وي ډېر زيات دي. په دې هکله بحث وکړئ.
- ۲- د اسلام د سښ دين د دستورو څخه يو هم په فردي او ټوليزو اړيکو کې د بې بندوباري څخه ډډه کول دي. د شخص، کورنۍ او د ټولني جسمي او روحي روغتيا باندې د دغه ديني لارښوونو رعايتول څه اغيزه لري؟
- ۳ فکر وکړئ د ايډز پر ناروغۍ له يو اخته شخص سره بايد ز موږ کړنه او چال چل څه ډول وي؟
- ۴ ستاسې په نظر دا حتمي ده چې په ايډز باندې ککړ شخص د ټولني څخه جلا کړي شي؟
- له ستاسې په نظر، ښوونځي د ځوانانو په ورغتيا ساتنه او وده کې څه تر سره کولای شي؟
- په توکلي کې پر خپلو وړاندیزونو باندې بحث وکړئ.

شنډوالي (حقامت) (Infertility): ښوونې ده چې ښځې شنډوي وي او په کاسل ډول په تخمدان کې هکې توليد نه کړي. د ښځو شنډ توب هغه عاملونه دي چې د نفيري پاسني برخې ته د سپرم د مخنيوي له امله وي. د بېلگې په توگه د رحم د غاړو څرنگوالي او د نفيري يا دواړو لارو بندښت له دې لاملونو څخه يو دي؛ خو شنډوالي تل د ښځې د تکثري سيستم په جوړښت او يا فعاليت کې د زيان له کبله نه وي. کېدای شي په نارينه کې سپرم په بشپړ ډول توليد نه شي او په نتيجه کې سپرمونه ونشي کولای چې هکې ته ورسېږي. په معمولي ډول که د روغو سپرمونو شمېر له بدن څخه د خارج شوي مايع (مني) په هر ملي ليتر کې د شلو ميلونو څخه لږ وي، هغه شخص شنډ دی. کله کله ډېری سپرمونه چې په سپرم کې توليديږي ضعيف او ناقص وي او نشي کولای چې هکې القاح کړي چې په نتيجه کې د شنډ توب حالت منځ ته راځي. د ځينو جنسي يوځای کېدلو ناروغۍ لکه سوزاک کولای شي په ښځو او نارينه وو کې د شنډيدلو لامل شي.



د اتم څپرکي لنډيز

- ▶ نړينه تکثيري سيستم سپرمونه توليدوي او بنېځينه تکثيري سيستم ته يې لېږدوي.
- ▶ تستوسترون د نړينه جنس بنېستيز هورمون څخه عبارت دی چې د خصمي په وسيله ترشح کيږي او د سپرمونو د توليد او تنظيم او د نړينه د ځانگړتياوو وده کټرولوي.
- ▶ د سپرم حجره له دريو برخو سره تړي، او لکۍ څخه جوړه شوي ده.
- ▶ د سپرم لکۍ يوه څوآکمنه قمچينه ده چې خپلو خوځېدو په وسيله، سپرم وړاندي پورې وهي.
- ▶ د بنېځينه جنس تکثيري سيستم هگۍ توليدوي، القاح شوي هگۍ تغذيه کوي، وده ورکوي او همدا رنگه ماشوم نړۍ ته راوړي.
- ▶ په بنېځينه جنس کې دوه دانې تخمدانو نه چې د جرگې د هگۍ بڼه لري د نس په تش ځای کې شته دي.
- ▶ استروجن او پروجسترون د بنېځينه جنس دوه هورمونونه دي چې د هگۍ آزاديدل تنظيموي او ځانگړي بنېځينه صفتونو ته وده ورکوي.
- ▶ د تخمدانونو هر يو د تغيري د کانال په وسيله رحم ته لاره لري.
- ▶ د تغيري د پوښ بڼويي عضلي انقباض، هگۍ د رحم په لور خوځوي.
- ▶ رحم يوعضلاتي منځ تشی غړی دی، او کله چې بنسټه اميدواره نه وي د هغې رحم د يو موټي په اندازه ده.
- ▶ د جنين انکشاف د پنځمې اونۍ په دوره کې زړه، مغز او نور غړي او د وينې رگونه په جوړېدو پيل او په چټکۍ وده کوي.
- ▶ په معموله توگه يوه د اميدواری دوره څه ناڅه ۴۰ اونۍ وخت نيسي.
- ▶ ډاکټران په معموله توگه د مور د رحم په دننه د جنين د ليدلو لپاره د سونوگرافي څخه گټه اخلي.
- ▶ انسانان معمولاً په هره زېږېدنه کې يو ماشوم نړۍ ته راولي؛ خو غبرگونې درې گوني او يا ډير زيږدېدل هم شوني دي.
- ▶ د تکثيري سيستم د ستونزو څخه کولای شو چې د شنبه والي او جنسي مقاربتې ناروغيو څخه نوم واخلو.
- ▶ د بڼري د چرود د پيچکاري ستنه او د خال وهلو له وسايلو څخه گټه اخستل چې په ايدز لرونکي وينې باندې ککړوي، د HIV د ويروس د لېږدزني لامل گرځي.

د اتم څپر کي پوښتني

۱. تستو سترون د زړينه د کوم تناسلي غړي په وسيله جوړيږي او څه دنده لري؟
۲. ولی خصمي د زېردني څخه لږ د مخه د خصميو کڅوړو ته، چي د نس له شاى څخه بهر دی. ننوځي ؟ واضح کړئ.
۳. د هگي- القاح د بنځني د تناسلي غړي په کومه برخه کي تر سره کيږي؟
۴. يو بالغ سپرم له کومو برخو څخه جوړ شوی دی.
۵. په بنځينه جنس کي د استروجن او پروجسترون هورمونونه کومې دندې لري؟
۶. رشيم او جنين يو له بل سره څه توپير لري؟
- تنش ځايونه په خپلو کتابچو کي په مناسبو کلمو کي کړئ.
۷. د سپرم مخځني برخه ډېر مقدار..... لري چي د سپرم خوځېدلو لپاره لازمه انرژي برابروي.
۸. د بنځينه تکثري سيستم عمده دندې..... او..... دي.
۹. القاح شوي هگي د..... په نامه يادېږي.
- صحیح ځواب وټاکئ او په خپلو کتابچو کي وليکئ
۱۰. د بنځينه جنس د عمر په اوږدو کي يواځي..... هگي بالغ کيږي.
- الف: دوه ميلونه
- ب: ۳۰۰۰ تر ۴۰۰۰
- ج: يو ميلون
- د: هيڅ يو
۱۱. لومړی ورځ چي وينه او د نسج توتي د رحم څخه بهر راوځي، د..... دورې لومړی ورځ شمېرل کيږي.
- الف: تخمه گاډاري ب: حيض ج: القاح د: هيڅ يو

د چاپریال ستونزې او حل یې

ښايي تاسو د ککړو اوبو، هوا او خاورې او يا د ځنگلونو د تخریب يا د اوزون د پور نارکېدو او د هغوی د خطرونو په باره کې گواښونه اورېدلې وي. آیا نور گواښونه مو اورېدلې دي؟

د ۱۷۰۰ میلادي صنعتي انقلاب څخه وروسته، خلکو ماشينونو ته زياته تکيه ووهله چې په نتیجه کې ډېر مضره تګي هوا، اوبو او خاورو ته ننوتل. همدارنگه د اضافي او بې گټې توکو انبارول، د نفوسو ورځينی زیاتوالی او په نړۍ کې د صنعت او تخنیک چټک پرمختګ ټول لاملونه دي چې د ستونزو د منځ ته راتلو لامل ګرځي او د انسانانو ژوند د خطر سره مخامخ کوي. نو ځکه د مصوّن ژوند په خاطر د چاپریال د ککړېدو مخنیوی وکړو تر څو چې د چاپریال ستونزې ونه لرو. له دې کبله تاسې په دې څپرکي کې د چاپریال د ستونزو د ستونزو د حل او د هغه د اجزاو سره لازمه اشنائي تر لاسه کوي تر څو وکولای شي چې د خپل د چاپریال د ککړېدو په مخنیوي کې ونډه واخلي. او نور خلک د چاپریال د ککړتیا د زیانونو څخه خبر کړي او د هغوی سره د چاپریال د ستونزو په حلونو کې مرسته وکړي.




د چاپیریال ککړتیا وی

په چاپیریال کې ککړتیا له نا غوښتل شموی بدلون څخه عبارت ده چې له امله یې د چاپیریال کیفیت ټیټیږي. ککړتیا بښلې چې طبیعي اوسې منښا یې د طبیعت څخه وي لکه طوفانونه چې د خاورو او دورو د پاڅېدو لامل کېږي. یا اور غورځوونکي (آتش فشان) چې ډیر لوگي او مختلف غازونه تولیدوي. رلي نن هغه ککړتیاوي چې د هغوی منښا انساني فعالیتونه دي د ژوند د چاپیریال سلامتیا او ژوند یو موجوداتو ته ډیر خطرونه لري. دا ډول ککړتیاوي د مصنوعي ککړتیاوو په نامه یادېږي، ځکه چې د هغوي منښا په طبیعت کې نښته. لکه د هوا ککړتیا، د فابریکو او موټرو د لوگي له امله د هوا، اوبو او خاورې ککړتیاوي د هغو ککړتیاوو له ډولونو څخه دي چې د چاپیریال ستونزې منځ ته راوړي. اوس هر یوه ککړتیا په جلا جلا توگه توضیح کوو.

د هوا ککړتیا (Air pollution)

که چېرې یو یا څو ککړوونکي توکي د ټاکلي غلظت سره د یوې مودې لپاره په هوا کې شتون ولري، هغه ډول چې انسان، نبات، حیوان او توکو ته زیان ورسوي او د ژوند د چاپیریال د کیفیت د ټیټېدو لامل وگرځي، هغې هوا ته ککړه هوا ویل کېږي. د هوا په ککړونکي توکو کې غازونه، د فابریکو لوگي، موټرونه، ماشینونه، راز راز بټي، گاني، بخارې، د ډبرو سکاره، تیل، لرگي، طبیعي غاز، خاورې او دورې او نور شامل دي. لوگي او غازونه چې تولیدېږي له کاربن ډای آکساید، کاربن مونو آکساید، سلفر ډای اوکساید، د نایتروجن آکساید او د ځینې هایدروکاربونونو څخه عبارت دي چې هر یو په یو ډول د هوا د ککړتیا لامل گرځي. که چېرې د دې غازونو مقدار په هوا کې ډیر شي پر حیواناتو او نباتاتو باندې منفي اغیزه کوي او د انسانانو د روغتیا لپاره زیانمن او خطرناکه وي. د بېلگې په توگه که چېرې د سلفر ډای اوکساید غاز چې د ډبرو د سکرو د سوځېدلو څخه تولیدېږي، تنفس شي د سترگو، بزې او غوږونو د تخریش لامل او ان د مړینې لامل کېږي.

سلفر دای اوکساید، نباتاتو ته هم زیان لری. سلفر دای اوکساید د پانی د حجرو د سسورپو له لاری پانی ته ننوزی او د لندبل په شتون د اوبو سره تعامل کوي او د گوگروتیزاب (H_2SO_4) جوړوي. د گوگروتیزاب د پانی د حجرو د مړاوي کېدو او ان د هغو د له منځه تللو لامل ګرځي او د هغو پر مخ ژبر رنګه داغونه (لکي) تولید وي. همدارنګه د گوگروتیزاب تعمیراتو یا کورونو او د ځمکي پر مخ د فلزاتو د فرسود ګی لامل کېږي. کاربن دای اوکساید د هوا یو عمده ککرونګي دی چې یوه برخه یې د نباتاتو په وسیله جذب او د هغه څخه د خپل غذایي توکو په جوړولو کې کار اخلي او بله برخه یې د ځمکي په شاوخوا د کاربن دای اوکساید یوه طبقه جوړوي. کله چې د لمر تودوخې ځمکي ته رسېږي، یوه اندازه یې د ځمکي په وسیله جذب او تور یې بیرته منعکس کېږي، ولی د کاربن دای اوکساید طبقه نوموړی تودوخې جذبوي او نه یې پر یږدي چې د ځمکي له سطحې څخه وتبښتي (۹-۱) شکل. کاربن دای اوکساید په تدریجي ډول اخستل شوي تودوخه د ځمکي اتموسفیر ته آزادوي او د ځمکي پر مخ د تودوخې د لوړوالي لامل ګرځي.



(۹-۱) انځور د فابریکو د ډوډ په واسطه د هوا ککرتیا



فکر وکړي

په اوم ټولګي کې په نباتاتو کې د ضیایي ترکیب سره اشنا شوی، ذکر شوي عملیه د الوده ګي په له منځه وړلو کې څه نقش لري.

د اوبو ککړتيا (Water pollution)

د ندری د روغتیا د سازمان د تعریف له مخې اوبو ته هغه وخت ککړې ویل کېږي چې د انسان د فعالیت له امله، په مستقیمه او یا غیر مستقیمه توګه په ترکیب او خواصو کې یې داسې تغییر پېښ شي چې د دې تغییراتو له امله یې د هغو مصرفونو لپاره چې مخکې په طبیعي حالت کې کارېدل، نا مطلوبې شي. یا په ساده عبارت کله چې په اوبو کې بهرنی توکي هغې کچې ته ورسېږي چې کارول یې زیان ورسوي، ککړې اوبه ورته ویل کېږي.

پوهیږو چې اوبې د ځمکې څخه ډېره برخه پوښلې ده. یواځې ۳ فیصده، تازه اوبه دي چې زیاته برخه یې په قطبنو کې د کنگل په بڼه شتون لري. د جهیلونو، سیندونو، چینو او څاګانو تازه اوبه یواځې په سسلو کې ۱،۱ د ځمکې د مخ اوبه تشکیلوي. د حیواناتو، نباتاتو او انسانانو ژوند د اوبو پورې اړه لري. په ناستف سره د کورونو، بنسارونو، فابریکو فاضله اوبه او د کرنې فاضله اوبه په سیندونو، چینو او څاګانو کې اچول او خوشی کول د اوبو د ککړېدلو لامل او د مختلغو ناروغيو د خپرېدلو لامل کېږي. د کرنې کارول شوي اوبه په حقیقت کې هغه اوبه دي چې د حیواني او کیمیاوي سرې، د حشرود وژونکو دواګانو لکه DDT او نور ډول دواګانو په وسیله ککړې کېږي، د سیندونو، چینو او څاه ګانو اوبو ته له رسېدو وروسته، له هغې څخه ګټه اخستل نه یواځې انسانانو ته زیان لري،

(۹۲) انځور د اوبو ککړتیا



بلکي د کبانو لپاره او هغو الوتونکوته چي د نوسورو کبانو خضه تغذيه کوي هم زيانمن او خطرناکه دي.دغه راز ذره بيني موجودات لکه بکتریاوي او ويروسونه هم د اوبو د ککړېدلو لامل کېږي او د مختلفو ناروغیو د رامنځته کېدو لامل کېږي. د اوبو پر مخ د تیلو توپېدل هم د اوبو د ککړېدو لامل گرځي ، ځکه چي د تیلو هغه پور چي د اوبو پر مخ جوړېږي اوبو ته د اګسیجن او د لمر د وړانګو د ننوتلو مخنیوی کوي او ځيني وخت د سمندري ژوو د مړیني لامل کېږي. د هوا او د غبرککړتیا پر خلاف د اوبو ککړتیا یو نښاري مسئله نه شمېرل کېږي، بلکه د اوبو د ککړتیا مسئله پر نښارونو سر بېره کلیوالي چاپیریال ته هم غځېدلې ده. ځکه چي سیندونه، چيني او څاګانې په کلیو کې هم د انسانانو د بې احتیاطي لښه امله ککړي کېږي. همدارنګه تر ځمکي لاندې اوبه د ککړو اوبو د نفوذ، د خنډونو، د فابریکو د کیمیاوي توکو او هغه اوبه چي د کالیو پرېمختلو، د آښیزخاني د لوبښو او د موټرو د پرېمختلو او هم د کرنیزو ځمکو د اوبه کولو وروسته چي په ځمکه کې جذبېږي، ککړېږي، متأسفانه هېڅ یوه اغېزمنه طریقه د ککړتیا د مخنیوی لپاره په نظر کې نیول شوي نه ده؛ نو ځکه باید کوښښ وشي چي تقي د کور له څاه خضه پوره اندازه لیري جوړه کړای شي او پري نږدو چي د تشنابونو، آښیزخانو او کالیو مېخلو اوبه، څاګانو، چينو او سیندونو ته ننوزي، کوي چي د گټه اخستلو وړ اوبو سهمي سر چيني دي.

د خاوري ککړتیا (Soil pollution)

خاوره د ځمکي د مخ یو قشر یا پوښ دي چي د چاپیریال د ژوندیو او نا ژوندیو اجزاؤ په تماس سره تغیر مومي. د ځمکي خاورین پوښ چي نباتات په کې شسټه کېږي، له یو نه تر درېو مترو پورې ژوروالی لري. د ژور والي د پور په بهلا بېلو پړاوونو کې د تېرو او کابو د اوبه کېدو یا توقي کېدو او له عضوي توکو سره یو ځای کېدو وروسته رامنځته شوی دی. په هر چاپیریال کې یو ډول ځانګړې خاوره منځ ته راځي چي د وخت په تیریدو او کیمیاوي ځانګړتیا وو له امله

توپیر لری. لکه څنگه چې د خاوري څخه د کرنې او کښت لپاره گڼه اغېستل کېږي، له دې امله انسانان د کرنیزو آفتونو د له منځه یولو او د کرنیزو حاصلاتو د کمیت او کیفیت د ښه والي په خاطر، مختلف کیمیاوي توکي لکه حشره وژونکي، دچېچیسو او نباتي میکروبونو ضد دواگانې او د هرزه وښو په وړاندې کیمیاوي توکي کاروي. د دې درملو کارول د زیان رسوونکو حشراتو، میکروبونو او وښو په له منځه وړلو بر سیره کروندې هم ککړوي او کله چې پردې کیمیاوي توکو باندې ککړ محصولات وخورې، انسانان، نباتات او حیوانات او د هغوی ژوند له خطر سره مخامخ کېږي او ځینې وخت یې د سرینې لامل کېږي.

د غږ ککړتیا (Sound pollution)

په عمومي توگه هغه غږونه چې انسانان د هغوی اوريدلوته ماليل نه وي، ان د موسیقۍ غږ، چې په نابالي توگه د انسان غږونه ورسپړي او د انسان د آرامۍ د منځه تللو لامل شي، د غږ (صوت) د ککړتیا په نامه یادېږي. په بل عبارت د غږ ککړتیا هله منځ ته راځي چې غږ لوړ او ډول ډول نابالي غږونه په چاپیریال کې وي. د غږ د ککړتیا په عنوان، د غږ د ډول درک او د شخص په فکر کولو پورې اړه نیسي. یعنې یو مطلوب غږ ښايي یو بل شخص ته نامطلوب اوسي. یو آرام او پرته له غږونو چاپیریال، په ځانگړې توگه د استراحت، خوب او د فکري چارو د تر سره کولو په وخت کې د انسانانو د بنسټیز ضرورتونو له جملې څخه دي، نوځکه هر هغه غږ چې په یو ډول د انسان ارامۍ له منځه وړي هغه د غږ ککړتیا گڼل کېږي. دغه ککړتیا د نورو ککړتیاوو بر خلاف پر ښاري او گڼ میشتو چاپیریالونو کې، په ځانگړې توگه په صنعتي سیمو کې وي. دبهلگي په ډول د موټرو د خوځېدلو غږونه، جوړښتیز ماشینونه، کارخانې، د راډیو او تلويزيون له حده لوړ غږونه، د الوتکو غږ او نور هغه عاملونه دي چې د غږ د ککړتیا سبب گرځي.

د غږ ککړتیا څه پایلې منځ ته راوړي؟ پر انسان باندې د غږ د ککړتیا په اغېزو کې په عمومي ډول روحي گډوډۍ، فکري پاشلتیا او د اورېدو د ځواک ټیټېدل شامل دي. داسې تصور ونه شي چې

زياتو او لوړو غوږونو سره عادت كمول د هغو په وړاندې مصؤنيت راوړي، بلکې دا عادت په حقيقت کې د حساسيت ټيټېدل دي او ککرتيا همدارنگه په تدريجي ډول خپلې نا مطلوبې اغېزې پر ځای پېرېږي.



فعاليت

زه کورونکې دي، هغه غوږونه په کتابجو کې ولېکې، چې د ناآرامۍ لامل بې گرځي او بيا دې د ټولگي په وړاندې بيان کړي.

د چاپيريال د ستونزو هوارول

په نړۍ کې د نفوسو د زياتوالي سره سم انسانان هغه زېرمو ته، چې گټه ورڅخه اخلي، ډېر اړتيا لري. د بېلگې په توگه: خواړه، روغتيا ساتنه، کور، ترانسپورت او نور چې دا ټول اړتياوې پر چاپيريال خپل اغېزې پر ځای پېرېږي. که ځلاک له دغو زېرمو څخه په نېمه او عاقلانه توگه گټه وانخلي په حقيقت کې د هواء خاورو او اوبو ککرتيا زياتوي. له دې امله روغ طبيعي چاپيريال له منځه ځي او په نتيجه کې د ژوند يو موجوداتو ډولونه هم له منځه ځي. ولې داسې لارې شته چې انسانان کولای شي د خپل چاپيريال ساتنه وکړي چې لاندې توضيح کېږي.

د چاپيريال د ککرتيا لږ کول: آيا که مو فکر کړې دى چې د چاپيريال د ساتنې، د ککرتيا د له منځه وړلو لپاره کو بهې سسټلې اړينې دي؟ په کومو لارو کولای شو چې د چاپيريال ککرتيا لږ کړو؟

کولای شو چې د چاپيريال ککرتيا په مختلفو لارو لږه کړو. په دې ډول چې په ورځني ژوند کې د امکان تر حده، د هغو توکو څخه استفاده وشي چې د ککرتيا لامل ونه گرځي. د بېلگې په ډول د لږ واټن لپاره له بايسکل څخه گټه واخستل شي نه د موټر څخه، ځکه چې د موټر لوگي د هوا د ککرتيا لامل گرځي او د هغو موټرو يا ماشين، آلاتو څخه گټه واخستل شي چې د لوگي د تصفيې لپاره فلټرونه ولري. په کورونو، فابريکو، مارکېټونو او دولتي دوايرو کې پاملرنه وشي تر څو بېکاره توکي، لکه پلاستيک، د سېو، سېو او غذايي موادو پاتې شوني او نور اضافي بېکاره توکي په منظمه توگه کڅوړو کې واچول

ششي او د خځولو نږدې کثافت دانې ته وليرودل شسي په سرکونو او پارکونو کې د خځولو او پاتې شونو له اچولو څخه مخنيوی وشي او د چاپيريال پاک ساتني ته پوره پام وشي. د چاپيريال دککرتيا او د انسان او نورو حيواناتو پر روغتيا او سلامتيا باندي د منفي اغيزو په اړه د خلکو پوره زياته شسي.

بيا خلي کارول (Reuse): آيا کوم وخت مو سات شوي چيني لوښي بېرته جوړ کړي او ليري مو اچولي نه دي؟ که دا کار مو کړي وي په حقيقت کې مو له ترهيم څخه وروسته په بيا کاروني هم په هغو سرچينو کې سيماکړي، چي چيني لوښي ور څخه جوړيږي او هم مو د خپل اقتصاد او د ژوندانه د چاپيريال د پاکوالي سره مو مرسته کړي ده؛ ځکه چي د توکي څخه بيا گټه اخستل د سرچينو د ساتلو يوه مهمه لاره ده. په همدې ډول د زرو تېرونو، لرگيو او تعميراتي توکو څخه بيا گټه اخستل او نوري لاري د زيرمو د ساتني او له کورني اقتصاد سره مرسته او په پای کې د هيواد د اقتصاد سره مرسته ده.

بيا خلي دوران (Recycle): د بيا خلي گټي اخستني يوه بله بېلگه د بيا دوران څخه عبارت دي او بيا دوران په حقيقت کې د توکو د ضايع کېدلو مخنيوی دی. ځيني وخت د بيا دوران ور توکو څخه کولای شو کمب سټ لومړني توکي جوړ کړو. د بېلگي په توگه کولای شو د بيا دوران له لاري زور کاغذ، په نوي کاغذ تبديل او له هغه څخه د پخوا په شان گټه واخلو. دوران د ور توکو نوري بېلگي عبارت دي، له پلاستيک، کاغذ، المونيمي قطي، لرگي، شيشه، اوسپنه او نور. که له دوران ور کاغذ څخه بيا کاغذ جوړ شسي، په حقيقت کې ميلياردونو ونو ته، چي د کاغذ د جوړولو، د اکسيجن د توليد، د چاپيريال د سمسورتي او د خاوري په ساتنه کې له هغوی څخه گټه اخستل کېږي، د وهلو او قطع کولو څخه مو نجات ورکړی دی. همدارنگه د بيا دوران ور المونيمي قطبو څخه بيا گټه اخستل %۹۵ د هغي انرژۍ د مصرفولو څخه، چي د المونيم منرال په المونيم باندي تبديليږي، مخنيوی کوي.



(۹۳) انځور دشپانو د بيا خلي دوران



فعاليت

زده کونکي دي د خپل شاوخوا چاپيريال څخه د بيا دوران ور توکي ټول کړي. بيا دي زده کونکي د راټولو شويو توکو په هکله څرگندې ورکړي او له هغوی څخه د بيا گټي اخستلو لاري دي بيان کړي.



د نهم خپر کي لنډيز

- ▲ هر هغه لامل، چي د ژوند د چاپيريال پاک حالت ته داسي تغير ورکړي چي خلک يې و نه غواړي د چاپيريال، د ککرتيا په نامه يادېږي.
- ▲ په نړۍ کي د نفوسو ورځني زياتوالی او د صنعت پرمختيا ټول هغه لاملونه دي چي د ژوندانه د چاپيريال د ستونزو لامل گرځي.
- ▲ د هوا ککرتيا د هغو غازونو او لوگيو څخه هوا ته پورته کېږي.
- ▲ غازونو او لرگيو له سوند څخه هوا ته پورته کېږي.
- ▲ خاوره د کيمياوي سري، حشره وژونکو دواگانو، د هرزه گياوو ضد درملو او د حيواني او نباتي ناروغيو ضد درملو په وسيله ککر کېږي.
- ▲ اوبه د پخلينجې اضافي او پاتې شونو، فابريکو، بسارونو او د کرنې د لگول شورو اوبو پاتې برخه چي سيندونو، چينو او څاگانو ته لاره مومي، ککرېږي.

د نهم خپر کي پوښتي

سم خواب وټاکي او په خپلو کتابچو کي يې وليکي
۱. د هواله ککرونکو اجزاو څخه يو يې..... دی.

الف: د هايډروجن غاز ب: د آکسيجن غاز ج: د کاربن مونو آکسايډ غاز د: هېڅ يو

۲. يو حشره وژونکی چي د خاورې د ککرتيا لامل کېږي عبارت دی له:

الف: آسپرين ب: DDT ج: ماگه د: الف او ج

تشرېحي پوښتي

۳. د هوا د ککرتيا د عواملو نوم راخلي او رواني چي د هوا ککرتيا د انسان د صحت لپاره څه زيان لري؟
۴. د خاورې د ککرتيا عوامل بيان کړئ.
۵. د چاپيريال د ستونزو د حل د لارو نومونه راخلي او د هغو څخه يوه ئي تشرېح کړئ.
۶. کاربن دای اوکسايډ نباتاتو او حيواناتو ته څه گټه لري؟
۷. په څه ډول کولای شئ چي د چاپيريال ککرتيا لږ کړئ؟